

# Урок математики в 1 классе «Уравнение»



# Однажды Красная Шапочка решила пойти в гости к бабушке

Вычислите, сколько  
разных цветов  
собрала Красная  
Шапочка по дороге  
к Бабушке.

- $9 - 6 + 2 =$
- $5 + 2 - 4 =$
- $4 + 5 - 1 =$
- $6 - 2 + 5 =$
- $4 + 2 - 0 =$
- $7 - 5 + 0 =$





2

5

9




3

# На своём пути она повстречала лису...

- $2\text{л} + 7\text{л} > 2\text{л} + 5\text{л}$
- $3\text{кг} + 4\text{кг} = 4\text{кг} + 3\text{кг}$
- $9\text{кг} - 6\text{кг} > 9\text{кг} - 7\text{кг}$
- $7\text{см} - 5\text{см} < 9\text{см} - 5\text{см}$







# МАГАЗИН


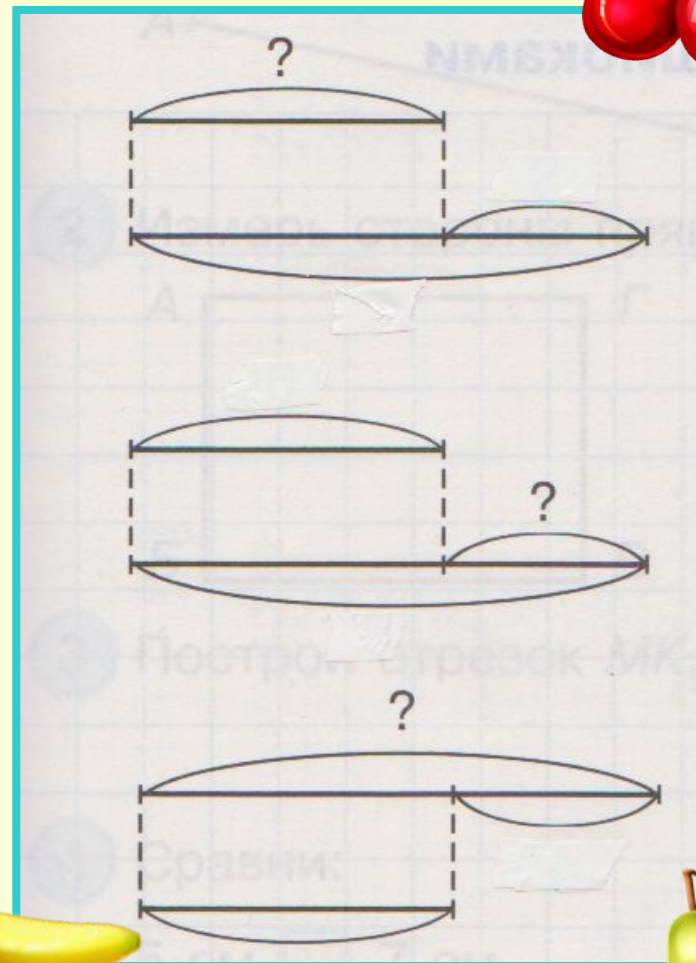



- В магазине она купила 1 кг бананов, их было на 2 кг меньше, чем яблок.

Сколько весят яблоки?



Выбери схему



## И помог ей ...

$$3 + \square = 8$$

$$7 - \square = 4$$

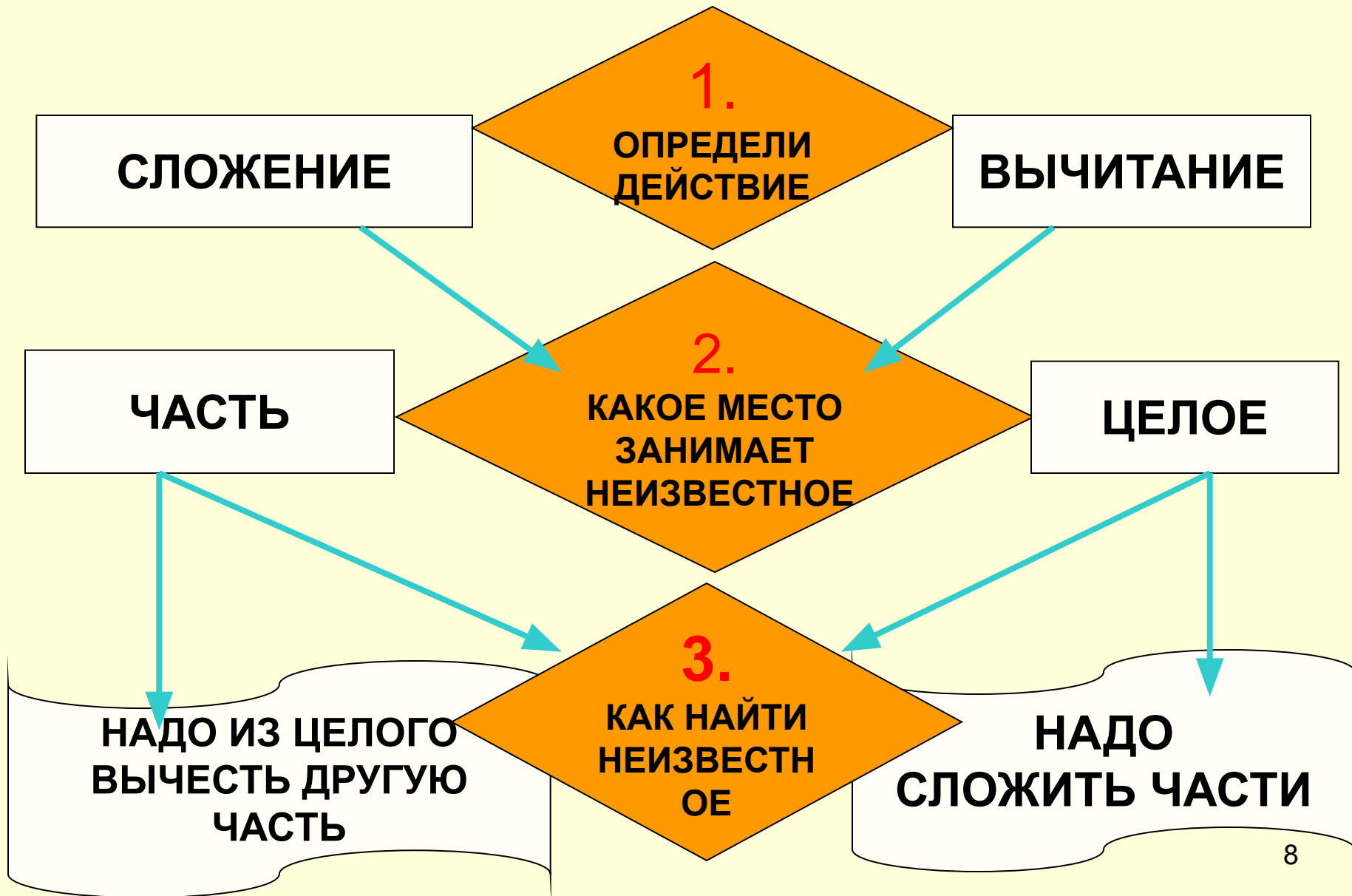
$$9 - \square = 3$$

$$\square + 4 = 9$$

Как называются  
равенства  
с неизвестным?



# Решение уравнений





# Реши уравнение. Найди корень уравнения

$$\textcircled{X} - 3 = 4$$

$$X = 3 + 4$$

$$X = 7$$

$$\textcircled{8} - X = 3$$

$$X = 8 - 3$$

$$X = 5$$

$$6 + X = \textcircled{9}$$

$$X = 9 - 6$$

$$X = 3$$



# Наконец – то Красная Шапочка дошла до домика Бабушки.





# Бабушка угощала внучку вкусными пирогами.

- Бабушка испекла 3 мясных пирога, а картофельных на 2 меньше. Сколько всего пирогов испекла Бабушка?

Реши задачу.



# Тест

- 1. Найди выражения с ответом **9**

$4+6$     $2+5+3$     $9-2$     $5-3+1$     $8-1+2$

- 2. **10**-это ....

$7$  и  $3$     $5$  и  $4$     $8$  и  $1$     $6$  и  $3$     $5$  и  $3$

- 3. Какое число меньше **8** на **3** ?

$4$     $6$     $5$     $3$     $7$

**спасибо!**