



Сложение и вычитание в пределах 10







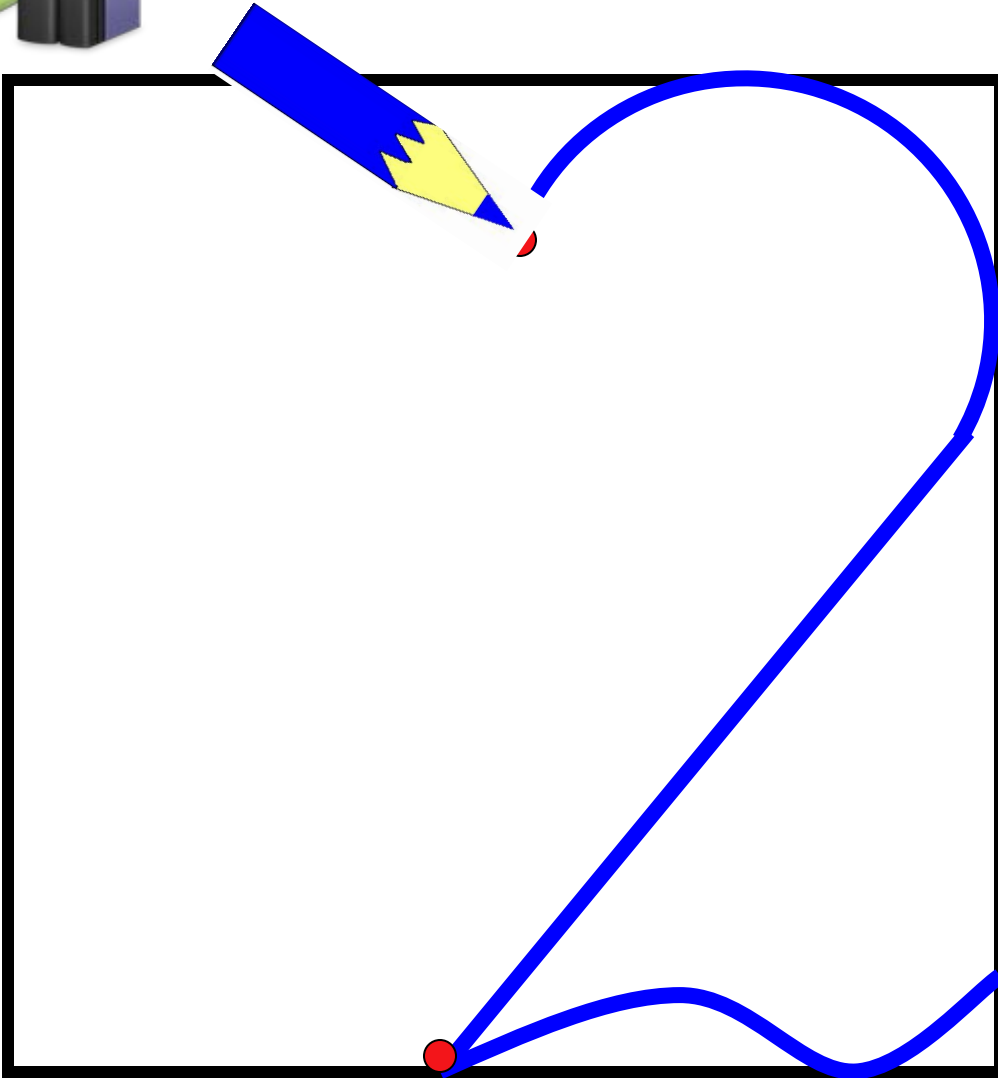
COBA

4

2

2







Полярная сова



Мохноногий сыч

Ястребиная сова




Бородатая неясыть



Воробьиный сыч



Длиннохвостая неясыть



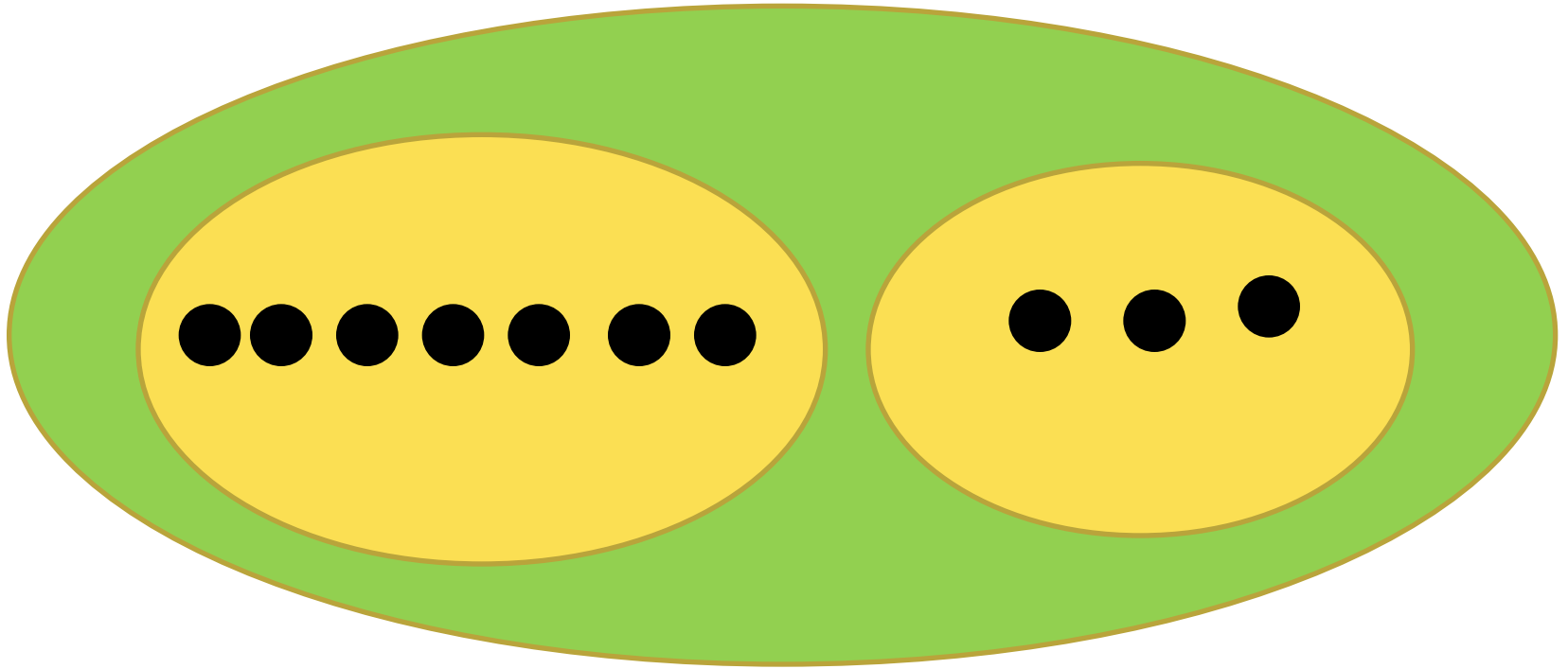


COBA





Задачи



$$7 + 3 = 10 \text{ (к.)}$$

Ответ: 10 конфет.



8 к.

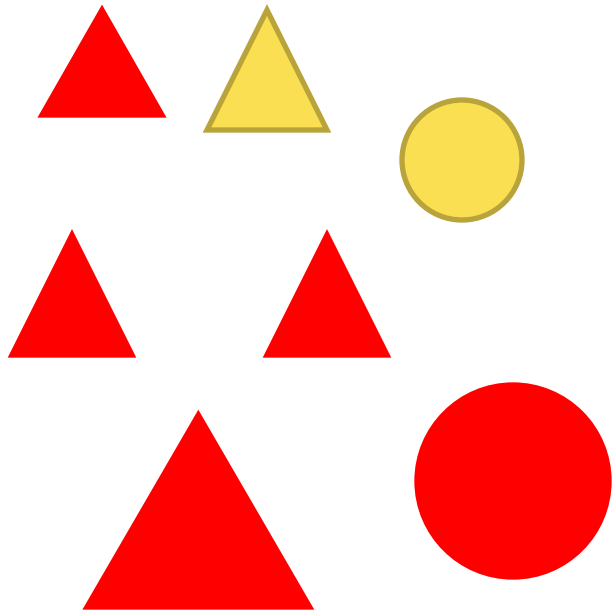


5 к.

? к.

$$8 - 5 = 3 \text{ (к.)}$$

Ответ: 5 кубиков.




$$2 + 5 = 7$$

$$8 - 2 = 6$$

$$7 - 8 = \text{Л}$$

$$8 - 7 = 1$$



$$5+4=9$$

$$10-4=6$$

$$2+8=10$$


$$8-3=5$$

$$0+8=8$$

$$9-2=7$$

$$6+3=9$$

$$7-5=2$$



$$10-2+0=8$$

$$7-3+5=9$$

$$10-4+2=8$$

$$8-2+1=7$$

$$8-5+6=9$$

$$10-0-4=6$$

$$5-3+4=6$$

$$9-3-4=2$$



Я отлично работал,
все понял, могу
объяснить другим.



Я хорошо
работал и все
понял.



Мне нужна
консультация.



A vibrant night cityscape with fireworks and a crescent moon, framed by a decorative border. The scene is filled with colorful lights and a festive atmosphere. The word "МОЛОДЦЫ" is overlaid in the center in a bold, purple font.

МОЛОДЦЫ