



*Ножки на пол все
поставим,
Спинки все мы разогнём,
Руку левую на стол
Сверху правую кладё.*







(САНТИМЕТР) СМ,

(ДЕЦИМЕТР) ДМ

10 СМ = 1 ДМ





1. Карточки с какими числами перевернуты?

9

10

11

12

13

14

18

16

17

18

19

20





$$11 \text{ см} = 1 \text{ дм } 1 \text{ см}$$

$$12 \text{ см} = 1 \text{ дм } 2 \text{ см}$$

$$13 \text{ см} = 1 \text{ дм } 3 \text{ см}$$

$$14 \text{ см} = 1 \text{ дм } 4 \text{ см}$$

$$15 \text{ см} = 1 \text{ дм } 5 \text{ см}$$

$$16 \text{ см} = 1 \text{ дм } 6 \text{ см}$$


$$17 \text{ см} = 1 \text{ дм } 7 \text{ см}$$

$$18 \text{ см} = 1 \text{ дм } 8 \text{ см}$$

$$19 \text{ см} = 1 \text{ дм } 9 \text{ см}$$


$$20 \text{ см} = 2 \text{ дм}$$







1 дм = 10 см



Оцени свою работу на уроке!

- *сегодня я узнал...*
- *было интересно...*
- *было трудно...*
- *я понял, что...*
- *теперь я могу...*
- *я научился...*
- *у меня получилось*
- *меня удивило*



Получилось, но
не так как хотелось



Все получилось



Требуется помощь





**Спасибо, ребята. Теперь
я знаю, что 1 дм это 10
см. И в дециметрах
удобно измерять
большие предметы.
Спасибо
за работу!**





**Рисунок взят с сайта
<http://images.yandex.ru>**

**АВТОР ЭЛЕКТРОННОЙ ФИЗМИНУТКИ ДЛЯ ГЛАЗ
ГАЛКИНА И.А., УЧИТЕЛЬ НАЧАЛЬНЫХ КЛАССОВ
МОУ «ВОДОВАТОВСКАЯ СОШ» АРЗАМАССКОГО РАЙОНА,
НИЖЕГОРОДСКОЙ ОБЛАСТИ.**