


Решение задач на увеличение







а

Королёва Ирина Николаевна
учитель начальных классов
МКОУ СОШ №2
г.Нефтекамск

УСТНЫЙ СЧЁТ

В пруду плавали 7 утят, к ним
приплыли ещё 2. Сколько всего
утят плавает в пруду? $+ 2 = 9$



У Серёжи 9 машин, а у Вити 5. На сколько больше машин у Серёжи, чем у Вити?

$$9 - 5 = 4$$



Мама испекла 10 пирожков.
4 пирожка съели. Сколько
осталось? $10 - 4 = 6$



Молчанка

- Увеличьте 2 на 3
- Уменьшите 7 на 2
- 1 слагаемое 6, 2 слагаемое – 2, найдите сумму
- От 6 отнимите 1
- Уменьшаемое 5, вычитаемое – 2, найдите разность



Было - 4

Стало - ? на 2 больше

$$4 + 2 = 6 \text{ (г)}$$

Ответ: 6 гостей стало.



столько же
и ещё...

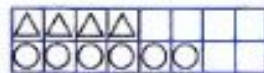


меньшее
число

большее
число

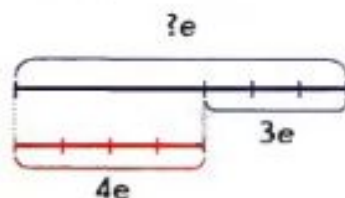
1 Сравни количество треугольников и кругов на рисунке Кати.

Кругов на **2 больше**, чем треугольников;



столько же и ещё **2**.

2 Катя начертила красный отрезок длиной $4e$, а синий на $3e$ длиннее. Из каких частей состоит синий отрезок? Чему равна его длина?



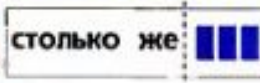
$$4 \square + 3 \square = \square$$

3 Петя по рисунку составил задачу и схему. Прочитай задачу. Расскажи, что записано на схеме. Прочитай условие, назови вопрос задачи.

ПЕТЯ



КАТЯ



7 м.

П



К



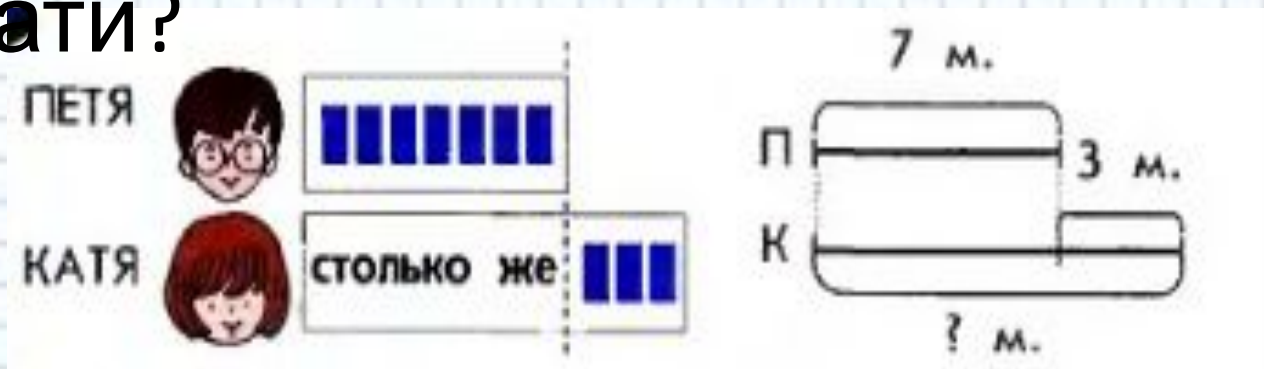
? м.

У Пети 7 марок, а у Кати на 3 марки больше. Сколько марок у Кати?

• Объясни запись Пети: $7 + 3 = 10$.

3

У Пети 7 марок, а у Кати на 3 марки больше. Сколько марок у Кати?



У Пети – 7 м.

У Кати - ? на 3 б.

$$7 + 3 = 10 \text{ (м.)}$$

Ответ: 10 марок у Кати.

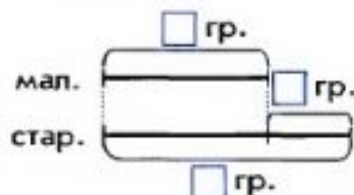


слагаемое

сумма

4 Прочитай задачу, которую составил Вова. Помоги ему записать её решение.

У малышки Аннушки 3 гриба, а у старушки Аннушки на 2 гриба больше. Сколько грибов у старушки Аннушки?



5 Придумай сам и реши задачу, в вопросе которой есть слова: «На сколько больше (меньше)...»

6 Преврати записи Лены в верные равенства. Вставь вместо «*» знак «+» или «-».

$$8 * 1 * 1 = 8$$

$$9 * 9 * 4 = 4$$

$$10 * 0 * 4 = 6$$

$$6 * 4 * 9 = 1$$

7 Во дворе гуляли 10 детей: мальчики и девочки. Девочек было меньше, чем мальчиков. Расскажи, сколько мальчиков и сколько девочек могли гулять во дворе.

Всего	10	10	10	10
Мальчики				
Девочки				

8 * Как из 8 палочек сложить прямоугольник? Сколько есть способов решения этой задачи?

ИСТОЧНИК

<http://900igr.net/photo/predmety/igrushki-7.files/036-Utjonok.html>

http://segalega.ucoz.ru/news/kartinki_s_detmi_deti_detishki_malchiki_i_devochki/2011-05-25-206

http://otzovik.com/reviews/igrushechnie_mashinki_tachki/

<http://www.chitalnya.ru/work/834225/>

http://www.youloveit.ru/gallery/smeshariki_kartinki/84436-smeshariki-24.html

http://smeshariki-mir.ru/?page_id=4810

http://smeshariki-mir.ru/?page_id=3004