


**Обобщение
изученного.**




МАМА ДАДА МАМА
ДЕСНАЯ

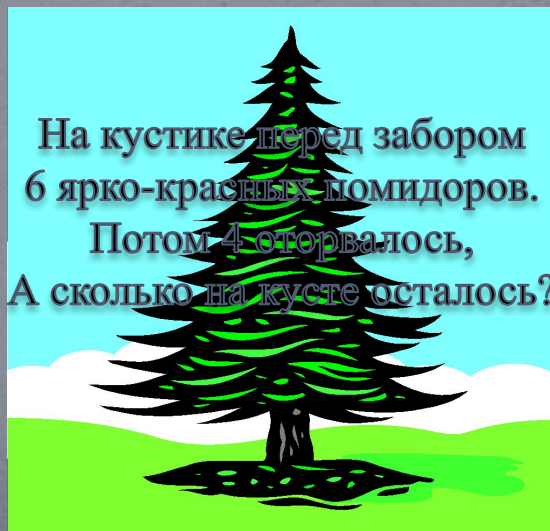




У маленькой Светы
Четыре конфеты.
Еще три дала Алла.
Сколько всего едало?



Три ромашки-желтоглазки,
Два веселых василька
Подарили маме дети.
Сколько же цветов в букете?



На кустике перед забором
6 ярко-красных помидоров.
Потом 4 оторвалось,
А сколько на кусте осталось?



пять лесных орешков
мелких.

Вот ещё один лежит,
мхом заботливо
укрыт.

Ну и белка! Вот
хозяйка!

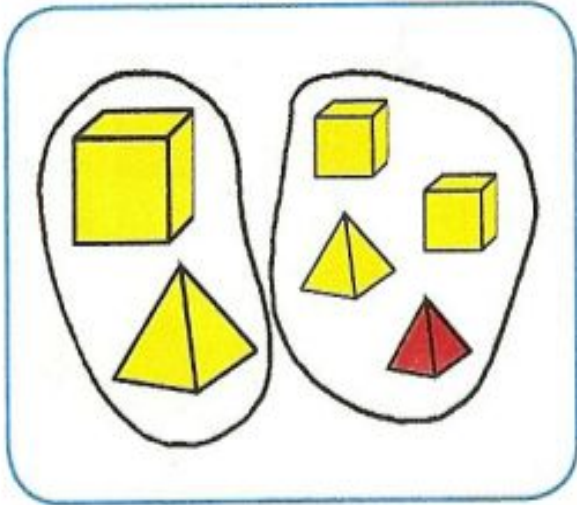
Все орешки посчитай-
ка!

Дружно муравьи
живут и без дела не
снут. Два несут
травинку, 2 несут
былинку, два несут
иголки.

Сколько муравьев
под елкой?



4 a)



$$Б + М = Ф$$

$$2 + 4 = 6$$

$$М + Б = Ф$$

$$4 + 2 = 6$$

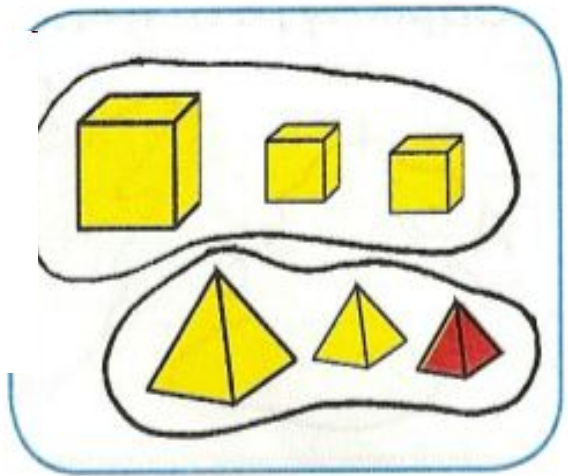
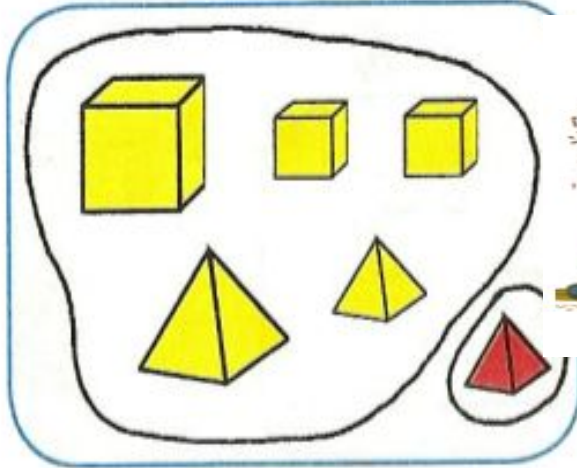
$$Ф - Б = М$$

$$6 - 2 = 4$$

$$Ф - М = Б$$

$$6 - 4 = 2$$

б)



$$5 + 1 = 6$$

$$6 - 5 = 1$$

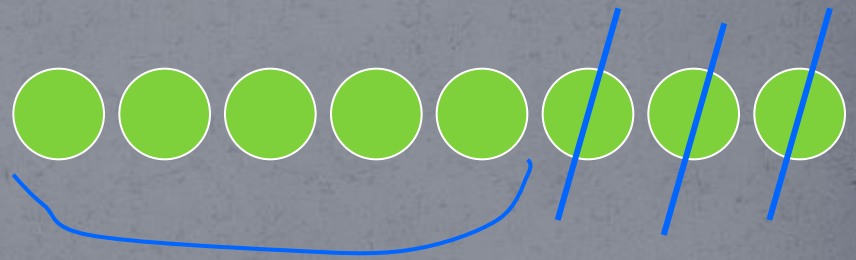
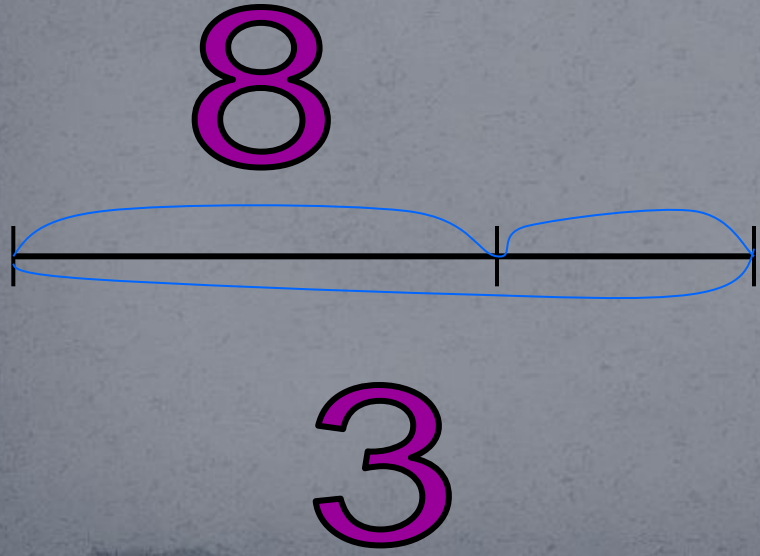

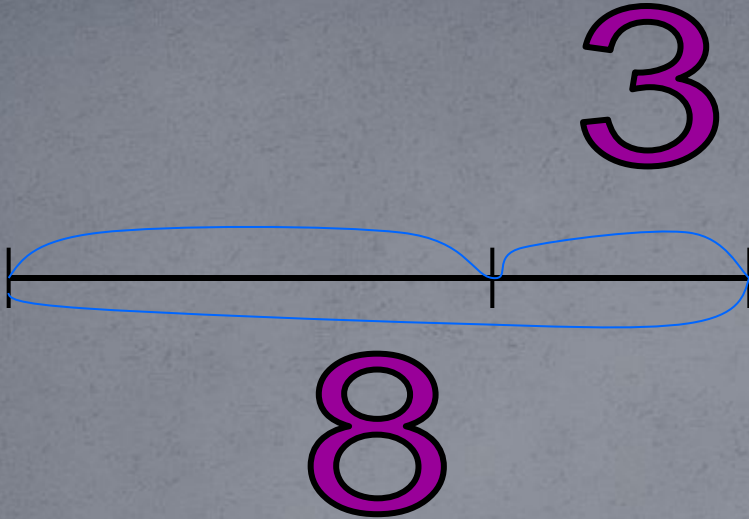
$$3 + 3 = 6$$

$$1 + 5 = 6$$

$$6 - 1 = 5$$

$$6 - 3 = 3$$








Мне запомнилось ...

Мне было трудно ...

У меня получилось ...





МОЛОДЦЫ!

