


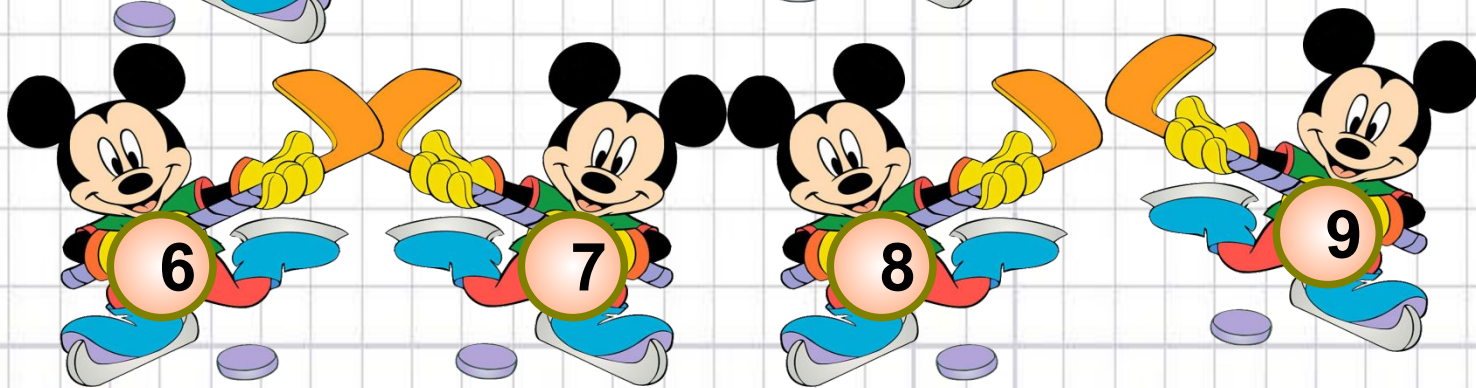

Урок математики 1 класс

Сумма

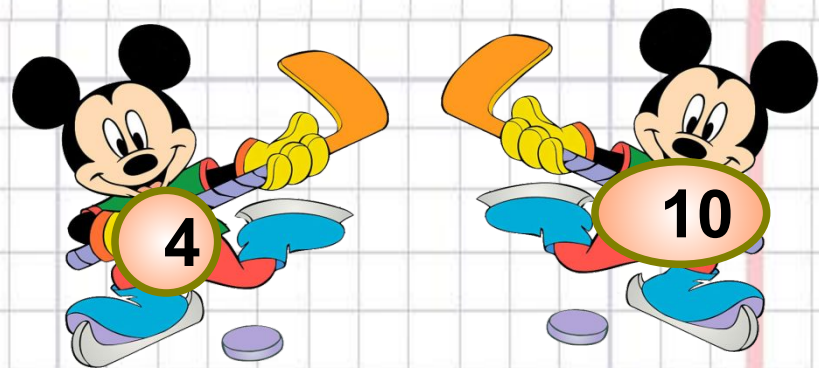


Автор презентации
Учитель начальных классов
ГБОУ СОШ №315
Осмоловская О.В.



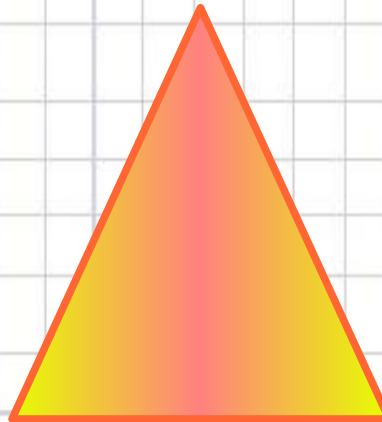


Где мое место
?






**Как можно одним словом
назвать все эти фигуры?**



**Какую фигуру можно
назвать
пиццей?**





О чем пойдет речь: на уроке?
Тема урока:

**Названия чисел при
сложении.**



Сегодня на уроке мы:

1. Узнаем, как называются числа при сложении.

2. Научимся употреблять их в своей речи.

3. Будем учиться быть внимательными.

4. Будем учиться работать самостоятельно, в парах и оценивать свою работу.



Названия чисел при сложении

$$5 + 3 = 8$$

СЛАГАЕМОЕ

СЛАГАЕМОЕ

СУММА

$$5+3 = \text{СУММА}$$

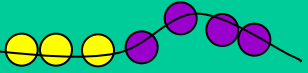



СЛАГАЕМОЕ	4	2	7	8	5
СЛАГАЕМОЕ	1	3	2	1	0
СУММА	5				


9 6 9 5 8 5




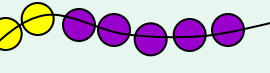
Составь по рисункам примеры на сложение. Реши их.




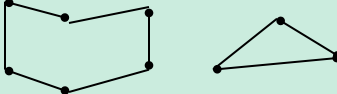
$$3 + 4 = \boxed{7}$$


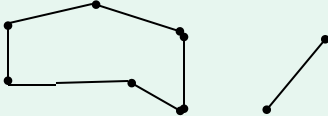
$$5 + \boxed{3} = \boxed{8}$$



$$\square + \square = \square$$


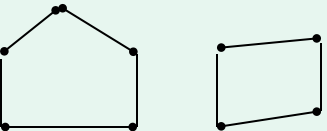
$$\square + \square = \square$$


$$\square + \square = \square$$


$$4 + 2 = \boxed{6}$$


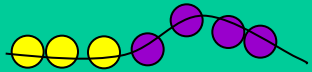
$$6 + \boxed{3} = \boxed{9}$$


$$\square + \square = \square$$


$$\square + \square = \square$$


$$\square + \square = \square$$


Составь по рисункам примеры на сложение. Реши их.



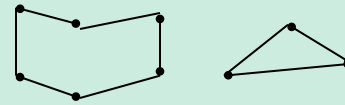
$$3 + 4 = \boxed{7}$$



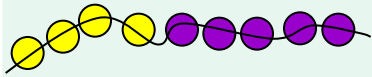
$$4 + 2 = \boxed{6}$$



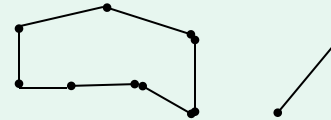
$$5 + \boxed{3} = \boxed{8}$$



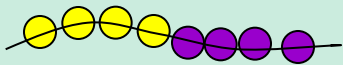
$$6 + \boxed{3} = \boxed{9}$$



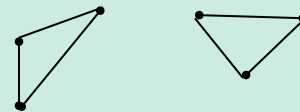
$$\boxed{4} + \boxed{5} = \boxed{9}$$



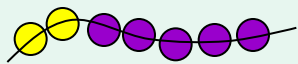
$$\boxed{7} + \boxed{2} = \boxed{9}$$



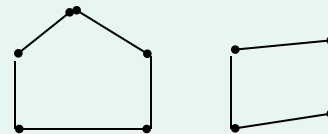
$$\boxed{4} + \boxed{4} = \boxed{8}$$



$$\boxed{3} + \boxed{3} = \boxed{6}$$



$$\boxed{2} + \boxed{5} = \boxed{7}$$



$$\boxed{5} + \boxed{4} = \boxed{9}$$

Сегодня на уроке мы:

1. Выучить, как называются числа при сложении.
2. Учились употреблять их в своей речи.
3. Учились быть внимательными.
4. Работали самостоятельно, в парах и оценили свою работу.



Молодцы!!!

**Отлично
поработали!**

