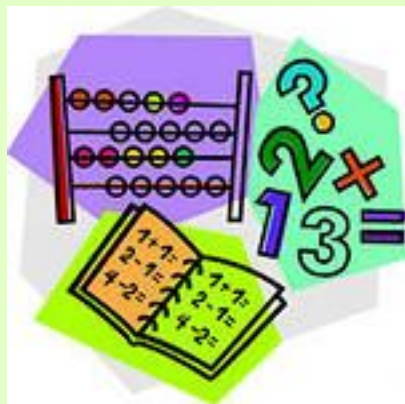


УРОК МАТЕМАТИКИ



3 класс



Рогатнева Зоя Николаевна
учитель начальных классов
МБОУ СОШ №5
г. Грязи
2017 г.

УСТНЫЙ СЧЁТ

Если вы согласны
с утверждением, рисуйте _____ (да)

Если вы не согласны
с утверждением, рисуйте  (нет)



УСТНЫЙ СЧЁТ

$$35:7=5$$

$$72:9=8$$

$$48:6=8$$

$$10:5=2$$

$$24:8=3$$


$$1:5=?$$





Тема урока. ДОЛИ

$\frac{1}{5}$





$\frac{1}{5}$

$\frac{1}{5}$

$\frac{1}{5}$

$\frac{1}{5}$







Стр.92, № 1(1)

$\frac{1}{6}$		

$\frac{1}{12}$					

Стр 92, №2

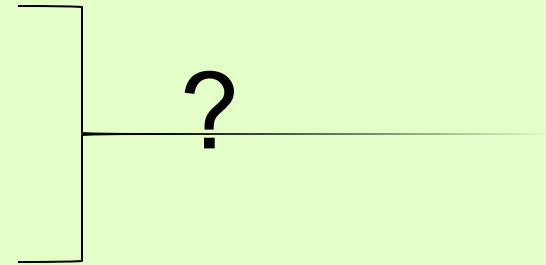


ФИЗКУЛЬТМИНУТКА



**ШАГАЕМ,
ОТДЫХАЕМ!**

Апельсинов – 3 ящ. по 6 кг
Яблок - 22 кг



$$6 \times 3 + 22 = 40$$

Стр. 93, № 4.

Реши уравнения, подбирая значения x .

$$72 : x = 9$$

$$x = 8$$

$$8 \cdot x = 64$$

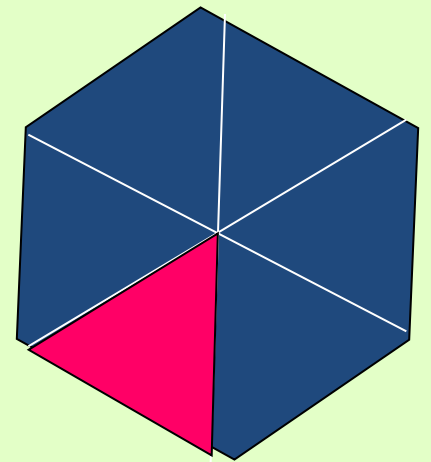
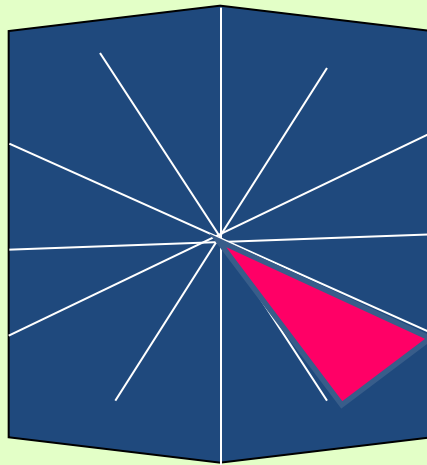

$$x = 8$$

$$x : 7 = 4$$

$$x = 28$$

Определи

- Кто из девочек какую долю раскрасил, если Таня закрасила большую долю, чем Оля, а Лена закрасила большую долю, чем Таня?.



Домашнее задание.
Задание на смекалку:

Как разрезать головку сыра
на 8 равных долей,
сделав только **три** разреза?

