



**Урок математики в 3 классе**

ПОВТОРЕНИЕ ПРОЙДЕННОГО  
МАТЕРИАЛА.

ЗНАКОМСТВО С  
СООТНОШЕНИЯМИ МЕЖДУ  
ЦЕНОЙ, КОЛИЧЕСТВОМ И  
СТОИМОСТЬЮ.

ЗАКРЕПЛЕНИЕ ТАБЛИЦ  
УМНОЖЕНИЯ ЧИСЕЛ 2 И 3

# Девиз

**БЕРЕГИТЕ ЭТИ ЗЕМЛИ, ЭТИ ВОДЫ  
ДАЖЕ МАЛУЮ БЫЛИНОЧКУ ЛЮБЯ.  
БЕРЕГИТЕ ВСЕХ ЗВЕРЕЙ ВНУТРИ  
ПРИРОДЫ,  
УБИВАЙТЕ ЛИШЬ ЗВЕРЕЙ ВНУТРИ  
СЕБЯ.**

**ЕВГЕНИЙ ЕВТУШЕНКО**

# Помощь белочке




4

2x2



# Помощь белочке




6

2x3



# Помощь белочке



8

2x4



# Помощь белочке



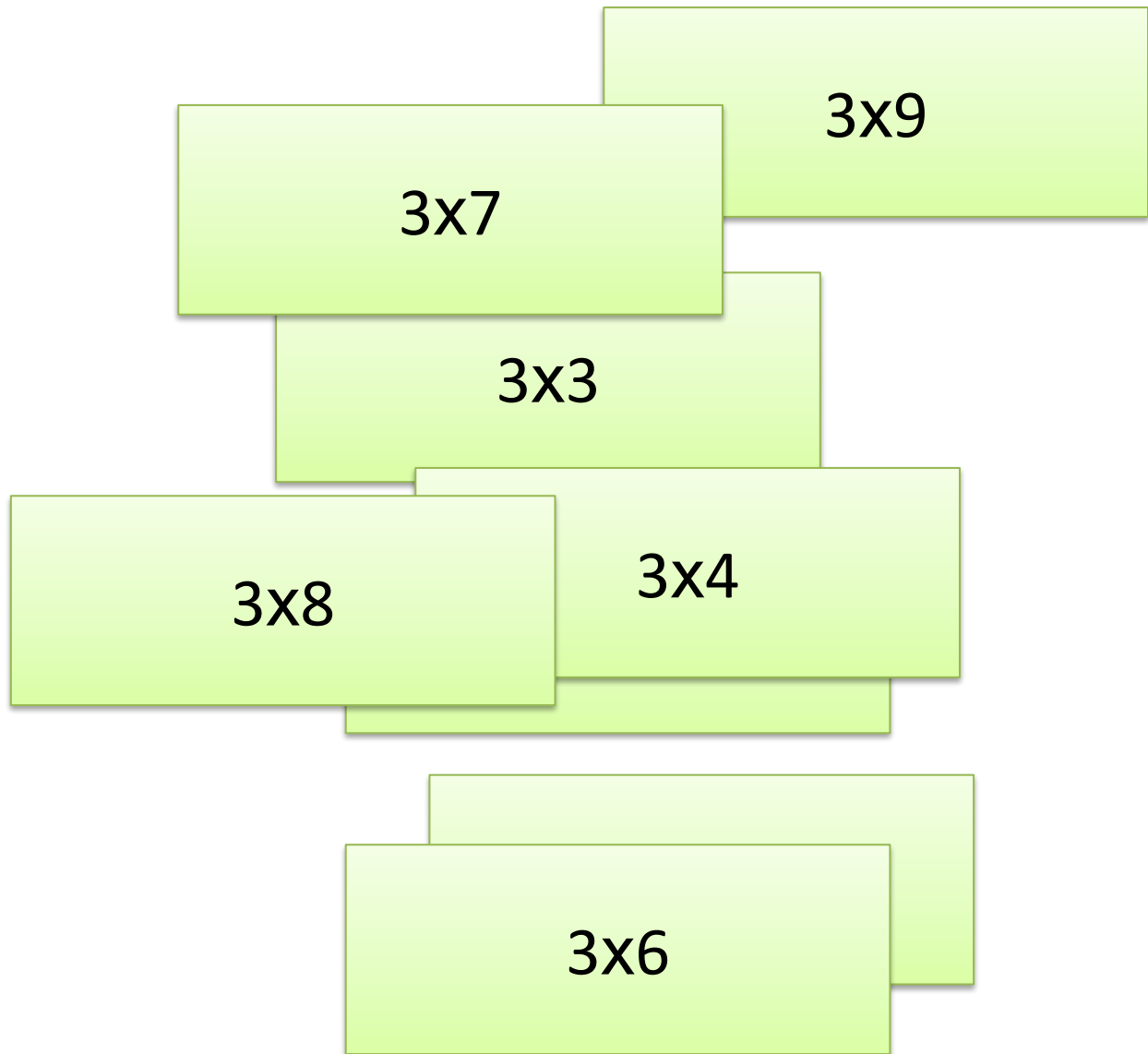
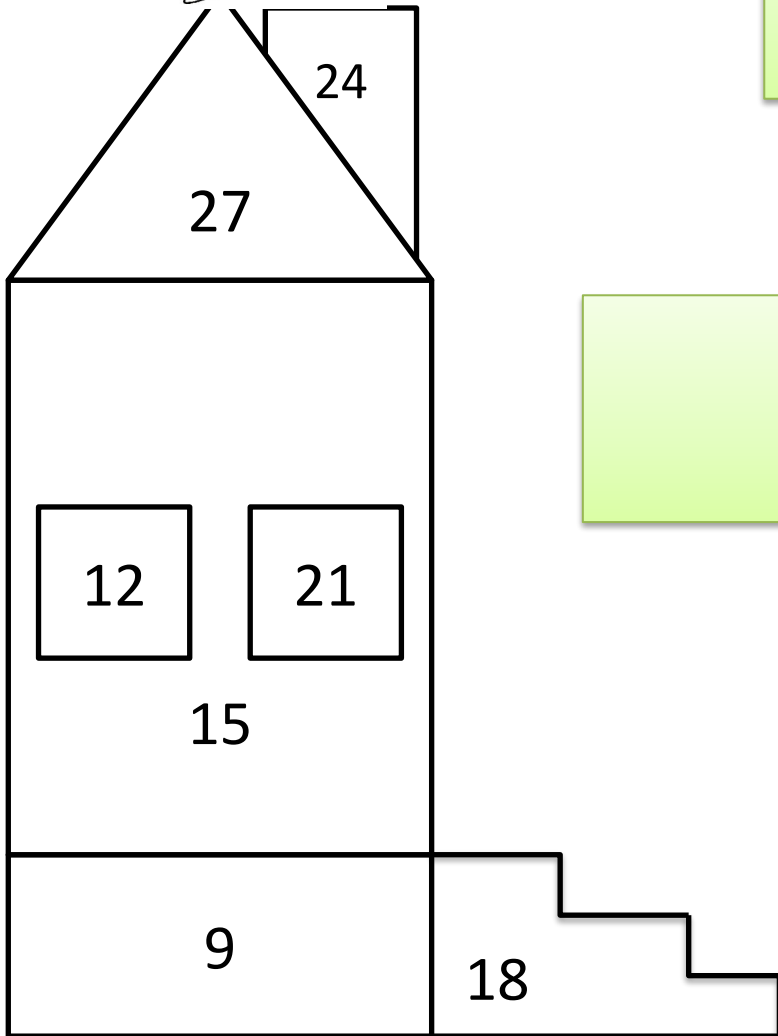
2x5

10

- Для сбора мусора вдоль железной дороги купили 7 мешков по цене 3 рубля за 1 штуку. Сколько рублей заплатили за мешки для мусора?
- За 7 мешков для сбора мусора вдоль железной дороги заплатили 21 рубль. Сколько стоит 1 мешок?
- Цена мешка для мусора 3 рубля. Сколько мешков купили на 21 рубль?



Цена	Количество	Стоимость
3р.	7 шт.	? р.
? р.	7 шт.	21р.
3р.	? шт.	21р.







БЕРЕГИ ПРИРОДУ.

**СПАСИБО ЗА  
ВНИМАНИЕ**