



Тема урока

Деление


многочисленных чисел




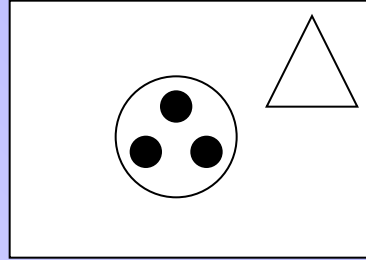
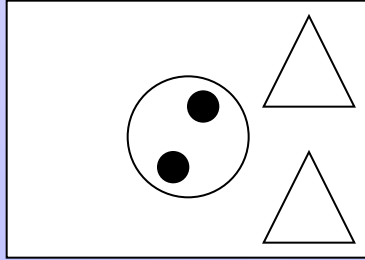
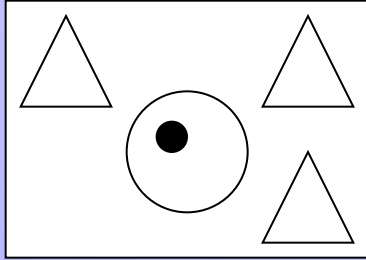
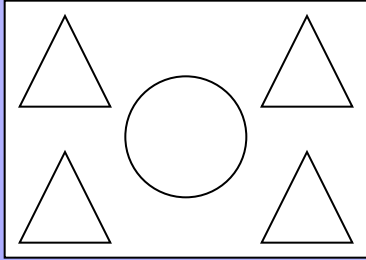
Я доволен



*Я доволен,
но можно сделать
лучше*



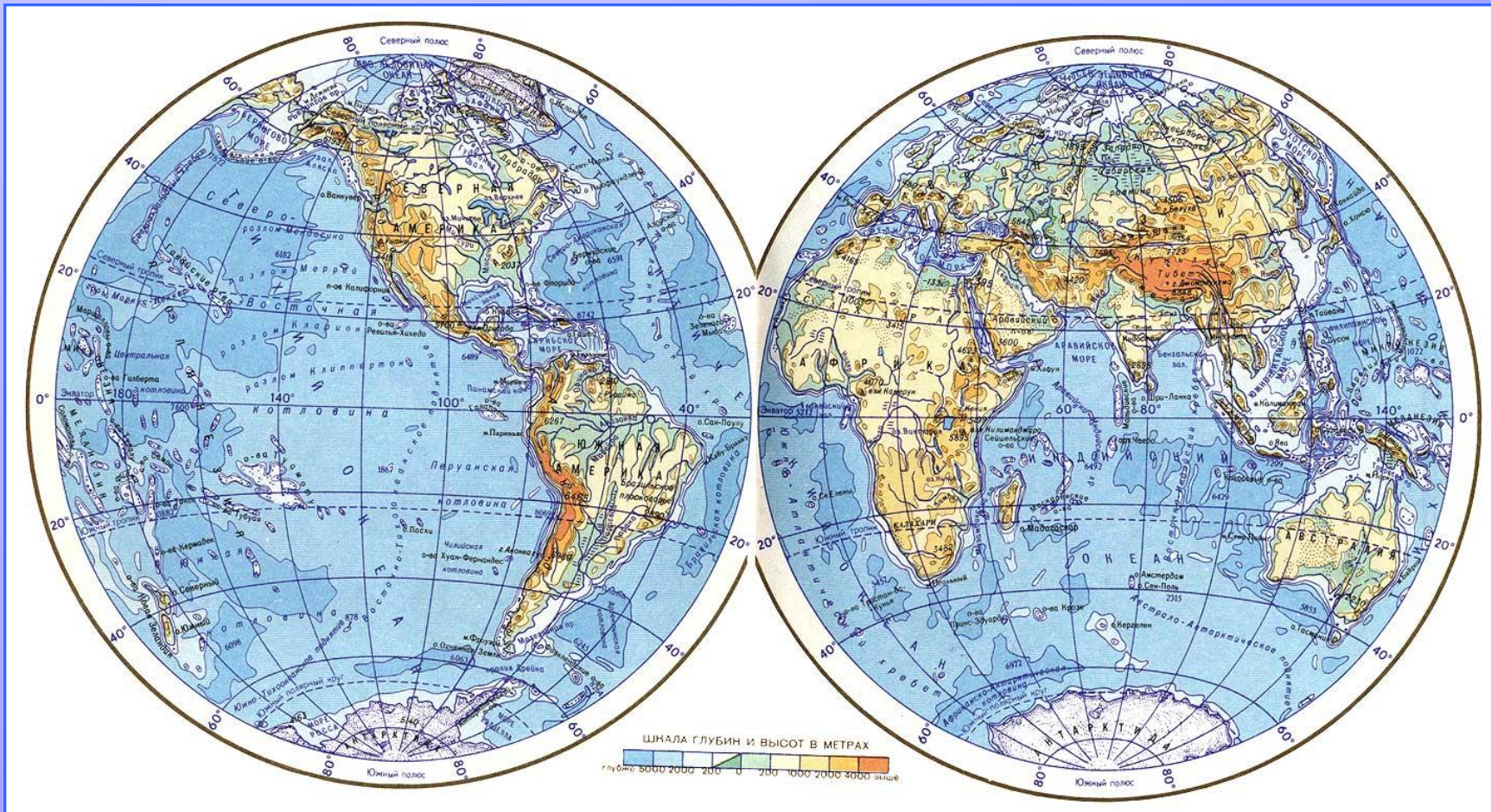
Я не доволен





Да

ВОДА



*Из трёх бутылок воды можно
наполнить 30 стаканов.*

*Сколько бутылок воды нужно взять,
чтобы наполнить 80 стаканов?*

Из трёх бутылок воды можно
наполнить 30 стаканов.

Сколько бутылок воды нужно взять,
чтобы наполнить 80 стаканов?

3 б. - 30 с.
? б. - 80 с.
1 б. - ? с.

1) $30 : 3 = 10$ (с.) - из 1 бутылки.
2) $80 : 10 = 8$ (б.) - нужно взять.
Ответ: 8 бутылок.

$$600 : 30 = e$$

$$540 : 6 = H$$

$$74 + 26 = a$$

$$96 : 16 = л$$

$$64 \times 1000 = a$$

$$70 \times 80 = z$$

$$90 : 5 = в$$

$$14 \times 20 = л$$

$$28 + 56 = o$$

$400 : 20 =$ н

$16 \times 3 =$ и

$99 : 99 =$ е

$58 + 35 =$ с

$14 \times 8 =$ ъ

$10 \times 10 =$ е

$560 : 7 =$ ю

$80 - 54 =$ и

$12 \times 7 =$ ъ

$560 : 70 =$ в

$13 \times 6 =$ л

$600 : 30 = 20$ е

$540 : 6 = 90$ н

$74 + 26 = 100$ а

$96 : 16 = 6$ л

Л е н а
6 20 90 100

$64 \times 1000 = 64000$ а

$70 \times 80 = 5600$ з

$90 : 5 = 18$ в

$14 \times 20 = 280$ л

$28 + 56 = 84$ о

в о л з а
18 84 280 5600 64000

$400 : 20 = 20$ н

$16 \times 3 = 48$ и

$99 : 99 = 1$ е

$58 + 35 = 93$ с

$14 \times 8 = 112$ ъ

$10 \times 10 = 100$ е

е н и с е ъ
1 20 48 93 100 112

$560 : 7 = 80$ ю

$80 - 54 = 26$ и

$12 \times 7 = 84$ ъ

$560 : 70 = 8$ в

$13 \times 6 = 78$ л

в и л ю ъ
8 26 78 80 84

Тема урока

Деление

многочисленных чисел

Устный счет

Найди первое
неполное делимое;
Определи количество
цифр в частном.

- $37545:5=$
- $67248:12=$
- $13876:43=$
- $54964405:128=$

Не вычисляя значения
выражений, поставь
знак больше или
меньше

$$57600:16 \dots 192:20$$

$$165867:13 \dots 153104:16$$

$$363600:120 \dots 869400:420$$

$$34450:13 =$$

$$21186 : 6 =$$

$$105600:24 =$$

$$8184 : 2 =$$

$$34450:13 = 2650$$

$$21186 : 6 = 3531$$

$$105600:24 = 4400$$

$$8184 : 2 = 4092$$

Вилюй - 2650 км

Волга - 3551 км

Лена - 4400 км

Енисей - 4092 км

*Самая длинная
река - Нил.
Находится в Африке.
Её длина - 6671 км.*



На участке прямоугольной формы, периметр которого равен 16 м, нужно выкопать бассейн. Каковы должны быть длины сторон участка?

$$P=16M$$

$$P=(A+B)X2$$

A-?

B-?

Найдите площади бассейнов:

1 группа

$$a = 5 \text{ м}$$

$$b = 3 \text{ м}$$

2 группа

$$a = 6 \text{ м}$$

$$b = 2 \text{ м}$$

индивидуально

$$a = 7 \text{ м}$$

$$b = 1 \text{ м}$$

Выбери свой вариант:

$$Y \times 3 = 33066$$

11022

1122

$$43710 : x = 5$$

8742

9742

$$2 \times Y = 15454$$

8727

7727

$$22108 : x = 4$$

5529

5527

11 022 м - глубина Тихого океана

8742 м - глубина Атлантического океана

7727 м - глубина Индийского океана

5527 м - глубина Северного Ледовитого океана