



Урок




- Длина прямоугольного бассейна в 5 раз больше его ширины, причем ширина на 20 м меньше.
- Найдите площадь дна бассейна.

- Ребята измеряли шагами длину игровой площадки. У Лизы получилось 25 шагов, у Полины – 27, у Максима – 22, а у Юры – 24.
- У кого из ребят самый короткий шаг?

- Иванов, Петров, Сидоров и Козлов за контрольную работу получили оценки: «2», «3», «4», «5».
- Известно, что Петров списал у Сидорова, но сделал это не внимательно. Иванов не справился ни с одним из заданий.
- Лучше всех решил Козлов. Какую оценку получил каждый ученик?

- **Группа 1.**

Постройте фигуру, если известны координаты $A(3;2)$, $B(2;5)$, $C(8;2)$







- **Группа 2.**

Постройте фигуру, если точки $A(3;2)$ и $B(8;5)$ - его противоположные вершины.

- **Группа 3.**

Постройте фигуру, если известны координаты её вершин $A(2;3)$, $B(2;6)$, $C(5;8)$, $D(8;6)$, $K(8;3)$, $M(5;1)$

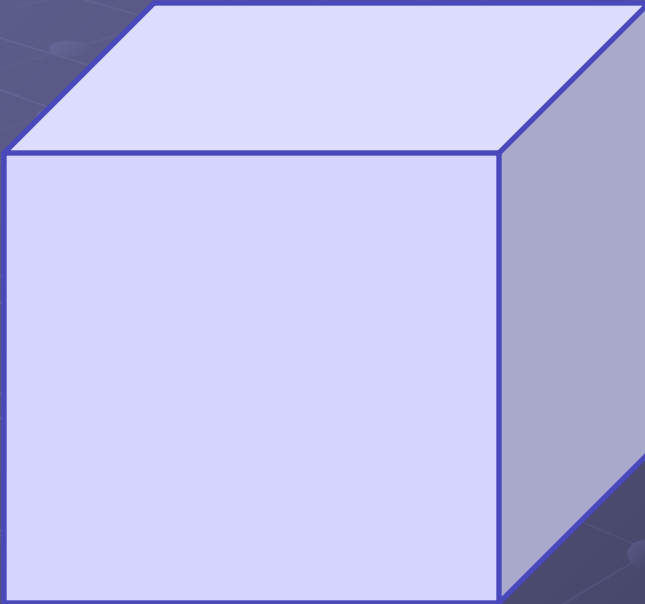
Многоугольники



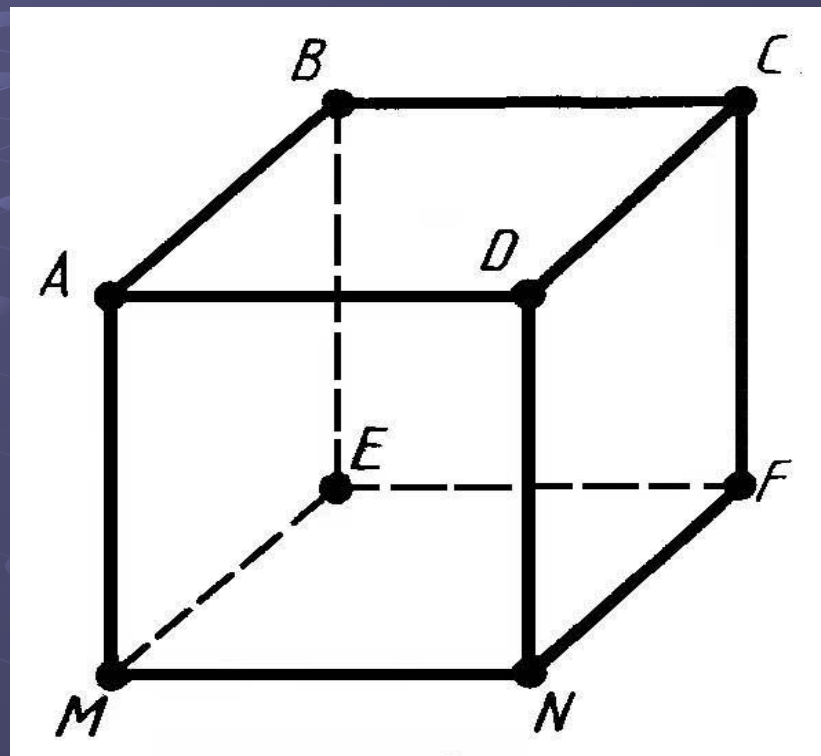

многогранник

- Что такое?
- Из каких элементов состоит?
- Как построить?

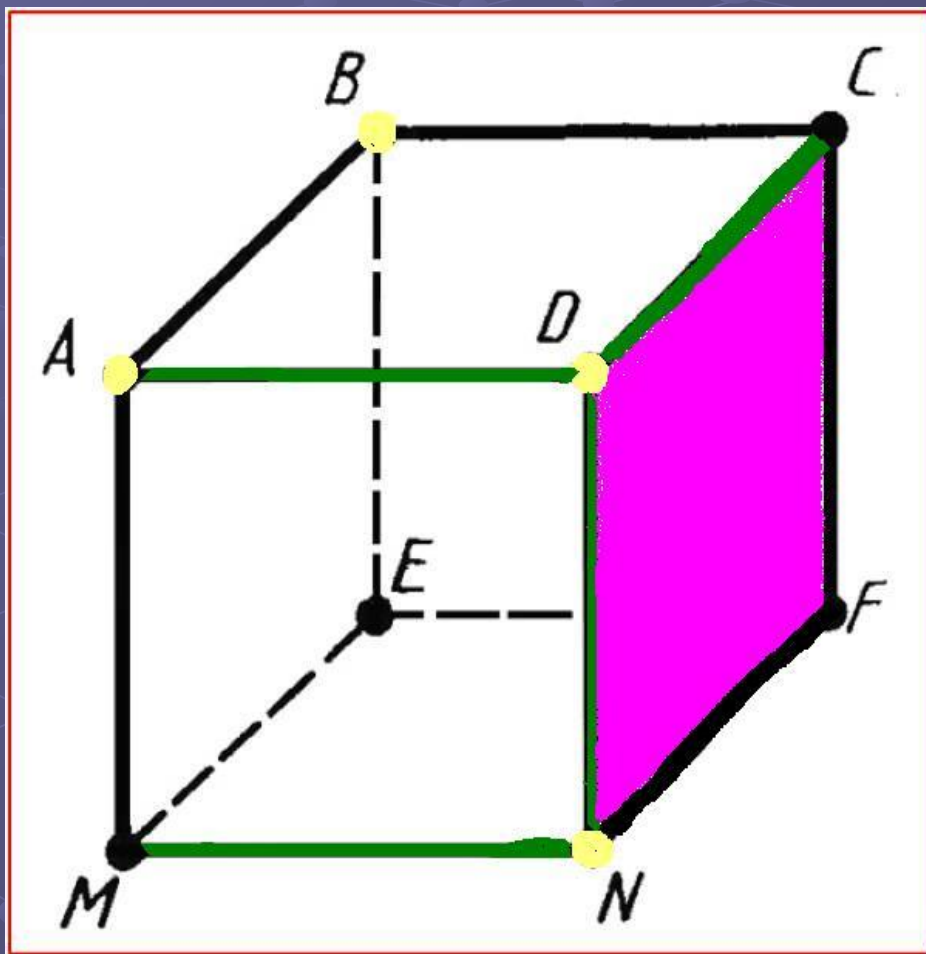
Сравниваем



Многогранник



Многогранник




- Грани-многоугольники
- Вершины-вершины многоугольников
- Ребра-стороны граней








Пирамида- многогранник



Физкультминутка

Физкультминутка





- -На уроке я узнал.....
- -На уроке я повторил.....
- -На уроке я научился.....



Домашнее задание

