

УРОК МАТЕМАТИКИ В 4 А КЛАССЕ

Составление примеров на деление. Линии.

**Попикова Наталья Александровна, учитель
начальных классов, МСКОУ 8 вида, школа-
интернат, г. Амурск.**

50

27

6

100

54

64

9

с

а

м

о

л

ё

т





ОТВЕТЫ.

6

7

4

10

2

5

9







Физминутка



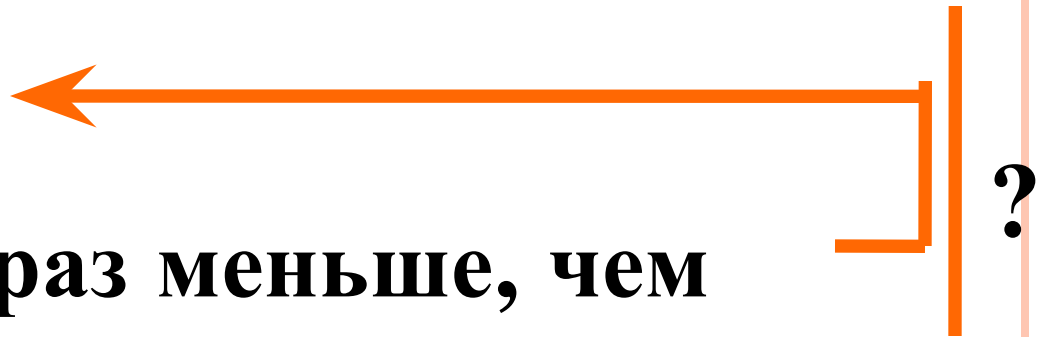
ЗАДАЧА

В первом ангаре стояло 32 самолёта, а во втором в 8 раз меньше. Сколько всего самолётов в двух ангарах?




1 ангар - 32 с.


2 ангар - ?, в 8 раз меньше, чем




Гимнастика для глаз









САМОСТОЯТЕЛЬНАЯ РАБОТА

40:8X7

8X3:6

48:8X6



ОТВЕТЫ

$$40 : 8 \times 7 = 35$$

$$8 \times 3 : 6 = 4$$

$$48 : 8 \times 6 = 36$$




Математика – царица всех наук!



М

1




0




Л



46



0




Д

Щ

70

Ы



М

О

Л

О

Д

Щ

Ы

Молодцы, ребята!

**Спасибо за
урок!**

