


Математика 2

класс

«Числа от 1 до 100.

Сложение и

вычитание»



**Олимпийц
ы,
вперёд!**

Прыжки с



Вставь пропущенные числа

~~86, 87, 88, 88., 89, 90, 91, 92~~
~~93, 92, 91, 91., 90, 89, 88, 87~~

Какие числа вы вставили?


Сколько десятков, единиц в
этих числах

89, 90


Биатло




Надо посчитать, сколько очков набрали спортсмены, если за попадание в «красное» поле - 2 очка, в «синее»- 3 очка, в «белое»- 5очков



$$5+3+2+2=12$$



$$5+5+3+2+2=17$$



$$5+3+3+2=13$$

Скоростной бег на



**За 1 мин решить как можно
больше примеров.**

$$52 - 40 = 12$$

$$59 + 10 = 69$$

$$41 + 40 = 81$$

$$38 - 20 = 18$$

$$62 - 30 = 32$$

$$92 + 6 = 98$$

$$52 + 30 = 82$$

$$33 - 2 = 31$$

$$75 - 50 = 25$$

$$68 + 10 = 78$$

$$78 - 20 = 58$$

$$28 - 7 = 21$$

$$32 + 7 = 39$$

$$27 + 60 = 87$$

$$93 - 70 = 23$$

$$74 - 60 = 14$$

$$33 + 6 = 39$$

$$43 + 50 = 93$$

$$35 - 4 = 31$$

$$47 - 3 = 44$$



Физкультминутка

Фигурное искусство



~~На Олимпиаду приехало~~

98 фигуристов - одиночников. Из них 50 женщин, а остальные мужчины. Сколько приехало мужчин?

Всего- 98ф.
Женщин- 50ф.
Мужчин-?

$$98-50= 48 \text{ (ф) - мужчин}$$

Лыжные



20см > 25мм

50см > 4дм

60мин < 1ч10мин

Фристай




$$80 + (11 - 4) = 87$$

$$(20 + 5) + 1 = 26$$

$$(67 - 7) - 20 = 40$$

$$(45 - 40) + 8 = 13$$

$$60 - (19 - 9) = 50$$



Талисма

Талисман - предмет, помогающий
своему владельцу достичь каких-
либо целей или приобрести какие-
либо качества

sochi 2014

Sochi 2014 Olympic logo featuring the five Olympic rings (blue, yellow, black, green, red) and the Russian Olympic Committee emblem.



Итог

урока

Я УЗНАЛ...

Я НАУЧИЛСЯ...

БЫЛО

ИНТЕРЕСНО...

БЫЛО ТРУДНО...

**Не бойтесь, дети, дождя и
стужи,
Почаще приходите на стадион.
Кто с детских лет со спортом
дружит,
Всегда здоров, красив, силен!
Будьте здоровы!**