

Название и запись
трехзначных чисел
УМК «Перспектива»

Петерсон Л.Г

Ямалетдинова Г.Д.

Учитель начальных классов МБОУ

БГ №158 им.М.Карима

(г.Уфа, Республика Башкортостан)

Назови самое маленькое и самое большое:


-двузначное число

-трехзначное число.

10 99

100

999



Какое число следует при
счете за числом:

482, 483

529, 530

810, 81

500, 501



Вырази в сантиметрах

$$4\text{м } 2\text{дм } 8\text{см} = 428 \text{ см}$$

$$5\text{м } 3\text{дм } 1\text{см} = 531 \text{ см}$$

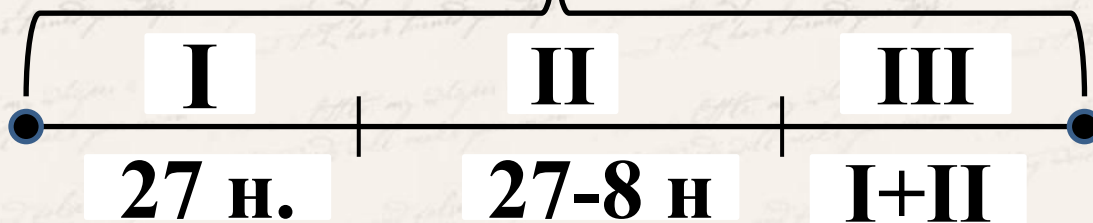
$$1\text{м } 7\text{дм } 4\text{см} = 174 \text{ см}$$

$$6\text{м } 9\text{дм } 3\text{см} = 693 \text{ см}$$



Работа в учебнике

? № 11, с.41



1) $27 - 8 = 19$ (во 2 день)

2) $27 + 19 = 46$ (в 3 день)

3) $27 + 19 + 46 = 92$ (за 3 дня)

**Ответ: за 3 дня ласточка поймала
92 насекомых.**

Открытие новых знаний



Как запишем данное количество предметов?

$$\triangle \triangle \circ \circ = 204$$

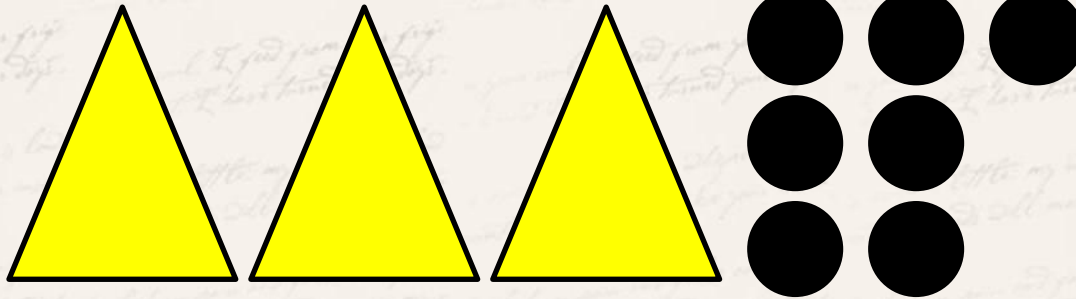
$$2\text{м } 0\text{дм } 4\text{см} = 2\text{м } 4\text{см} = 20\text{дм } 4\text{см} = 204 \text{ см}$$



307 = 3с 0д 7е = 3с 7е

307 = 3м 0дм 7см = 3м 7см

Графически:



Работа в учебнике:

№ 2, 4, 5

с.42



Домашнее задание:

с.43 № 8, 10



Использованные источники:

- Математика 2 класс. Автор Петерсон Л.Г.
 - http://img-fotki.yandex.ru/get/5302/svetlera.1a5/0_575f2_1aec6711_L.png
 - свеча
 - http://img1.liveinternet.ru/images/attach/c/3/77/793/77793315_large_1107399.png
 - угловая виньетка с листьями
 - <http://s1.pic4you.ru/allimage/y2012/08-28/12216/2377701.png>
 - глобус
 - http://img-fotki.yandex.ru/get/4703/66124276.3b/0_69b6d_c8e1d3f3_M.png
 - книги
 - <http://poem.in.ua/media/images/pero-l.png>
 - перо, чернильница

