

# *Тема: Сложение и вычитание чисел в пределах 20*

*(урок-рефлексия)*



Альпини́зм — вид спорта и активного отдыха, целью которого является восхождение на вершины гор. Спортивная сущность альпинизма состоит в преодолении препятствий, создаваемых природой (высота, рельеф, погода), на пути к вершине.



Какая буква в алфавите  
пятая?

а  
Разминка

Назови двенадцатый  
месяц в году

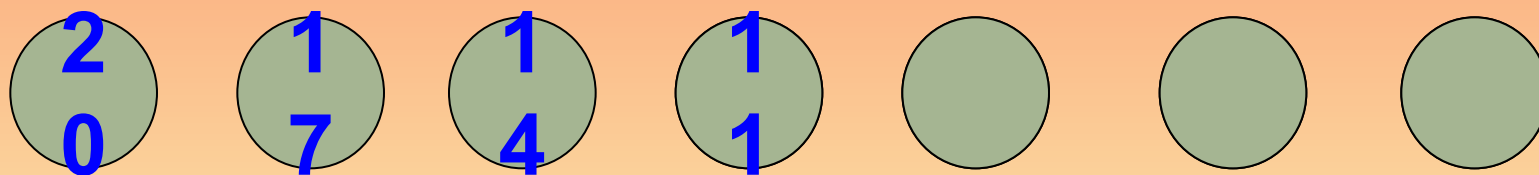
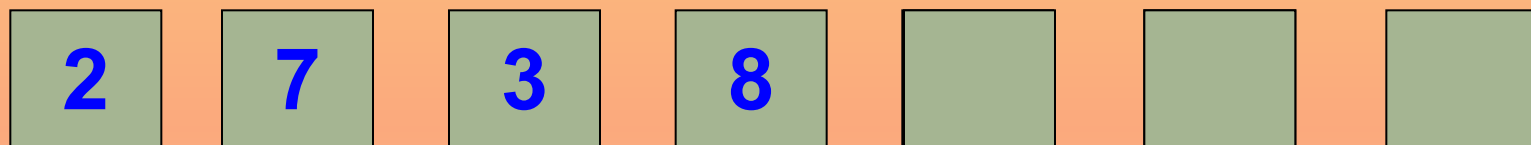
Сколько концов у двух  
палок?  
А у двух с половиной?

Ты да я да мы с  
тобой. Сколько  
нас?

Как сделать 10 из двух  
спичек?

# Вершина 1

Найди  
закономерность и  
продолжи ряд



Молодцы! Вы покорили первую вершину!



# Вершина 2

## МАТЕМАТИЧЕСКИЙ ДИКТАНТ

- ✦ 1 слагаемое 3, второе слагаемое 10. Чему равна сумма?
- ✦ Разность чисел 10 и 7?
- ✦ 5 увеличить на 4.
- ✦ 13 уменьшить на 3.
- ✦ К 8 прибавить 9.
- ✦ На сколько 15 больше 8?

$$3+1=4$$

$$10-7=3$$

$$5+4=9$$

$$13-3=10$$

$$8+9=17$$

$$15-8=7$$

# Вершина 3

## *Математическая эстафета*



# Вершина 4

## *сравните выражения*

$$6+5 * 10$$

$$3+4 * 12 - 4$$

$$17 * 10+6$$

$$9 * 17 - 7$$

$$6+4 * 8 + 3$$

# веселый привал



+4

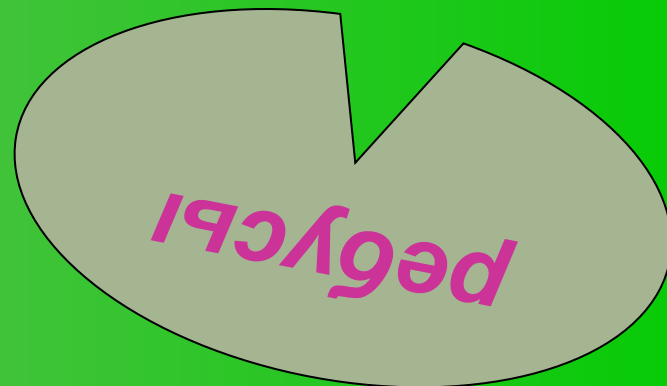
40 а

с 3 жи

7 я

100 л

ви 3 на





**Вершина 5**

***КТО БЫСТРЕЕ?***

1 команда:  $8 + 5 - 10 + 6$

2 команда:  $10 - 3 + 4 - 2$

3 команда:  $7 + 6 - 3 - 1$



9

# Вершина 6

## *Проложи маршрут*

Начертите ломаную из трех звеньев.

Длина первого звена 5 см.

Длина второго на 3 см больше, чем у первого звена.

Длина третьего на 4 см меньше, чем у второго звена.



**Математика – царица наук!**

**«Математику уже затем учить надо,  
что она ум в порядок приводит»**

**М.В. Ломоносов**



**Вершина 7**

***Проверь  
себя!***