

# Здравствуй, математика!



- Урок - повторение
- 2 класс
- УМК «Школа 2100»

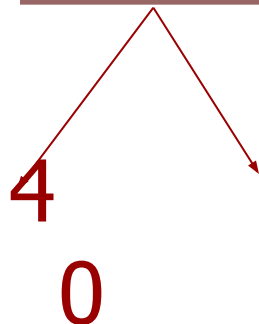


У меня сегодня всё получится

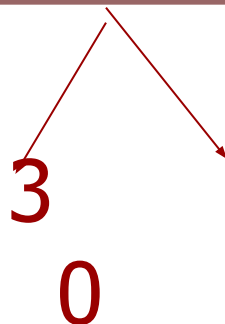


# Допиши недостающие числа

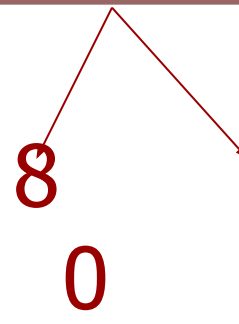
**42**



**37**

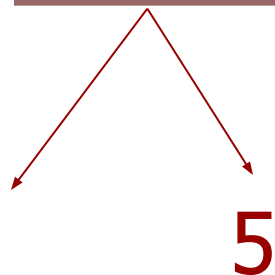


**83**

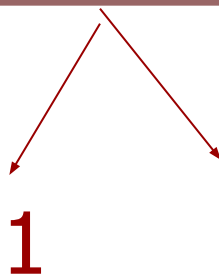


# Допиши недостающие числа

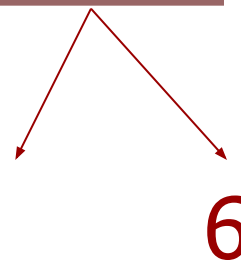
**55**



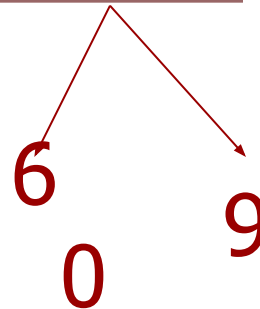
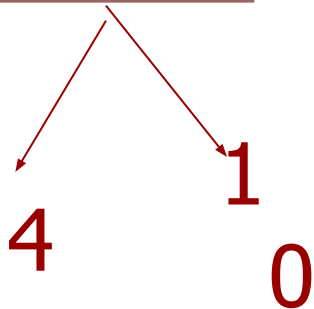
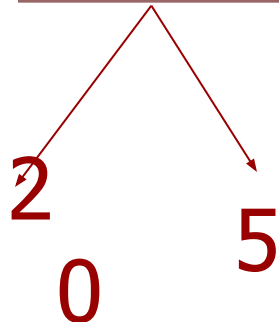
**71**



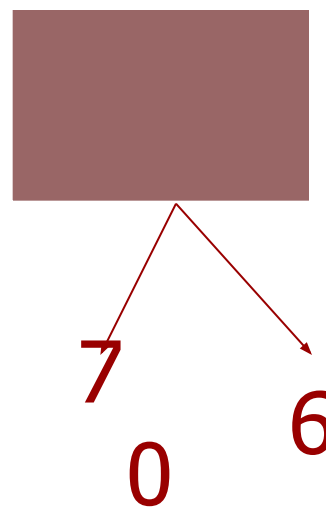
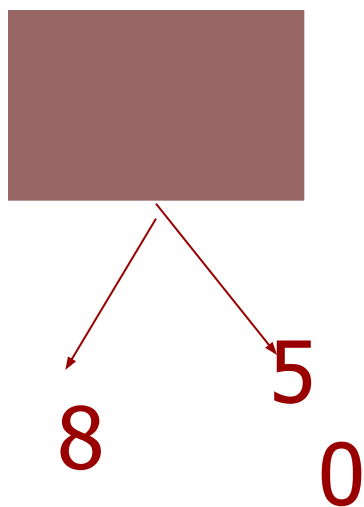
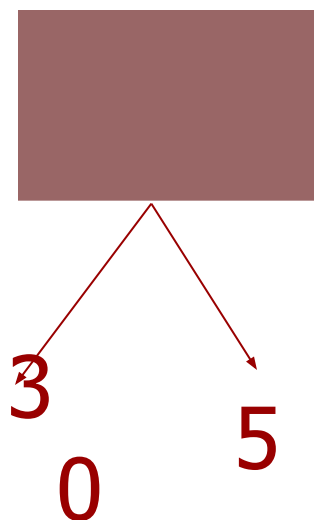
**96**



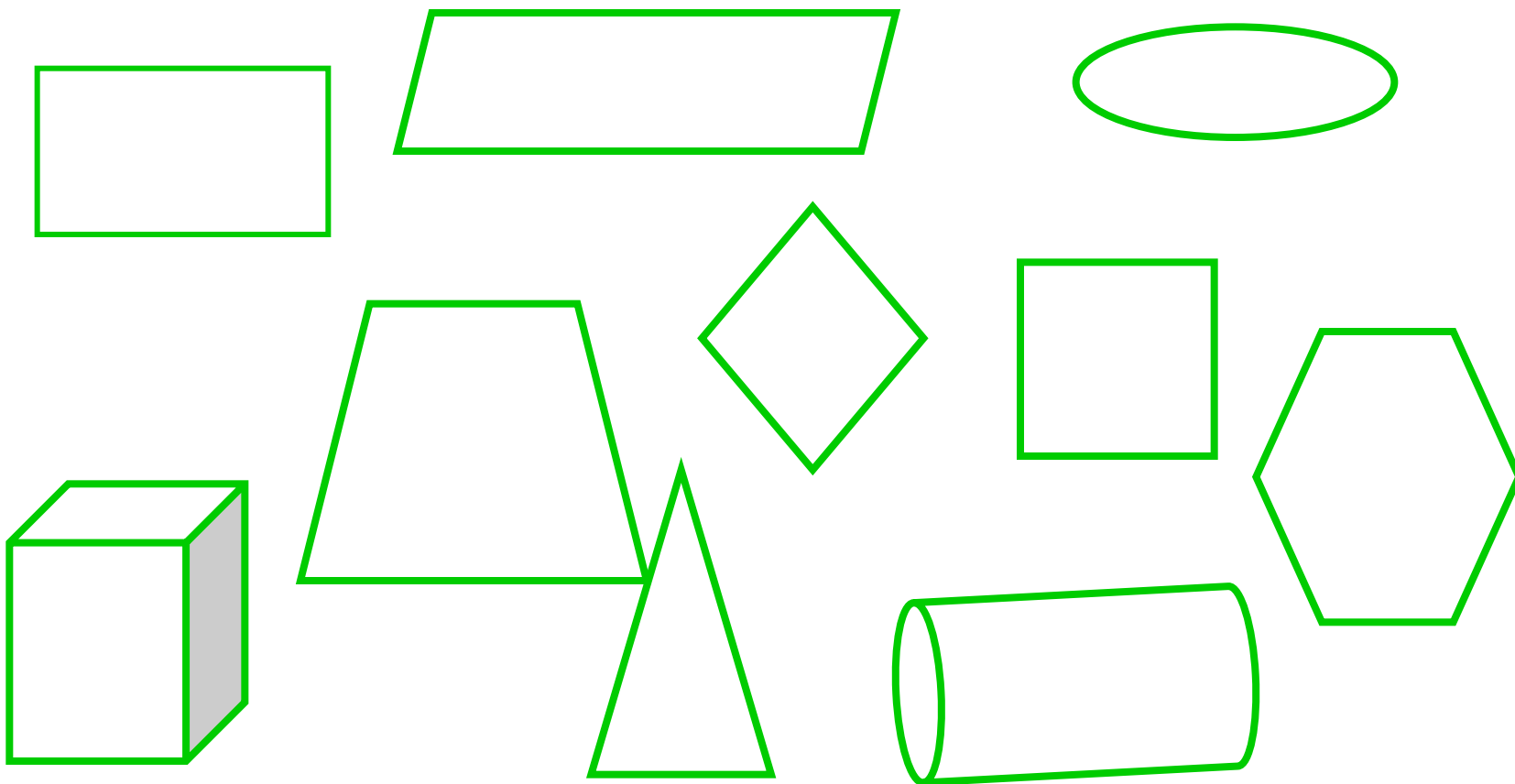
# Допиши недостающие числа



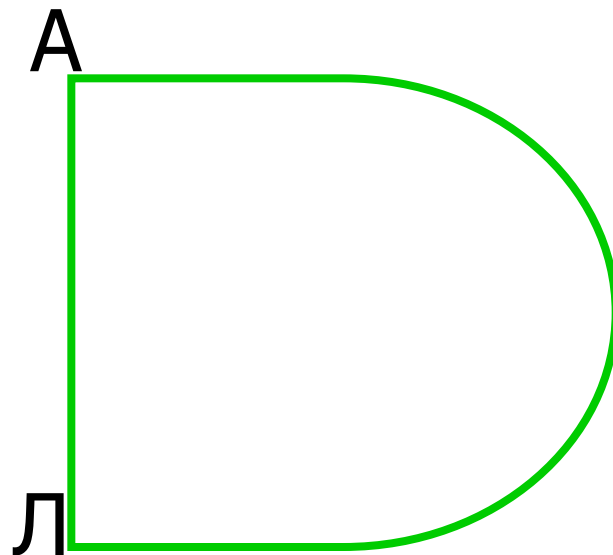
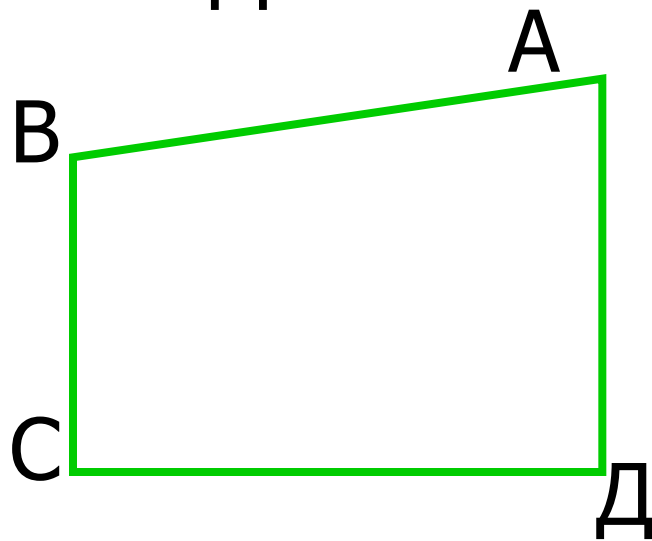
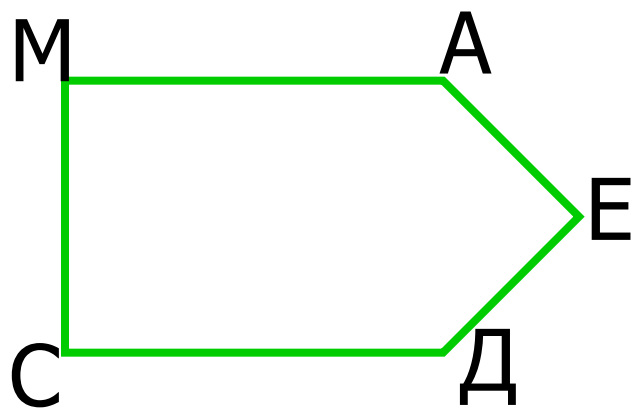
# Допиши недостающие числа



**Сколько среди фигур  
четырёхугольников,  
прямоугольников, квадратов?**




# Найди в фигурах прямые углы





# Реши выражения



- $90-32 = 58$
- $45+45 = 90$
- $53-12 = 41$
- $72-15 = 57$
- $92-18 = 74$
- $37+13 = 50$
- $26+38 = 64$
- $56-38 = 18$

# Найди уравнения и реши их

- $18+x$
- $70+x=75$
- $56+x>70$
- $74-30=44$
- $x-8=42$



# Проверь себя!

$$70+x=75$$

$$x=75-70$$

$$x=5$$

---

$$70+5=75$$

$$75=75$$

$$x-8=42$$

$$x=42+8$$

$$x=50$$

---

$$50-8=42$$

$$42=42$$

# Реши задачи

- На озере плавали 25 утят, а гусей на 16 больше.


Сколько всего утят и гусей плавали на озере?




- У Геры 25 тетрадей, а у Саши 17 тетрадей. Сколько тетрадей останется у мальчиков, если они 6 тетрадей отдадут Марине?

# Проверь себя!

1)  $25+16=41$  (г.)



2)  $25+41=66$  (п.)



Ответ: на озере плавали 66 птиц.



1)  $25+17=42$  (т.) у Геры и Саши вместе

2)  $42-6=36$  (т.)

Ответ: у мальчиков осталось 36 тетрадей.



**Спасибо за урок!**