

Путешествие в сказку

Табличные случаи умножения и деления


Автор: Лукьянова Татьяна Викторовна

2 класс МОУ Романовская СОШ

р.п. Романовка Романовского

Саратовской области

математика





$6 \cdot 6$

$6 \cdot 8$


$6 \cdot 4$

$6 \cdot 7$

$6 \cdot 2$

$6 \cdot 9$

$6 \cdot 3$

Добро пожаловать! 

18

36

48


12

24

42

54






Задание 1

Задание 2

Задание 3

Задание 4



Задание 1


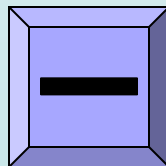
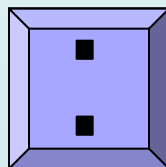
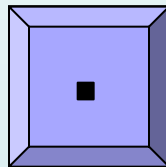
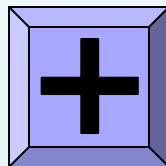
Вставь пропущенные знаки действий

$$6 ? 3 = 9$$

$$6 - 3 = 3$$

$$6 \cdot 3 = 18$$

$$6 : 3 = 2$$



$$9 ? 3 = 27$$

$$9 : 3 = 3$$

$$9 + 3 = 12$$

$$9 - 3 = 6$$



Задани

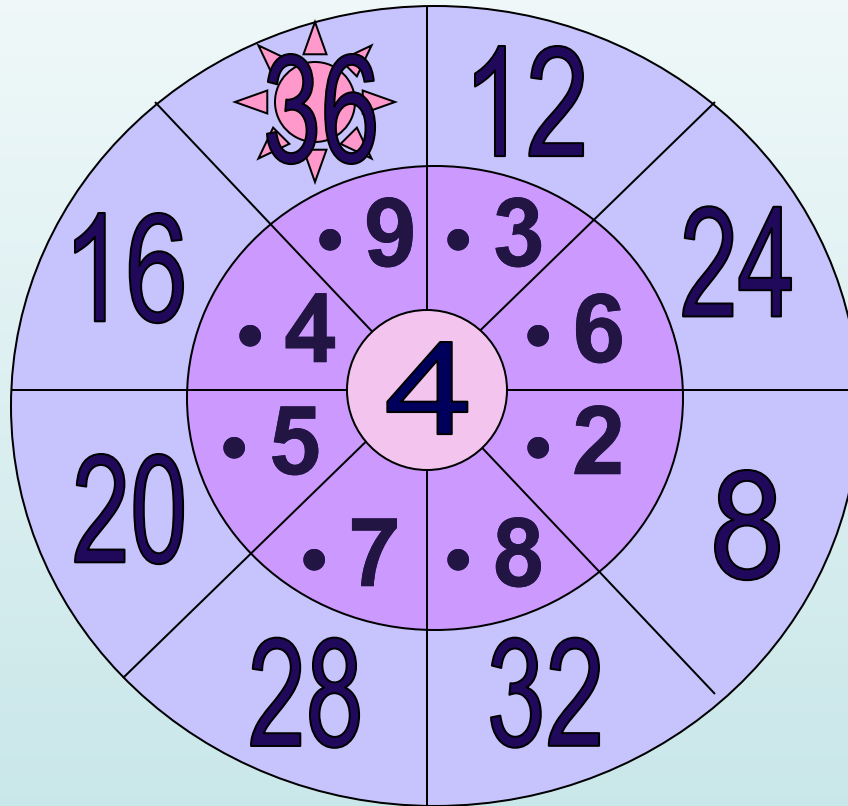
Выполни умножение
е 2

8

12

16

20




24

28

32

36





Задани



Выбери числа, которые делятся на 8

14

32

46

83

48

16

38

40

64

81


18

24

56

68




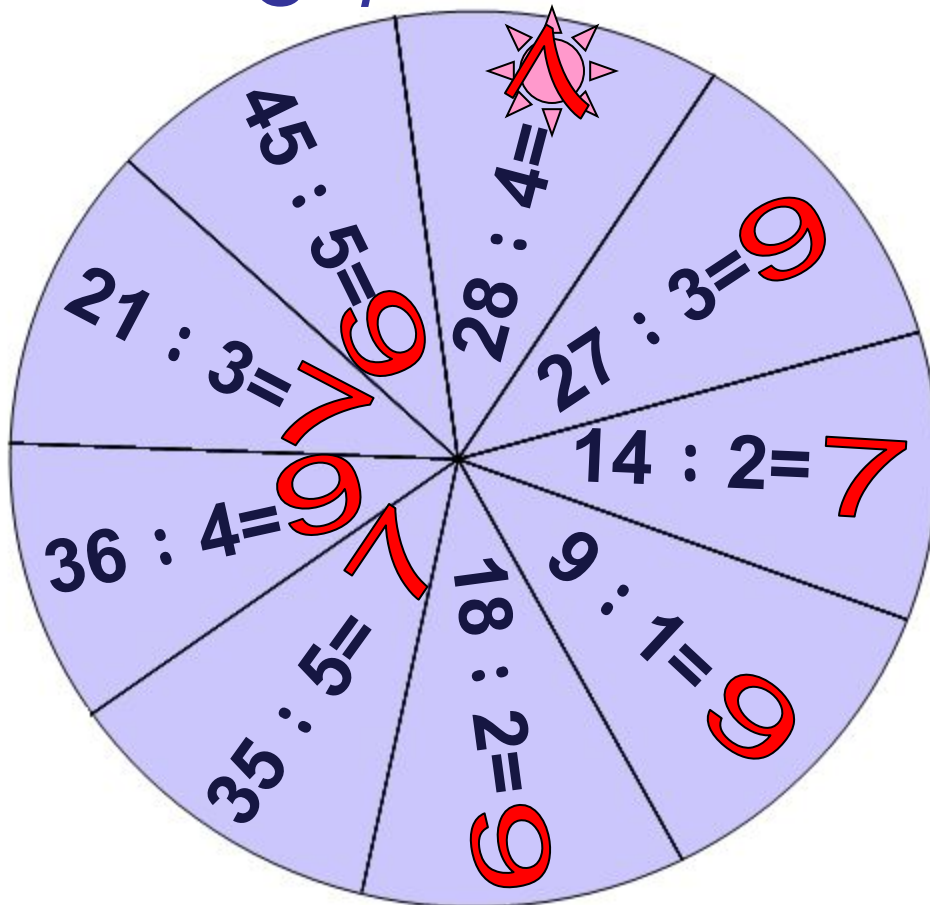
72



Задани

Выполни деление

4






Платъе

Карета и кони

Туфельки





Задани



Реши задачу


К трем зайчатам в час обеда
Прискакали три соседа.
В огороде зайцы сели
И по пять морковок съели.
Кто считать, ребята, ловок,
Сколько съедено морковок?







$$(3+3)*5=30(м.)$$

$$1) 3+3=6(з.)-всего.$$

$$2) 6*5=30(м.)$$

вет: 30 морковок было съедено.





ФИЗМИНУТКА





Задани




Найди значения выражений


$$(3 + 2) \cdot 5$$

$$45 : (9 - 4)$$


$$(10 - 2) \cdot 6$$

$$36 : 6 + 10$$





Задани е 7




Найти периметр квадрата со стороной 7 см
(самостоятельное решение в тетради)

Самопроверка:

$$7 \cdot 4 = 28(\text{см})$$

$$7 + 7 + 7 + 7 = 28(\text{см})$$

Ответ: 28 см







$$9 \cdot 3$$

18

A

27

B

45

C

56

D

81

E



$$9 \cdot 9$$

18

A

27

B

45

C

56

D

81

E



$$9 \cdot 5$$

18

A

27

B

45

C

56

D

81

E



$$9 \cdot 2$$

18

A

27

B

45

C

56

D

81

E



$$8 \cdot 7$$

18

A

27

B

45


C

56

D

81

E



$$8 \cdot 6$$

48

A

36

B

54


C

63

D

72

E



$$9 \cdot 7$$

48

A

36

B

54

C

63

D

72

E



$$9 \cdot 4$$

48

A

36

B

54


C

63

D

72

E



$$9 \cdot 6$$

48

A

36

B

54

C

63

D

72

E



9 • 8

48

A

36

B

54

C

63

D

72

E



Домашнее задание



18- жёлтый
21- салатный
24- оранжевый
27- красный

32- малиновый
36- голубой
42- фиолетовый
49- тёмно-коричневый



До новых встреч!



ССЫЛКИ:

- <http://ann-pages.narod.ru/cl77.gif> - Золушка
- <http://kalinkastudio.narod.ru/cindy5.gif> - Золушка
- <http://tritroichki.narod.ru/disney/disney120.gif> - карета
- <http://i006.radikal.ru/0712/9d/f18ffd5755f.png> -
завитушка
- <http://tritroichki.narod.ru/kartiny/kar1.gif> - пейзаж
- http://karaoketut.narod.ru/download/detskie/p/pro_zolushku.rar караоке «Про золушку»
- Журнал «Начальная школа» № 10, 2005г. – задачи №5,6 в стихотворной форме
- <http://kuprijanov.ucoz.ru/load/2-1-0-16> - задачи №4,7 в стихотворной форме