




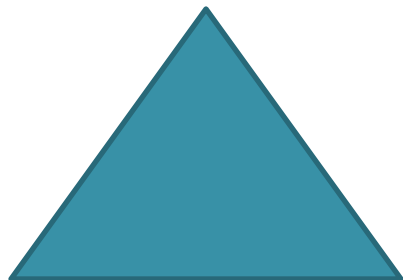


**Урок
математики
2 класс**



Тема урока:
***Периметр
прямоугольника***

Выбери прямоугольник



Прямоугольник – это
четырёхугольник, у которого четыре
прямых угла и стороны попарно равны





Задача

Вокруг одного земельного участка строителям понадобилось поставить забор. Ширина этого прямоугольного участка 5 метров, а длина 10 метров. Строителям нужно было узнать, забор какой длины у них получится.



5

1

0



Формула

$$(a + b) \cdot 2$$

a – длина

b – ширина

(a + b) - полупериметр



15-14 баллов – отметка «5»

13-11 баллов – отметка «4»

10-8 баллов – отметка «3»



Сегодня на уроке я узнал...

Самыми лёгкими заданиями для
меня были...

Трудными для меня оказались
задания...