



Мы – умные!

Мы - дружные!

Мы – внимательные!

Мы – старательные!

Мы отлично учимся!

Всё у нас получится!

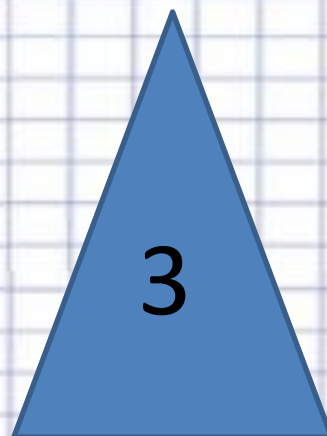
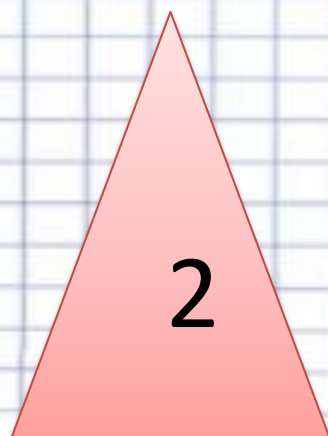
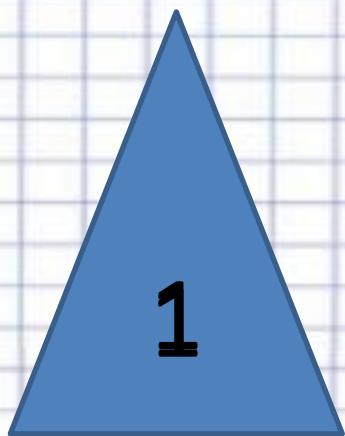


Проверьте соседа по парте

$ABDK = 23 \text{ см}$



Запишите номер «лишней» фигуры





Запишите номер «лишней» фигуры

1

2

3

4



Запишите номер «лишней» фигуры

1

2

3

4



Проверьте себя

2, 3, 2



Выполни задания самостоятельно

1. Найди периметр многоугольника со сторонами: $CH=6\text{см}$, $HV=4\text{см}$, $ВД=6\text{см}$, $ДС=4\text{см}$.

2. Найди периметр многоугольника со сторонами: $АД=2\text{см}$, $ДК=3\text{см}$, $КМ=5\text{см}$, $МС=4\text{см}$, $СА=3\text{см}$.



Проверьте своего соседа

1. $P = 6\text{см} + 4\text{см} + 6\text{см} + 4\text{см} = 20\text{см}.$

2. $P = 2\text{см} + 3\text{см} + 5\text{см} + 4\text{см} + 3\text{см} = 17\text{см}.$

Оцените деятельность своего соседа

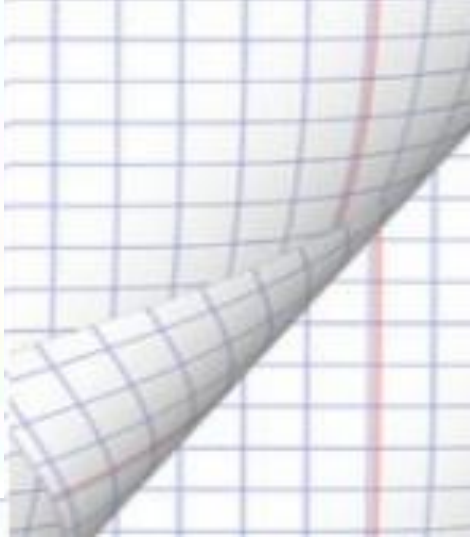


В древнем Египте
границы земельных
участков измеряли
ходьбой.

Египтяне шли по
границе своего участка и
измеряли его. Так и
появилось слово: «*пери*» –
ходить, «*метрос*» –
измерять.



15 CM







Лю

ужно



дорожки, а почему
не надо в саду



СПАСИБО!

