
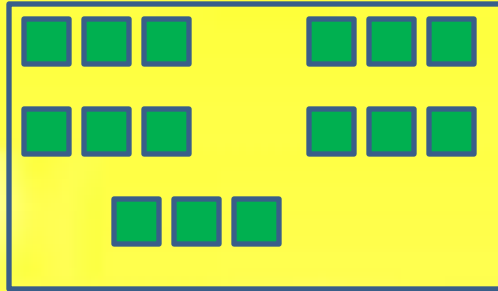
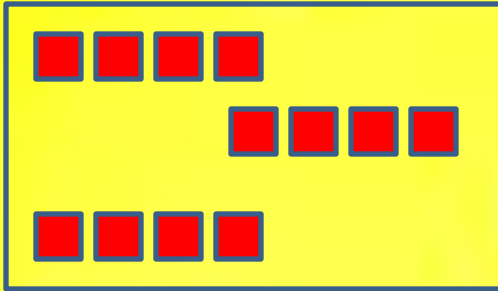
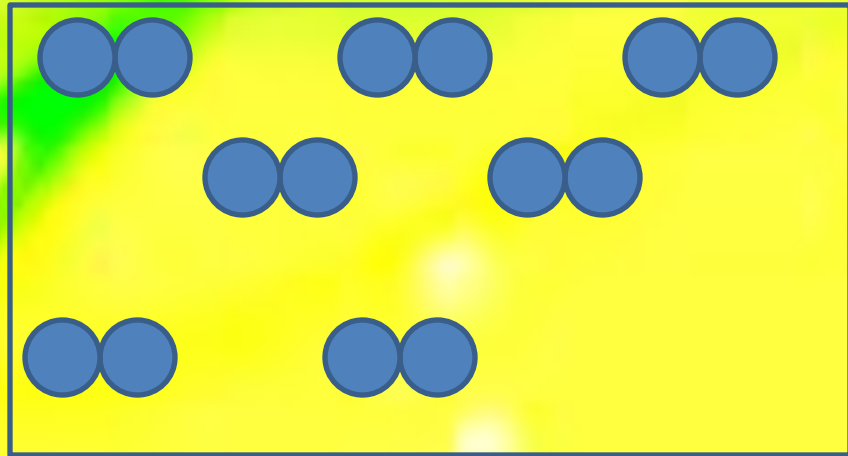
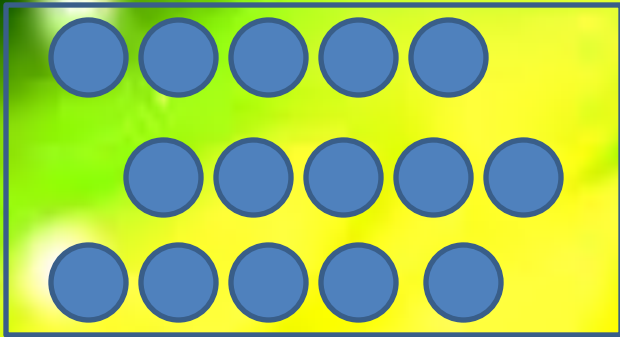


Объявление!!!!



**Таблица умножения
Достойна уважения.
Она во всём всегда права:
Чтоб ни случилось в мире,
А всё же будет дважды два
По-прежнему четыре.**





5 X 3

4 X 3

7 X 7

3 X 5

2 X 7

Составляем задачу



7 кг



7 кг



7 кг

Как можно вычислить массу яблок в трех ящиках?



$$7 + 7 + 7 = 21$$

$$7 \times 3 = 21$$

Выбераем правильное решение.

На пригорке возле ёлок
Ёжик яблоки считал:
Семь под ёлкой, семь за ёлкой,
Семь в мешке за тем пригорком,
Семь в избе на третьей полке,
Семь под лавкою в саду.
Сколько яблок, как понять?
Ёж не может разобрать.



$5 \cdot 7$

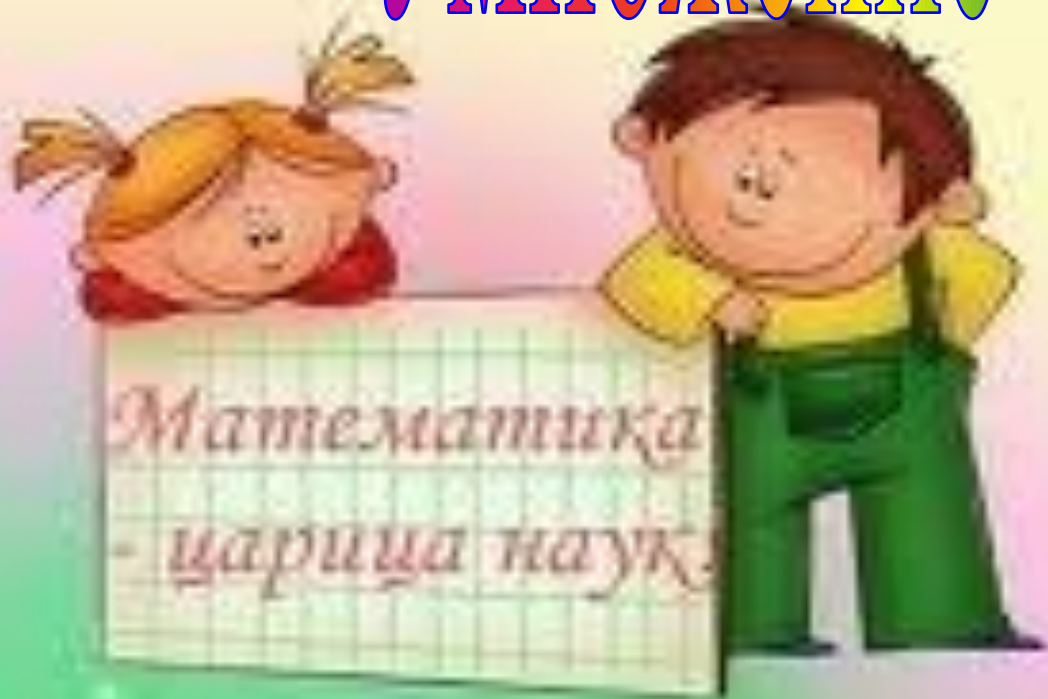
$7 \cdot 5$


$7 \cdot 4$



Умножение семи и

на 7



- 
- $7 \cdot 1 = 7$
 - $7 \cdot 2 = 17$
 - $7 \cdot 3 = 21$
 - $7 \cdot 4 = 28$**
 - $7 \cdot 5 = 35$
 - $7 \cdot 6 = 42$
 - $7 \cdot 7 = 49$
 - $7 \cdot 8 = 56$
 - $7 \cdot 9 = 63$

- $7 + 7 = 14$**
- $14 + 7 = 21$**
- $21 + 7 = 28$**

Проверь себя!

$7 \times 1 = ?$

$7 \times 6 = ?$

$7 \times 2 = ?$

$7 \times 7 = ?$

$7 \times 3 = ?$

$7 \times 8 = ?$

$7 \times 4 = ?$

$7 \times 9 = ?$

$7 \times 5 = ?$

$7 \times 10 = ?$



Решаем задачу



| Количество бананов в 1 грозди | Количество гроздей | Всего бананов |
|-------------------------------|--------------------|---------------|
| 7 шт. | 4 гр. | ? шт. |
| 12 шт. | 1 гр. | 12 шт. |

1) $7 \cdot 4 = 28$ (шт.)

2) $28 + 12 = 40$ (шт.)

$7 \cdot 4 + 12 = 40$ (шт.)



| Количество фруктов в 1 подарке | Количество подарков | Всего фруктов |
|--------------------------------|---------------------|------------------|
| 7 шт. | 6 п. | ? шт. } ? |
| 7 шт. | 6 п. | ? шт. |

$$7 \cdot 6 + 7 \cdot 6 = 84 \text{ (шт.)}$$

$$(7 \cdot 6) \cdot 2 = 84 \text{ (шт.)}$$

Блиц-турнир



$$7 \cdot 2 = 14$$



$$5 \cdot 7 = 35$$



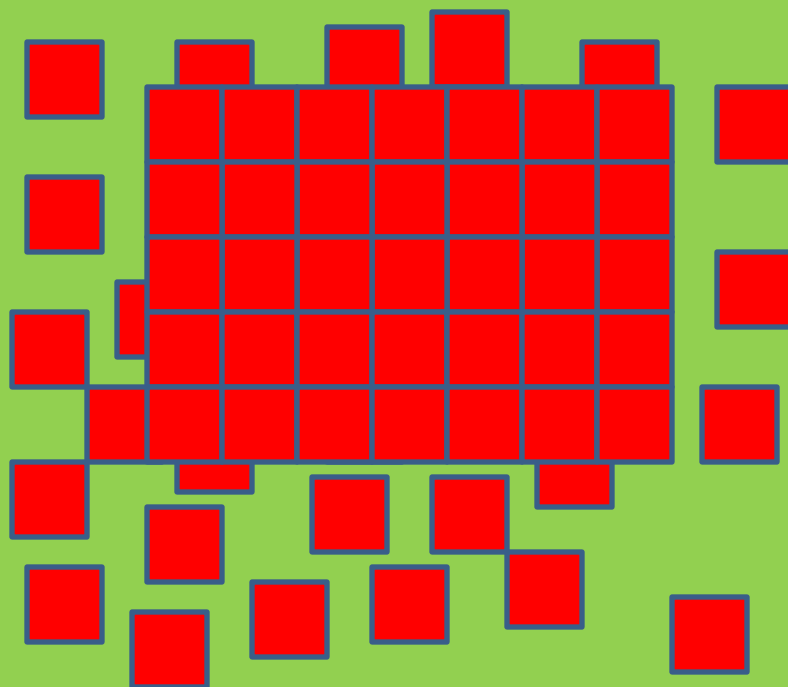
$$2 \cdot 7 = 14$$



7 купе

$$4 \cdot 7 = 28$$

Какая фигура рассыпалась?




Как найти площадь прямоугольника?

$$S = 7 \cdot 5$$

$$S = 35 \text{ см}^2$$


Какая фигура рассыпалась?



Как найти площадь квадрата?

$$S = 7 \cdot 7$$

$$S = 49 \text{ см}^2$$



*Гриб помножим на сосну,
Лист помножим на весну,
Тёплый ветер – на зерно,
Землянику – на звено.
Множим солнце на лучи,
Всех мальчишек – на мячи,
Всех девчонок – на «хи-хи»,
Всех поэтов – на стихи.
Множим крыши на людей,
А метро – на лошадей,
Голубей – на чердаки,
Поваров – на черпаки,
Выйдут тысячи чудес,
Выйдет лес до небес,
Города, моря, поля, -
Выйдет целая земля!*



Ресурсы:

- <http://images.google.ru/imghp?hl=ru&tab=wi> картинки;
- <http://images.yandex.ru/> картинки;
- http://rebus.detsky-mir.com/2871/rebusy_po_matematike/;
- <http://znajka.net/>;
- <http://www.prozagadki.ru/>
- http://images.yandex.ru/yandsearch?ed=1&text=детские_фоны.
- http://planetarium-kharkov.org/files/pictures/05_moon_meteorit_alh-81005.jpg
- <http://www.gifpark.ru/COSM>.
- <http://karaoke.yarsk.info/>

Автор презентации

Емелина Елена Владимировна,

учитель начальных классов

МБОУ «СОШ № 18» г. Нижневартовска,

Тюменской области, ХМАО-Югры