


На заметку.

**Математику нельзя
изучать, наблюдая,
как это делает сосед.**



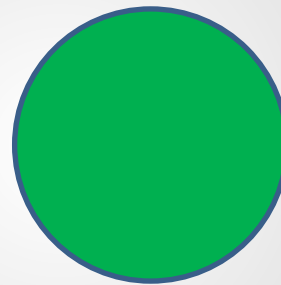
Игра «Разгони тучи!»



1 страница «Что умеем»



Ищем «лишнюю» фигуру.



«Лишнее» число.

6

15

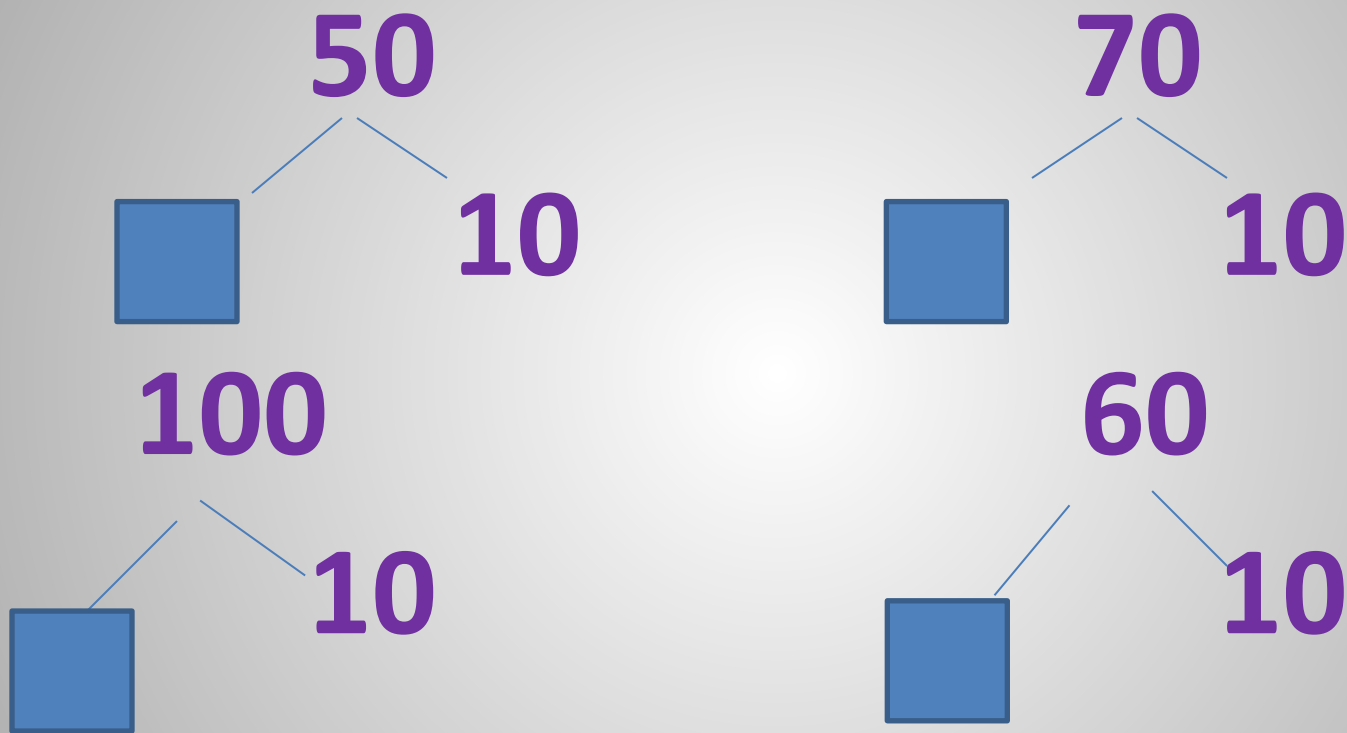
8

16

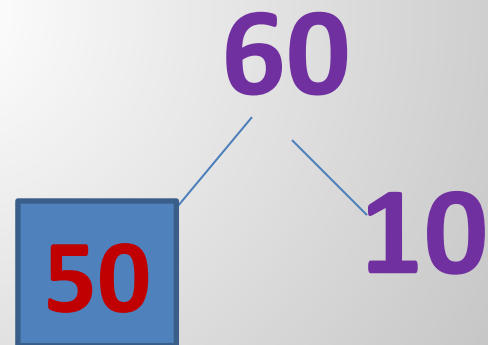
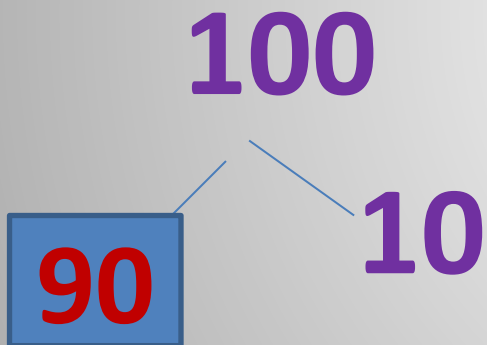
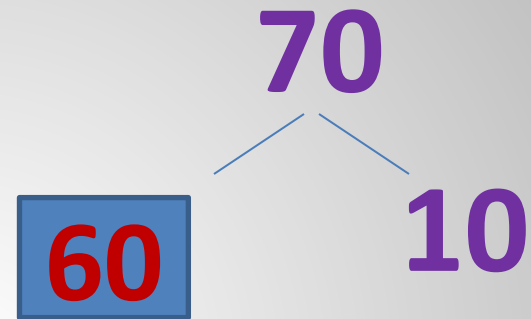
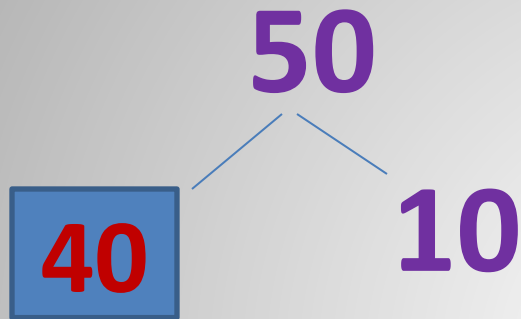
20

Открой окошечко.

Работа в паре.



Проверь себя.



Дополни до 10.

10	9	7	5	8	6
	1	2	5	2	4

2 страница.

«Открываем новое»



Вычитание

вида

30-7

3 страница.

«Пробуем свои силы»



4 страница
**«Мыслим, думаем,
смекаем»**



Тест

1. А-11

Б-3

В-10

2. А-12

Б-6

В-7

3. А-16

Б-17

В-3

Проверь!

1. А- 11

2. Б- 6

3. В- 3

Задача №8

У Пети три игрушки: обезьяна, утка и слон. Петя определил, что шаг обезьяны 15см, утки на 10см короче, а слона на 20см длиннее, чем обезьяны. На сколько сантиметров шаг утки короче шага слона?

Задача №8

У Пети три игрушки: обезьяна, утка и слон. Петя определил, что шаг обезьяны **15см**, утки на 10см короче, а слона на 20см длиннее, чем ~~обезьяны~~.

На сколько сантиметров шаг утки короче шага слона?

Работаем самостоятельно.

1 уровень

$$20 * 20 + 3$$

$$60 - 7 * 60$$

2 уровень

$$35 + . < 40 - 1$$

$$60 - 3 > 54 + .$$

Работаем самостоятельно.

1 уровень

$$20 < 20+3$$

$$60-7 < 60$$

2 уровень

$$35+4 = 40-1$$

$$60-3 > 54+2$$

Найди решение задачи.

«Ребята приготовили ко дню Матери 20 синих и 5 красных салфеток. Для поздравления ветеранов они передали 8 салфеток. Сколько салфеток ещё осталось?»

$$(20-8)-5$$

$$(20+5)-8$$

$$(20-8)+5$$

$$20+8-5$$

5 страница
«Внимание! Внимание!»

$$50-2=48$$



$$80-5=85$$



$$70-3=68$$



$$40-1=39$$



6 страница

«Я-»

1м 29 43 40

Осталось-7в.

Было-? 23 7

84 10дм

Улетели-8в. 32-2

80 45 48

29+1 6

53 41 100см


Придумать задания на:

- 1)сравнение выражений,
- 2)преобразование единиц длины,
- 3)нахождение «лишнего» числа,
- 4) Составить задачу

РЕФЛЕКСИЯ



Рефлексия.



Я научилась(ся) вычитать и могу помочь другим.



Тема мне понятна, но надо ещё потренироваться.



Мне пока было трудно. Необходимо подойти за помощью к учителю.

