




www.akok.ru
Андрей Кокорин

Устный счёт, логические задачи





3

4

5

2

1

6

7

Устный счёт

Я тетрабочку открою
И как надо положу!
Я друзья от вас не скрою:
Ручку я вот так держу!
Сяду прямо, не согнусь,
За работу я возьмусь



Математический диктант



В Ш И Я Ж Е Н П Е

4 5 8 9 1 2 7 3 6

$$1 + 6$$

$$7 - 2$$



Числовые выражения состоят из чисел и знаков математических действий.

ПЛЮС	МИНУС
$+$	$-$



Выберите записи,
которые являются
выражениями:



$2 + 6$

$7 - 4 + 1$

$5 = 5$

$7 - 4$

$7 + 1 > 5$

$1 - 1$

Молодцы!



$$\underline{2 + 6}$$

$$\underline{7 - 4 + 1}$$



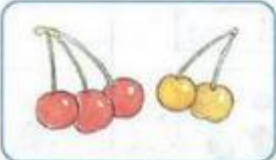

$$5 = 5$$

$$\underline{7 - 4}$$

$$7 + 1 > 5$$

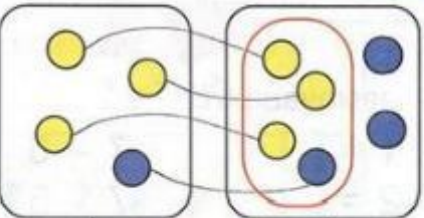





$$\underline{1 - 1}$$

1

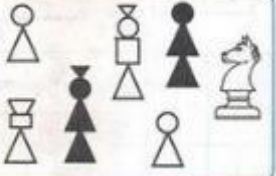

	$2+3$		7
<input type="checkbox"/>	$1+1+2$		
	$1+4$		<input type="checkbox"/>
<input type="checkbox"/>	$3+2+2$		

2

$>, <, =$

	$3 + 1$	$<$		$3 + 3$		<input type="checkbox"/>		<input type="checkbox"/>
	<input type="checkbox"/>	<input type="checkbox"/>		<input type="checkbox"/>	$2 + 1$	<input type="checkbox"/>	$2 + 3$	<input type="checkbox"/>

3 Объясни, что означают выражения:


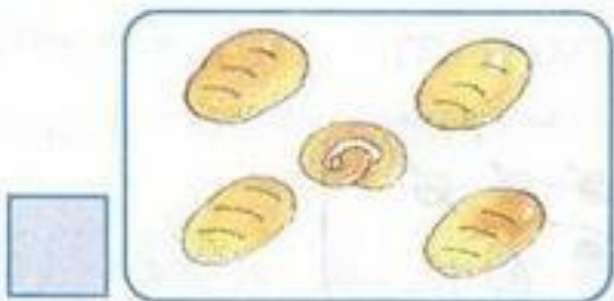
	$2 + 5$	$7 - 2$	
$5 + 2$	$7 - 5$		

Работа по учебнику

страница 8

Задание 1 с.8

1




$2+3$


$1+1+2$

$1+4$

$3+2+2$



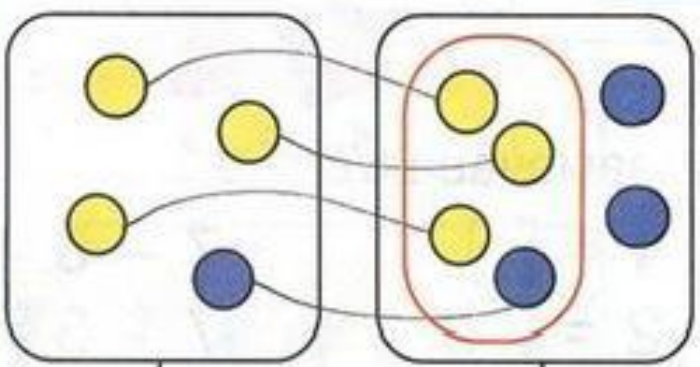
7



Задание 2 с.8

2

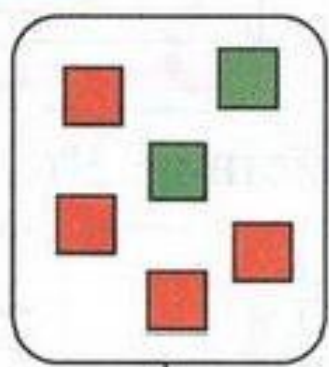
>, <, =



$3 + 1$

<

$3 + 3$



\square

\square

\square



\square

\square

\square




$2 + 1$

\square

$2 + 3$

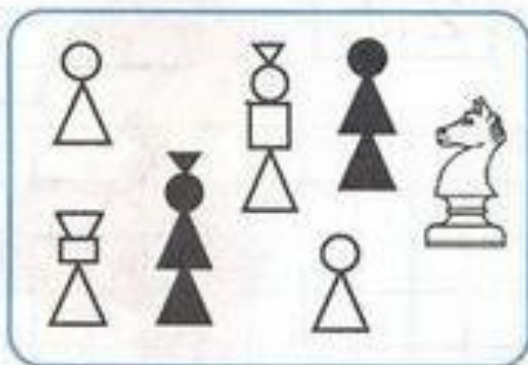
Вывод:

Если в суммах одно слагаемое
одинаковое, то меньше та
сумма, у которой второе
слагаемое меньше.
И наоборот.



Задание 3 с.8

3 Объясни, что означают выражения:



$$2 + 5$$

$$7 - 2$$

$$5 + 2$$

$$7 - 5$$

?



Задание 4 с.9

4

$B = \square + \square + \square$ $K + C = \square - \square$
 $K = \square - \square - \square$ $\square - \square = 3 + K$

В – это целое

К, 3, С – это части

B

K

C

3



1 6 8 4 2 7 4 1 6 8 4 2 7 4

B

K

C

3



Задание 5 с.9

5) Расшифруй слово:

$7 - 2 - 1 = \square \text{ Н}$

$4 - 1 - 2 = \square \text{ С}$

$3 + 4 - 2 = \square \text{ Ц}$

$5 - 4 + 1 = \square \text{ О}$

$2 + 2 + 2 = \square \text{ Е}$

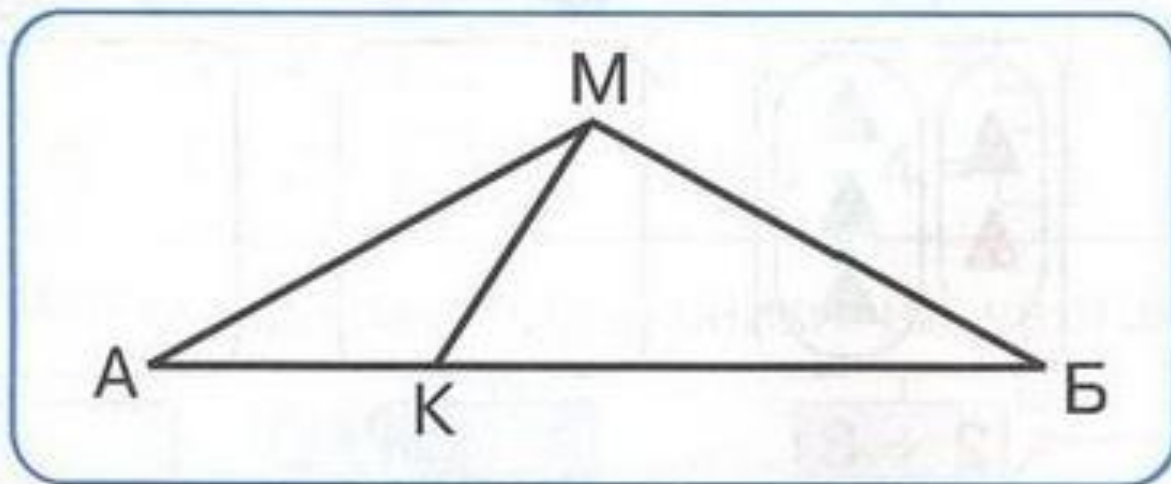
$4 - 3 + 2 = \square \text{ Л}$

--	--	--	--	--	--

С	О	Л	Н	Ц	Е
----------	----------	----------	----------	----------	----------

Задание 6 с.9

6 Сколько спряталось треугольников?



**Всё ли было
понятно?**






**Кто справился со
всеми заданиями?**

**Какое задание было самым
трудным?**



**Оцените свои достижения
на уроке**



Спасибо за урок!



**До новых
встреч!**