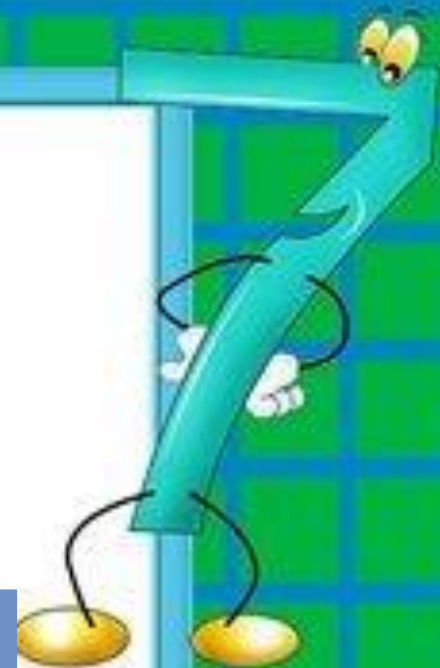



УРОК
МАТЕМАТИКИ
1 КЛАСС



 $2+2=$

$ax+by=c$ 



 $4-2=$ 



9 апреля.
Классная работа.



| | | | | | | | | | |
|----|---|---|----|---|---|----|---|----|----|
| е | о | в | е | п | т | р | о | н | |
| 11 | 9 | 7 | 14 | 5 | 8 | 10 | 6 | 12 | 13 |





9 апреля.
Классная работа.




| | | | | | | | | | |
|---|---|---|---|---|----|----|----|----|----|
| П | О | В | Т | О | Р | Е | Н | И | |
| № | 6 | 7 | 8 | 9 | 10 | 11 | 12 | 13 | 14 |




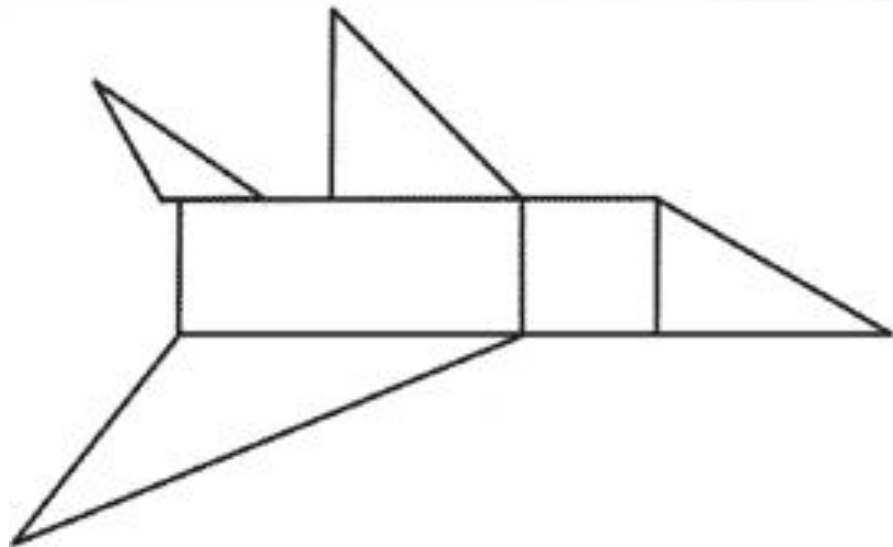
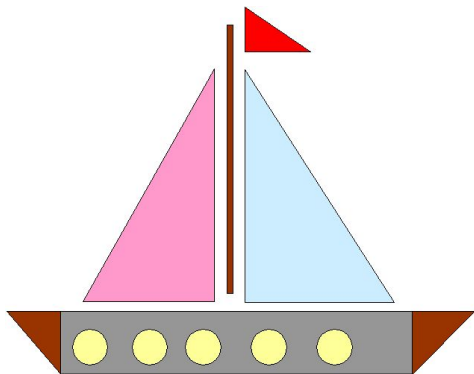


Good Luck




$$2+2=$$

$$ax+by=c$$





9 апреля.
Классная работа.

5 6 7 8 9 10 11 12 13 14
П О В Т О Р Е Н И
Е





*Запишите числа, разделив их на
однозначные и двузначные.*

5



7



3



11 5 6 10 14 9 13 8 7 12



9 апреля.
Классная работа.

5 6 7 8 9 10 11 12 13 14

П О В Т О Р Е Н И

Е

5 6 7 8 9 10 11 12 13 14





5



7



3





*Оцените себя по
алгоритму:*



Я разделила...

Задание выполнила...

Затруднений

 $2+2=$

$ax+by=c$ 







9 апреля.
Классная работа.


5 6 7 8 9 10 11 12 13 14


П О В Т О Р Е Н И

Е

5 6 7 8 9 10 11 12 13 14

$$10 + 3 = 13$$






$2+2=$

$ax+by=c$

улица






9 апреля.
Классная работа.


5 6 7 8 9 10 11 12 13 14
П О В Т О Р Е Н И

Е
5 6 7 8 9 10 11 12 13 14

$$10 + 3 = 13$$

$$13 - 10 = 3$$






$2+2=$

$ax+by=c$

улица





9 апреля.
Классная работа.

5 6 7 8 9 10 11 12 13 14
П О В Т О Р Е Н И


Е
5 6 7 8 9 10 11 12 13 14

$$10 + 3 = 13$$

$$13 - 10 = 3$$

$$13 - 3 = 10$$





$2+2=$

$ax+by=c$





$4-2=$

$2/1$



Вера ищет подружек, которые спрятались от неё.

За перегородкой она увидела 10 ног.

Сколько подружек спрятались от Веры?

Ане подарили 8 книг. Все, кроме 5, она прочитала.

Сколько книг ей осталось прочитать?

Мама и две дочери катались на велосипедах.

У велосипедов было 7 колёс.

Сколько было двухколёсных и трёхколёсных?

Алёша пошёл гулять в три часа и вернулся домой в 5 часов.

Сколько часов он гулял?

5




7




3




$$2+2=$$

$$ax+by=c$$







*Математический
диктант.*



10 20 17 18 11 16 1 3 7 9




$$2+2=$$

$$ax+by=c$$







5



7



3



Стр. 89
Задача 4



Математический диктант.

10 20 17 18 11 16 1 3 7 9

Задача
4.



Рефлексия



На уроке
было
неинтересно.



Я ничего не
понял и с
нетерпением
ждал конца
урока.



Я все понял. Урок понравился.