

***Математика.***

***Тема: Что  
узнали. Чему  
научились.***

ОСТРОУХОВ ИЛЬЯ СЕМЕНОВИЧ  
«ЗОЛОТАЯ ОСЕНЬ»





**30 ОКТЯБРЯ.**

***Классная работа.***

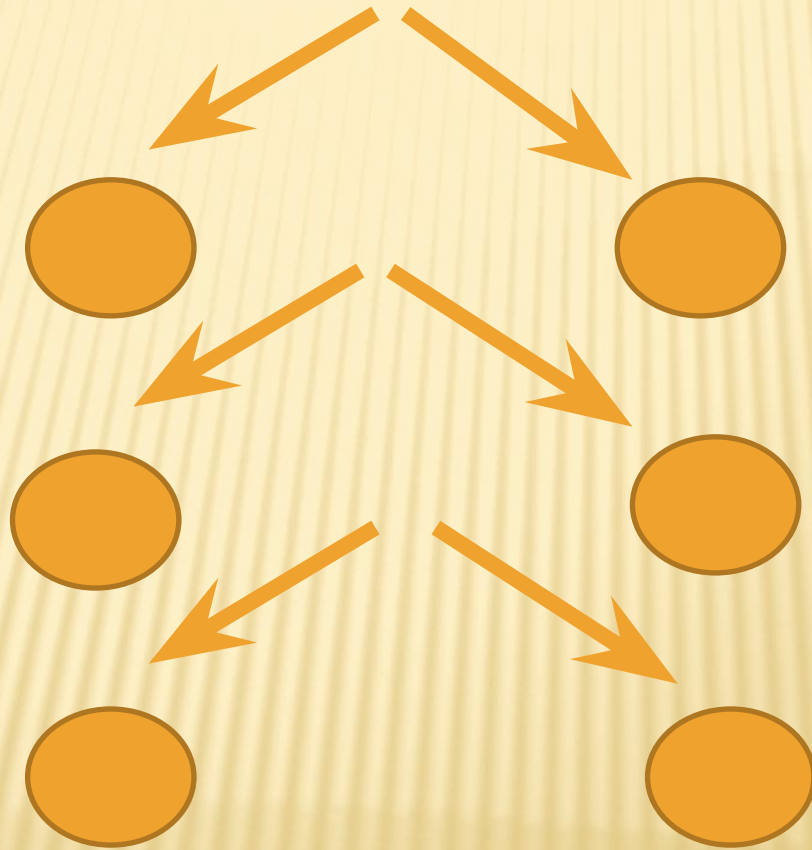




12





# 12








# НАКОРМИМ ПТИЦ

$5 + 6 =$  

$8 + 4 =$  


$18 - 3 =$  


$13 - 7 =$  


$12 - 5 =$  

$14 +$  

20

 ОТЛИЧНО

 1-2 ошибки молодец

 НУЖНО ПОЗАНИМАТЬСЯ





**15, 7, 12, 6, 20, 11.**

# ФИЗКУЛЬТМИНУТКА



# ЗАДАЧА ОТ БЕЛОЧКИ

---





## ЗАДАЧА 1

- ✘ Одна белка собрала 11 грибов, а другая – 8. На сколько больше грибов собрала первая белка, чем вторая?



## ЗАДАЧА 2

- ✘ У одной белочки в дупле 7 орехов, а у другой на 3 ореха больше. Сколько орехов запасли белочки вместе?



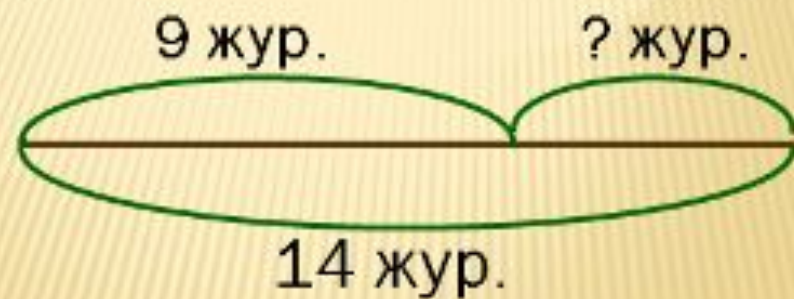
# ОСИНА

---

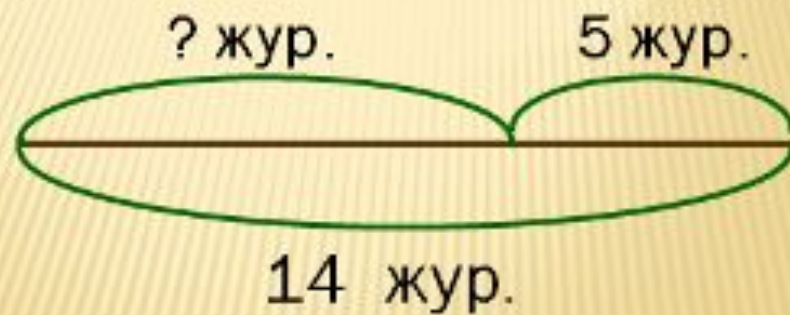




## ОБРАТНАЯ ЗАДАЧА



## ОБРАТНАЯ ЗАДАЧА



# Осенние испытания

5 см



50 мм

1 м



100 см

70 дм



7 дм 5 см

8 см 3 мм



3 см 8

мм

## УЧЕБНИКИ С.55 №23

---

✘ Вычисли удобным способом.

$$7 + 8 + 3 + 2 =$$

$$18 + 11 + 2 + 9 =$$

$$6 + 2 + 8 + 4 =$$

$$17 + 5 + 5 + 3 =$$