

Презентация
выполнена учителем
начальных классов
Егоровой А.А.
«Школа № 448»






5 CM

$$P=5+5+5+5=20 \text{ (CM)}$$

$$P=5 \cdot 4=20 \text{ (CM)}$$



=




=





=



=



Пираты решили поделить рыбу между собой.
Сколько пиратов получат по 2 рыбки, если рыбок
было 12?





Деление





сложение +

• умножение



вычитание —

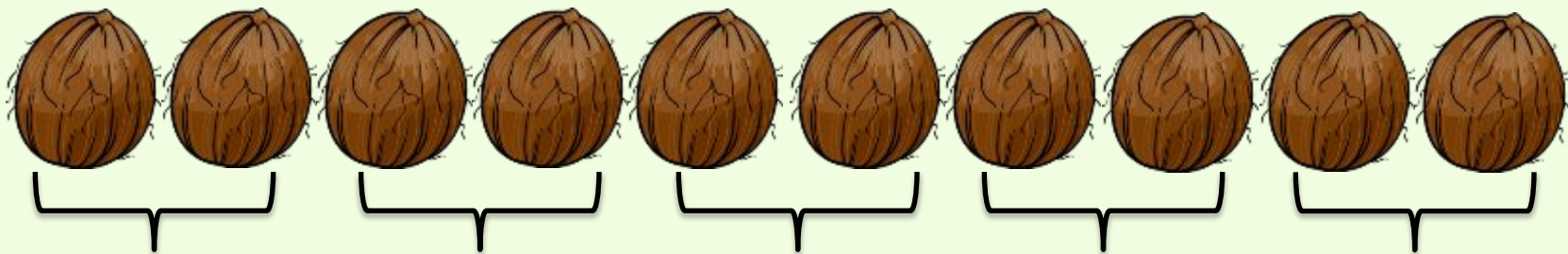
: деление



$$12:2=6 \text{ (п.)}$$



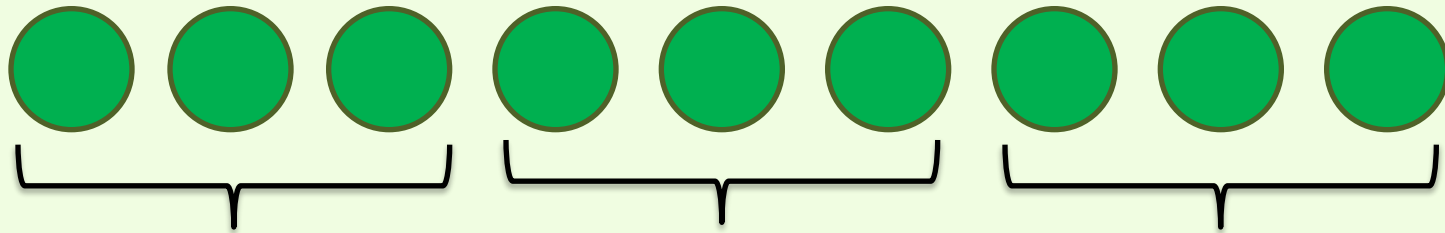
Моряки разделили 10 кокосовых орехов, по 2 ореха каждому. Сколько моряков получили орехи?



$$10:2=5 \text{ (м.)}$$

Ответ: 5 моряков.


Выполните деление, используя
рисунок.



$$9:3=3$$



Выполните деление, используя
рисунок.



$$10:5=2$$



Деление



Я научился...

Было интересно...

Было трудно...



Сравните не вычисляя.


$$6 \cdot 3 \quad = \quad 3 \cdot 6$$



Сравните не вычисляя.

$$7 \cdot 3 > 7 + 3$$



Сравните не вычисляя.

$$5 \cdot 3 < 3 \cdot 6$$



В трёхэтажном доме жили 3 щенка: бульдог, такса и пудель. Щенки с первого и второго этажей не были таксой. Бульдог не жил на первом этаже. Определи место проживания каждого щенка.

| | 1 этаж | 2 этаж | 3 этаж |
|---------|--------|--------|--------|
| Бульдог | | | |
| Такса | | | |
| Пудель | | | |



В трёхэтажном доме жили 3 щенка: бульдог, такса и пудель. Щенки с первого и второго этажей не были таксой. Бульдог не жил на первом этаже. Определи место проживания каждого щенка.

| | 1 этаж | 2 этаж | 3 этаж |
|---------|--------|--------|--------|
| Бульдог | — | + | — |
| Такса | — | — | + |
| Пудель | + | — | — |

