

Презентация

Урок математики в 1 классе.


Учебник «Моя математика» Т.Н.
Демидовой, С.А.Козловой, А.П.Тонких

Учитель: Чиркова А.П.

МОУ Усть-Баргузинская СОШ
им. Шелковникова К.М.



Урок математики



Девиз нашего урока.


Мы - дружные!

Мы - внимательные!

Мы - старательные!

Мы - отлично учимся!

Всё у нас получится!



Карта волшебной страны



- Река
- Болото
- Овраг Мост Чудес




Школа

Замок Мыслителей



Пик Удачи




Лес Надежды



Карта волшебной страны

Школа



- Река
- Болото
- Овраг Мост Чудес

Замок Мыслителей



Пик Удачи



Лес Надежды






$$y-3=4$$

$$y=4+3$$


$$y=8$$



$$y-3=4$$

$$y=4+3$$

$$y=7$$




$$y-3=4$$

$$y = 4-3$$

$$y = 1$$

Карта волшебной страны

Школа



- Река
- Болото
- Овраг
- Мост Чудес

Замок Мыслителей




Пик Удачи



Лес Надежды




Решение уравнения. Проверка решения



Карта волшебной страны

Школа




- Река
- Болото
- Овраг Мост Чудес

Замок Мыслителей



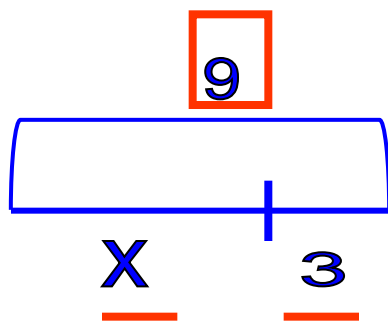
Пик Удачи



Лес Надежды



Часть Целое



$$\boxed{9} - x = \underline{3}$$

$$x = 9 - 3$$


$$x = 6$$

$$9 - 6 = 3$$

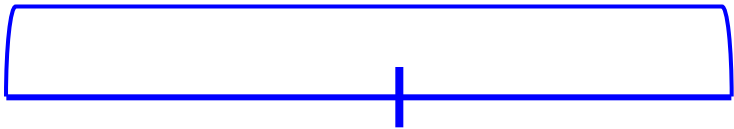
$$3 = 3$$

Алгоритм

1. Выделить части и целое.
2. Определить, что неизвестно.
3. Применить правило (как найти)
4. Найти корень уравнения.
5. **Выполни проверку.**




X



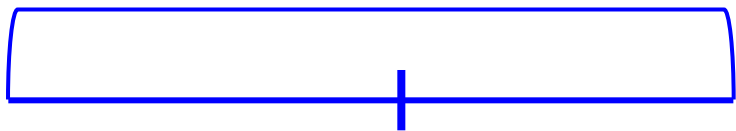
5

4

$$X - 5 = 4$$



X



5

4


$$\boxed{x} - 5 = 4$$

$$x = 4 + 5$$
$$x = 9$$
$$\underline{9 - 5 = 4}$$

$$4 = 4$$

Карта волшебной страны

Школа



- Река
- Болото
- Овраг Мост Чудес

Замок Мыслителей



Пик Удачи

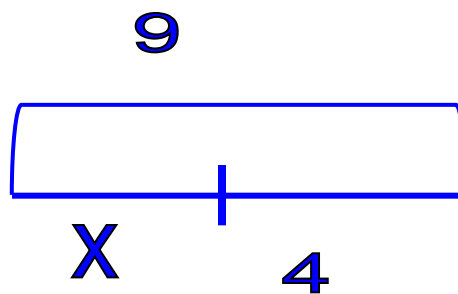


Лес Надежды



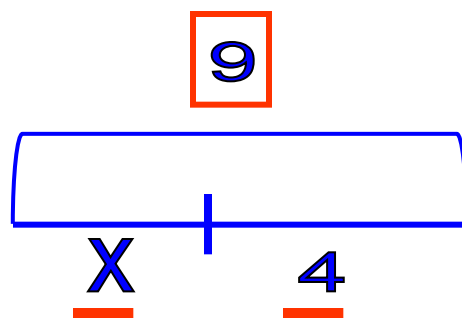


Учебник с. 64, № 4



$$x + 4 = 9$$

Учебник с. 64, № 4




$$\underline{x} + \underline{4} = \boxed{9}$$

$$x = 9 - 4$$

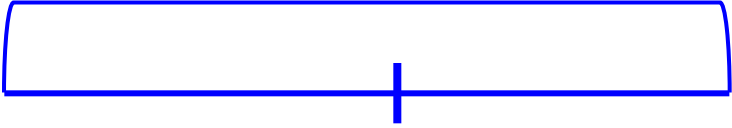
$$x = 5$$

$$5 + 4 = 9$$

$$9 = 9$$

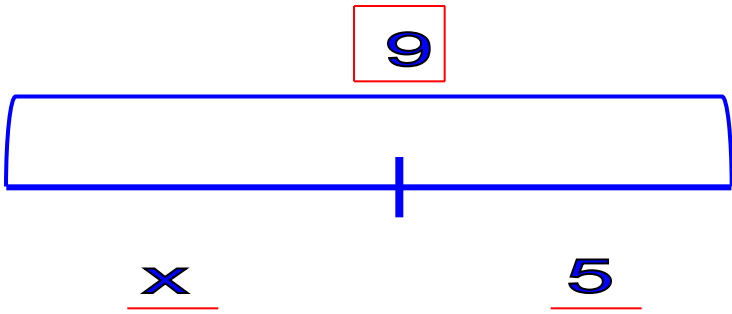



9



x

5



$$\square - \underline{\quad} = \underline{\quad}$$

9 - x = 5

~~9 - 4 = 5~~

~~5 = 5~~

Карта волшебной страны

Школа



- Река
- Болото
- Овраг Мост Чудес



Замок Мыслителей



Пик Удачи



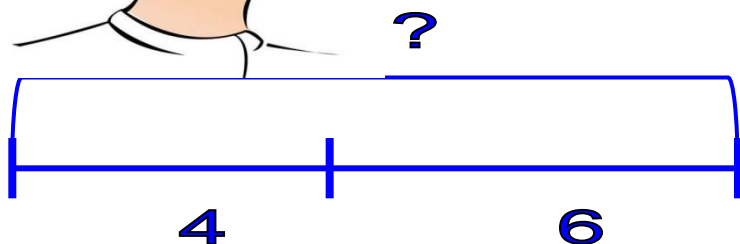
Лес Надежды







Учебник. С,65 №5(а)

Учебник. С,65 №5(а)





$$4+6=10(6)$$



Ответ: 10 бубликов у девочек.



- Урок прошел удачно.
Я доволен собой!



- Мне было трудно, но я
справлялся с заданиями.
Я вполне доволен собой!



- Мне было очень трудно.
Мне нужна помощь!

Спасибо! Молодцы!

