

1 нче февраль
Сыйныф эше

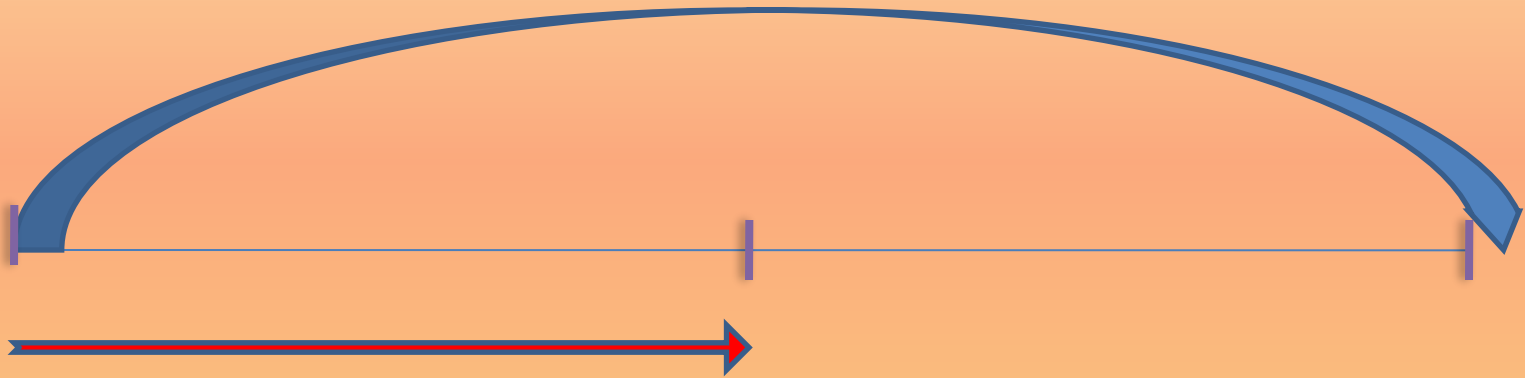


- 1. $6726 : 3$
- 2. $300 : 25$
- 3. 1534×4
- 4. 248×5

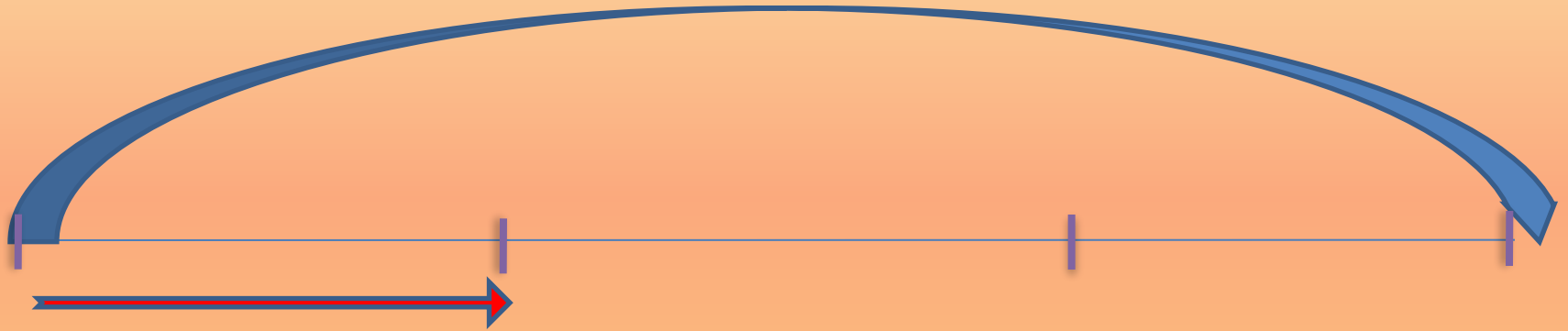


- 1. $6726 : 3 = 2242$
- 2. $300 : 25 = 12$
- 3. $1534 \times 4 = 6136$
- 4. $248 \times 5 = 1240$

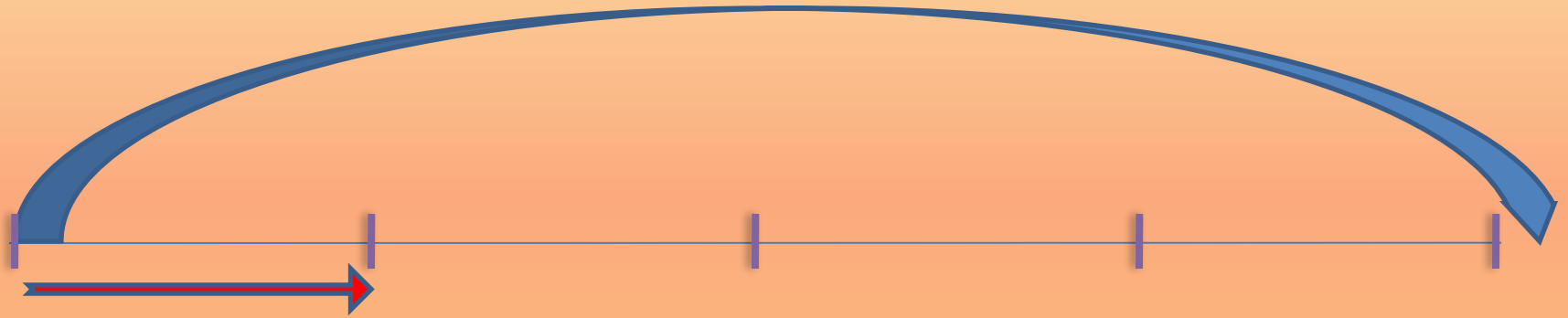




Яртысы (половина)



Өчтэн бере (одна третья часть)




Чирек (одна четвѐртая доля)

Зурлыкның өлешен табу һәм өлеше буенча зурлыкны табу

1. Нәрсә ул өлеш?
2. Зурлыкның өлешен ничек табарга?
3. Өлеше буенча зурлыкны ничек табарга?



4 CM



a - 4 CM

S - ? KB. CM



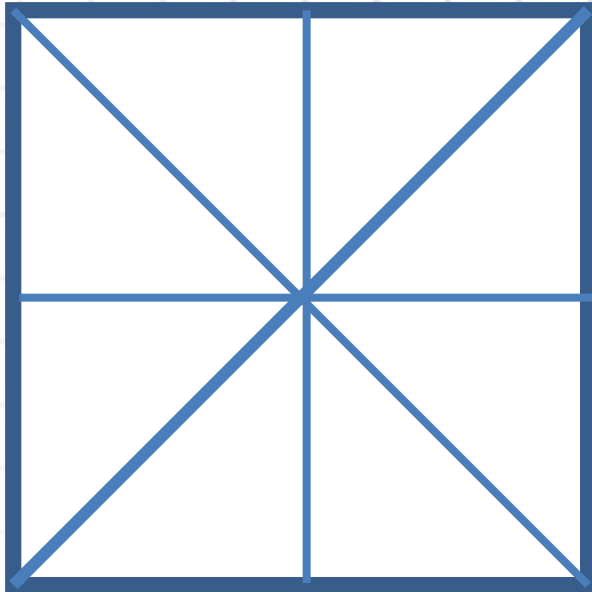
Чишү:

α - 4 см

$$S = \alpha \bullet \alpha = 4 \bullet 4 = 16 \text{ (кв. см)}$$




4 CM



a - 4 CM

S - 16 КВ. CM



ЧИШҮ:

α - 4 см

$$S = \alpha \bullet \alpha = 4 \bullet 4 = 16 \text{ (кв. см)}$$

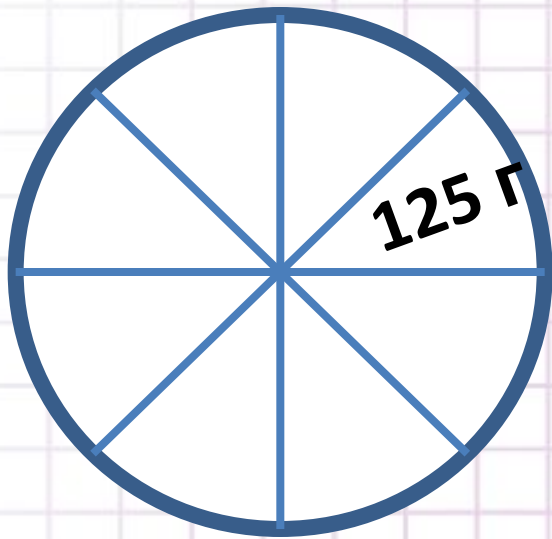
$$S \text{ чирек} = 16 \text{ кв. см} : 4 = 4 \text{ кв. см}$$

$$S \text{ сигездән бер} = 16 \text{ кв. см} : 8 = 2 \text{ кв. см}$$



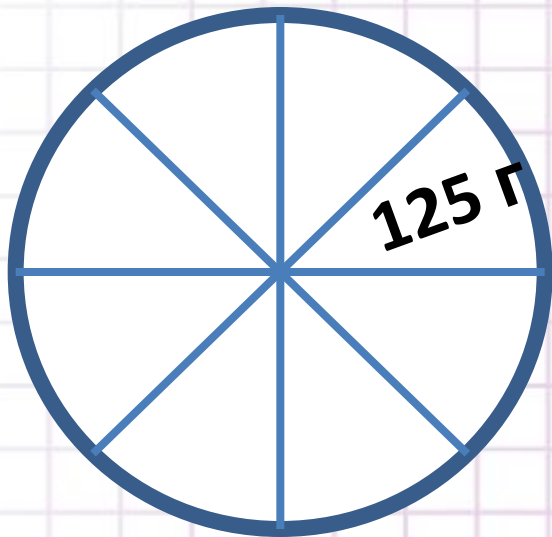
- Кагыйдә:
- **.1.Зурлыкның өлешен табу өчен аны кисәкләр санына бүләргә;**
- **2.Өлеше буенча зурлыкны табу өчен өлешне кисәкләр санына тапкырларга ;**





Чишу:

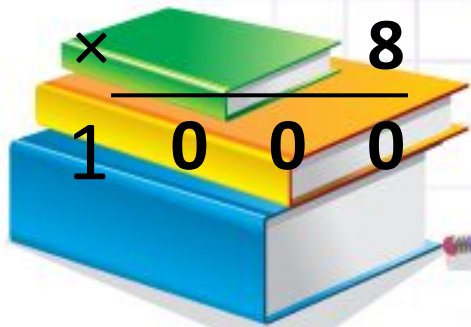




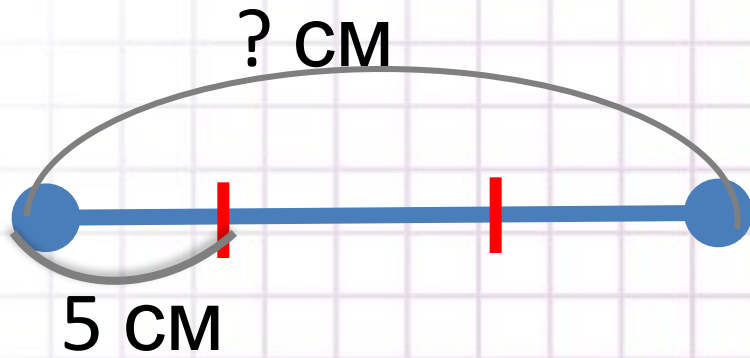
Чишү :

$$\begin{array}{r} 125 \\ \times 8 \\ \hline 1000 \end{array}$$

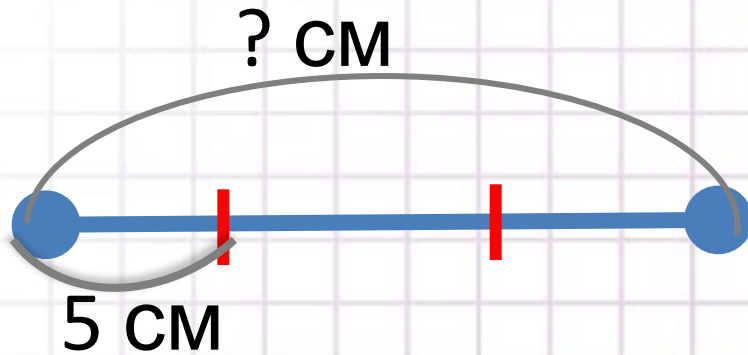
(Г яисә 1 кг)



№ 91(телдэн)



№ 91

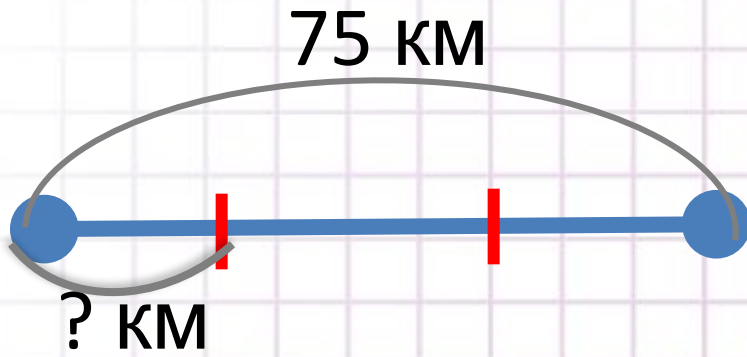


Чишу: $5 \text{ CM} \bullet 3 = 15 \text{ CM}$

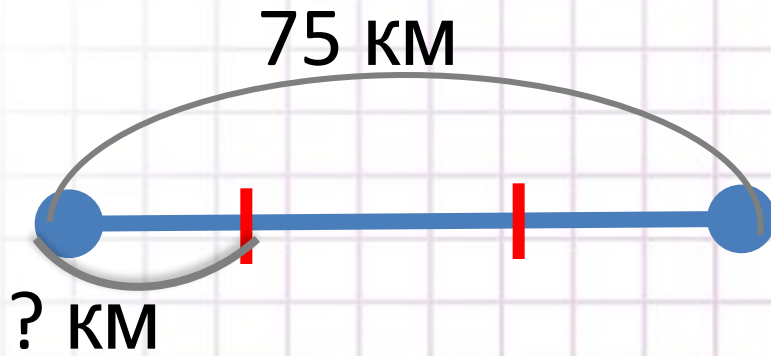
Жавап: Кисемтэнен озынлыгы 15 CM



№ 90



№ 90



Чишү:

$$\begin{array}{r} 75 \overline{) 3} \\ -6 \\ \hline 15 \end{array}$$

15

-15

0




№ 94

Эшнең күләме - ? кв. м

1 көнне – 200 кв. м

2 көнне - ? кв. м, барлык эш күләменең
чиреге

Калган – ? кв.м



№ 94

Чишү:


1) $200 \bullet 5 = 1000$ (кв.м) – барлык эш күләме

2)

	1	0	0	0	4				
		8			2	5	0	кв. м	- 2 нче көнне
		2	0						
		2	0						
			0						

3) $1000 - (200 + 250) = 550$ (кв.м)

Жавап: 550 кв. м юлны төзөтөсе калган.



№ 95


Чишү:

$$\begin{array}{r} 32 \\ \times 5 \\ \hline 160 \text{ (сум)} \end{array}$$

Жавап: казылык 160 сум тора .

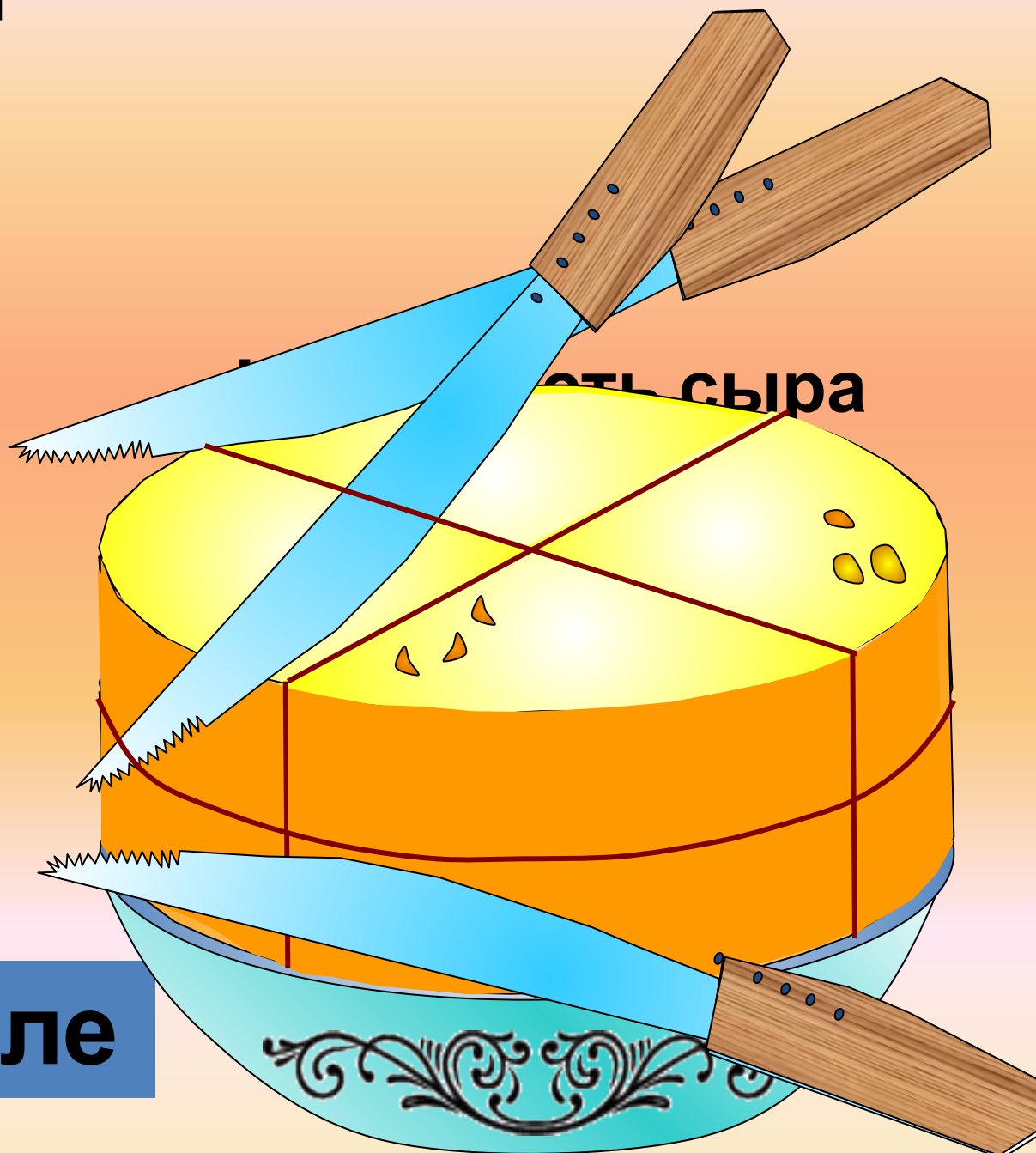


**Как разрезать головку сыра на 8 равных долей,
сделав только три разреза?**



Чиш

Ү



8 доле

Й

Зурлыкның өлешен табу һәм өлеше буенча зурлыкны табу

1. Нәрсә ул өлеш?
(**Бөтен зурлыкның бер яисә берничә тигез
кисәге**)
2. Зурлыкның өлешен ничек табарга?
(**булу гамәле
ярдәмендә**)
3. Өлеше буенча зурлыкны ничек табарга?
(**тапкырлау гамәлен
башкарып**)

Максат : Зурлыкның өлешен табу һәм өлеше
буенча зурлыкны табу буенча мәсьәләләр
чишәргә өйрәнү



Жөмләне дәвам ит:
Мин өйрәндем ...
Мин беләм...
Миңа авыр ...

Өй эше:
Мөстэкыйль эш дэфтэре (Т2)
на выбор:

- **19 бит, № 36, 37**
- **20 бит, № 38 (решить одну задачу по выбору)**

