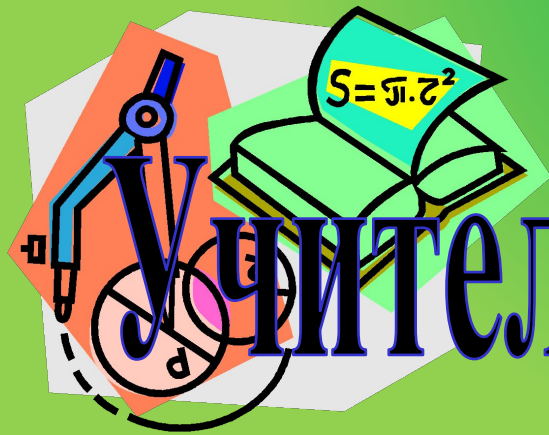




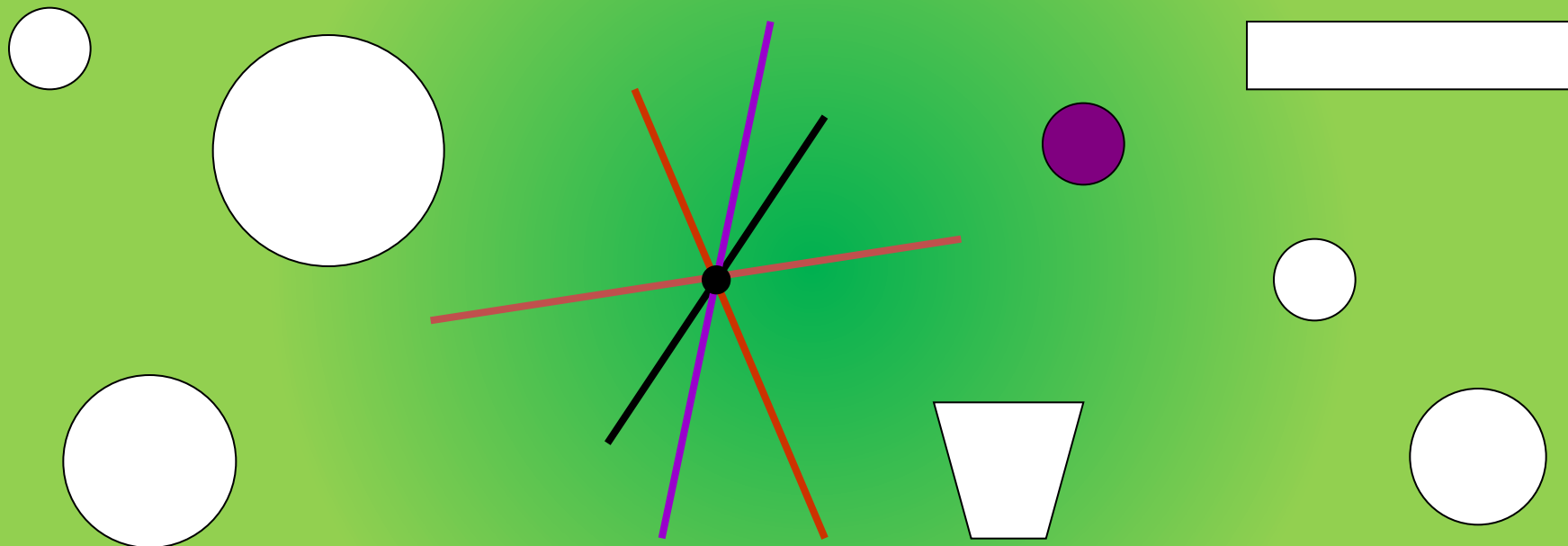
УРОК МАТЕМАТИКИ

в 1 классе



Учитель: Володина Л.Н.

**Выбери цифру, обозначающую количество
кругов; лучей; четырёхугольников; белых
фигур.**



Сколько ног у осьминога

Жил осьминог
Со своей осьминожкой.
И было у них
Осьминожков немножко...



Сколько осьминогов на рисунке?

Придумай, что могут означать равенства:


$$1 + 7 = 8$$

$$2 + 6 = 8$$

$$3 + 5 = 8$$

$$4 + 4 = 8$$

Разложи 8 вишенок в три мисочки разными способами.



Придумайте с товарищем как можно больше способов.



Состав числа 8

1 и



2 и



4 и



5 и



3 и



7 и



6 и



8 и





«Молодцы!»

Состав числа всем надо
знать,
Чтоб получать оценку **5**

