


ВЕСЕЛЫЙ СЧЁТ

Игра

СКОЛЬКО КОТЯТ ?



1

2



3

4

5

Сколько станет насекомых, если одна из бабочек улетит?

6



3

7

5

1



8



Сколько жуков надо нарисовать
чтобы и бабочек и жуков стало
поровну?



4



2

1

6



Сколько надо добавить мячей,
чтобы их стало 10?

3



6



5




2



7

4

Две птицы сидели на ветке. Еще две прилетело, а две улетело. Сколько птиц стало?



2

0

4

6

У клоуна в руках стільки предметів, скільки лапок у кота і курочки вместе. Скільки предметів в руках у клоуна?

8

4

2

0

6

10



Молодец!



ЖМИ НА КНОПКУ

До встречи!

