

Презентация к уроку
математики
1 класс
Тема: «Задача»

Романцова О.Н.
МАОУ СОШ № 5 г.Туапсе






$$1 + 3 = 4$$

$$4 - 1 = 3$$

$$3 + 1 = 4$$

$$4 - 3 = 1$$

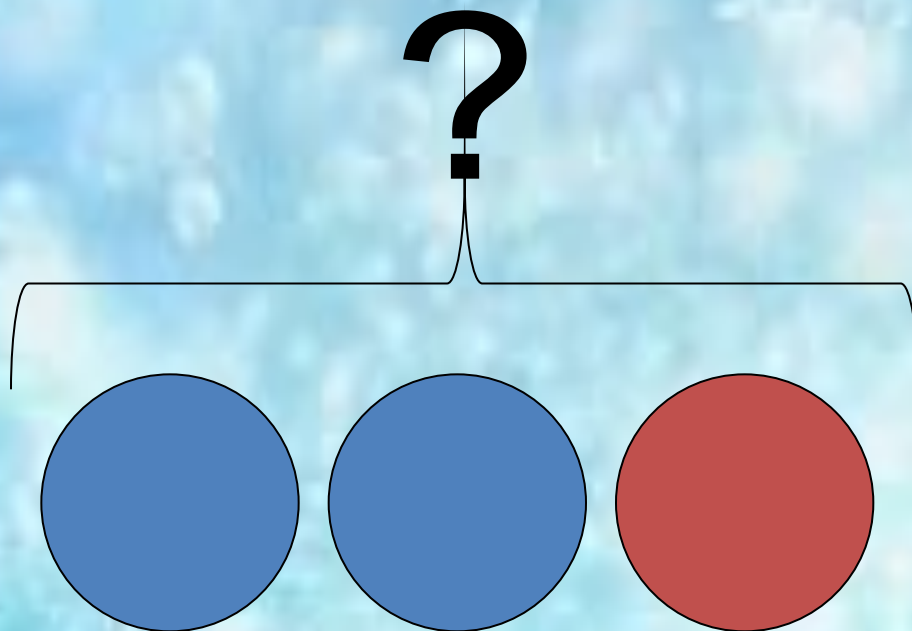


Петя поймал утром двух крабов, а вечером еще одного. Сколько всего крабов поймал Петя?

Петя поймал утром двух крабов, а вечером еще одного.


задача

условие задачи



1. Составить схему:

? цв.



2. Составим выражение:

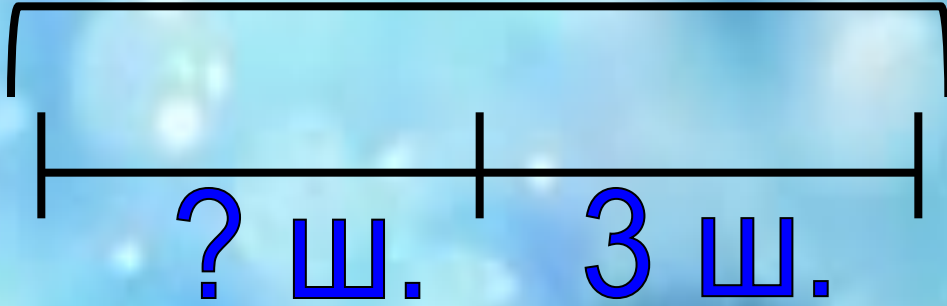
7	+	2
---	---	---

3. Найдем значение выражение:

7	+	2	=	9
---	---	---	---	---

4. Получим ответ: **9 ЦВЕТОВ.**

5 ш.




$$5 - 3 = 2$$

Ответ: 2 шара.



7



$$7 - 3 = 4$$

?



$$5 + 3 = 8$$

6



$$6 - 3 = 3$$

МОЛОДЦЫ!

