

Математика.

Тема урока:

● « Закрепление.
Решение задач.»

Проверим домашнее задание!

● Стр. 66- задание на смекалку.

● $(16+20):4=9$

● $9*(10-7)=27$

● $15+36:(9-3)=21$

Проверим вместе.

● $7 * 5 = 35$

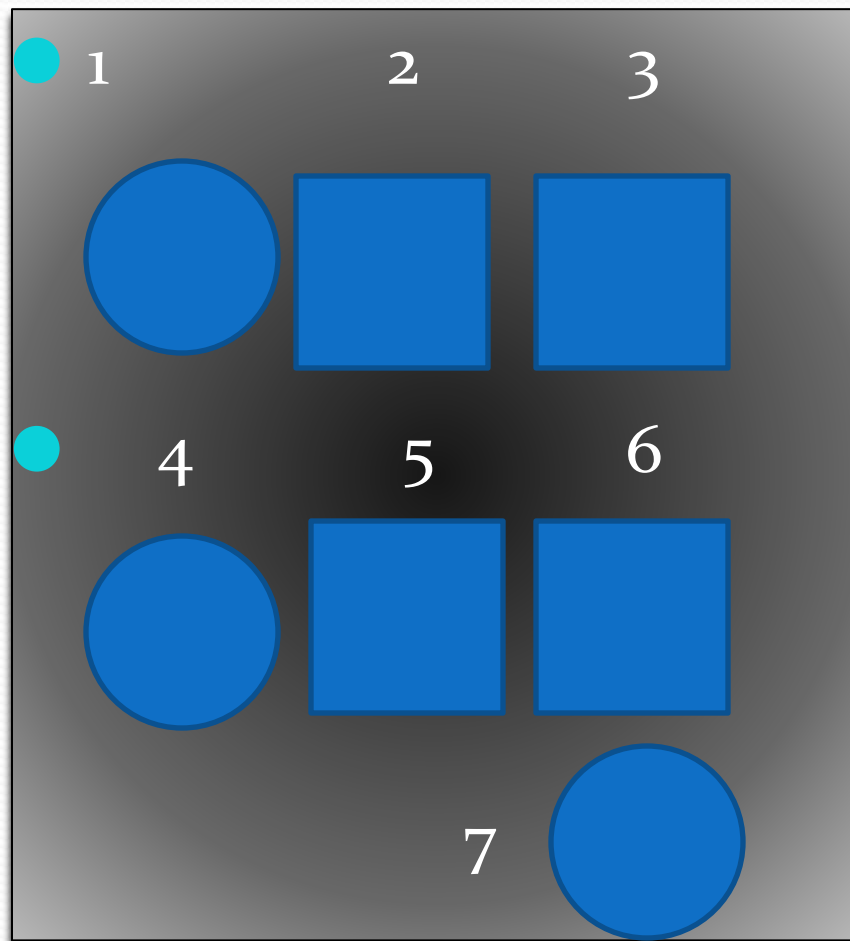
● $32 : 8 = 4$

● $63 : 9 = 7$

● $8 * 9 = 72$

● $4 * 9 = 36$

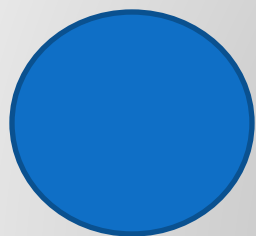
● $54 : 6 = 9$




Задача.

- У Гены, Коли, Кости и Толи во время игры оторвались пуговицы. Подпиши, где чья пуговица, если известно, что пуговица Коли не самая маленькая, но она меньше, чем у Гены и у Толи. А пуговица Гены не меньше, чем у Толи.


Ответ :



● Толя



Коля



Гена




Костя


Прочитай , поставь вопрос так , чтобы задача решалась в 2 действия, составь краткую запись и реши задачу.

- 1) На первом этаже школы 9 учебных помещений , а на втором- на 2 больше.
- 2) В школьном дворе росло 12 берёз, а рябин в 4 раза меньше.
- 3) На строительстве дома работали 10 плотников, а маляров 2 раза больше.

Проверь краткую запись!

● 1.-9 п.
● 2.-? на 2 п.  }

Б.-12
Р.-? в 4 раза  }

П.- 10
М.-? в 2 раза  }

Проверь решение!

● 1) $9+2=11$ (п.)

● 2) $9+11=20$ (п.)

● $9+(9+2)=20$ (п.)

● Ответ: 20 учебных
помещений.

● 1) $10*2=20$ (м.)

● 2) $10+20=30$ (р.)

● $10+10*2=30$ (р.)


● Ответ: 30 рабочих.

1) $12:4=3$ (р.)

2) $12+3=15$ (д.)

$12+(12:4)=15$ (д.)

Ответ: 15 деревьев.



● А сейчас нас ждёт задача
на странице 69, № 18



Работа в группах.

- Повар 3 дня расходовал по 9 кг крупы.
- После этого у него осталось 13 кг крупы . Сколько килограммов крупы было у повара сначала ?

- 1 ряд -рисунок .
- 2 ряд -чертёж.
- 3 ряд- краткая запись.

