

Урок математики

4класс



Презентация составлена учителем начальных классов г. Домодедово Московской области Пахомовой О. Ю.

Тема урока.

**Закрепление пройденного
материала.**


Посчитай вместе с бабочкой



480

300

60



Реши и запиши задачи без условия

- ★ Какова скорость велосипедиста, если за 3 часа он проехал 42 км с одной и той же скоростью?



$$42 : 3 = 14 \text{ (км/ч)}$$

$$V = S : t$$

- ★ Лыжник двигался 2ч со скоростью 15км/ч и 3ч со скоростью 14км/ч. Какое расстояние он преодолел за это время?



$$15 \times 2 + 14 \times 3 = 72 \text{ (км)}$$


$$S = V \times t$$

- ★ Скорость вороны 40км/ч. За какое время она пролетит 160км?



$$160 : 40 = 4 \text{ (ч)}$$

$$t = S : V$$



Реши примеры

$$2400 \cdot 30 = 72000$$

$$450 \cdot 600 = 270000$$

$$80 \cdot 926 = 74080$$

$$200 \cdot 75 = 15000$$




Работа с учебником

№5 стр.15

Были - ? уч.

Получили – 3420 уч., это $\frac{1}{10}$ от



1) $3420 : \frac{1}{10} = 34200$ (уч.) – были в библиотеке.

2) $34200 + 3420 = 37620$ (уч.) – стало.

$$3420 \cdot 10 + 3420 = 37620$$

Ответ: 37620 учебников стало в библиотеке



№19 стр.17

Проверка.

1) Сумма чисел, записанных в остроугольных треугольниках равна

799

2) Разности чисел, записанных в прямоугольных треугольниках

275, 528, 186, 253, 89, 342

Умножь каждое из полученных результатов на число, записанное в тупоугольном треугольнике

27500, 52800, 18600, 25300, 8900, 34200



Домашнее задание.

№8 стр.15,

№14 стр.16.

Спасибо за хорошую работу!



Источники.

В работе использовались картинки с сайта
<http://www.lenagold.ru/>

- <http://smiles.rc-mir.com/> - анимашки книги, лыжника

<http://vechnostb.narod.ru/Animashki.html> - анимашка котенка, фон

Электронная физминутка для глаз
«Автомобили» учителя начальных классов
МОУ «Водоватовская СОШ»,
Арзамасского района, Нижегородской
области Галкиной И.А.