

$3,6 \cdot 3$




$0,25 \cdot 4$




$0,05 \cdot 4$




$0,004 \cdot 6$



$2,6 \cdot 5$



$0,125 \cdot 8$



$0,02 \cdot 15$



К
10,8

Г
0.2

Я
0,3

И
1


Н
10,3

Е
0,024

Л
13

Самые крупные из оленей – лоси достигают массы 500кг. Масса самого маленького из оленей – кабарги составляет 0,016 массы лося. Какова масса кабарги?





Киты-касатки достигают в длину 7м, длина кита – кашалота в 2,85 раза больше. Найдите длину синего кита, которая больше длины кита-касалота в 1,65 раза (округлите предварительно длину кита кашалота до единиц).

1) $0,7 \cdot 2 = 0,14$

6) $12,5 \cdot 8 = 100$

2) $0,15 \cdot 3 = 0,45$

7) $32,1 \cdot 3 = 96,3$

3) $1,5 \cdot 4 = 6$

8) $100 \cdot 3,8 = 38$

4) $6,12 \cdot 10 = 61,2$

9) $10 \cdot 0,06 = 0,6$

5) $2,5 \cdot 4 = 100$

10) $0,0007 \cdot 1000 = 7$

