



# Математика во 2 классе

*"Сложение и вычитание  
в пределах 100"*

Обобщающий урок


Российская Федерация

Министерство образования Московской области муниципальное специальное  
(коррекционное) образовательное учреждение  
для обучающихся воспитанников с ограниченными возможностями здоровья  
специальная (коррекционная) школа-интернат VII вида  
Павлово-Посадского района Московской области


Составила учитель начальных классов Суманева В.В.



**Долгожданый дан звонок-  
Начинается урок.  
Игры, шутки, всё для вас!  
За работу, в добрый час!**



Записать числа в порядке  
возрастания 20, 17, 39, 61, 58, 49.



1	20	39	49	58	61
7					
Д	Р	У	Ж	Б	А



$8+8=$

# Игра "Домино"



1 2	$8+8=$
--------	--------

1 6	$7+4=$
--------	--------

1 1	$7+9=$
--------	--------

1 6	$8+4=$
--------	--------

1 2	$5+8=$
--------	--------

1 3	$9+9=$
--------	--------

1 8	$3+8=$
--------	--------

1 1	$9+8=$
--------	--------

1 7	$7+7=$
--------	--------

1 4	$8+7=$
--------	--------

1 5	$7+9=$
--------	--------

1 6	$5+7=$
--------	--------

12



# Математическая туманность



$87-20 =$

67

$42+7 =$

49

$44-40=$

4

$43+30$

=

73

$79-8=$

71

$50+2$

52

$97+3=$

10

0



40

-  
20

+30

-  
40

+2  
0

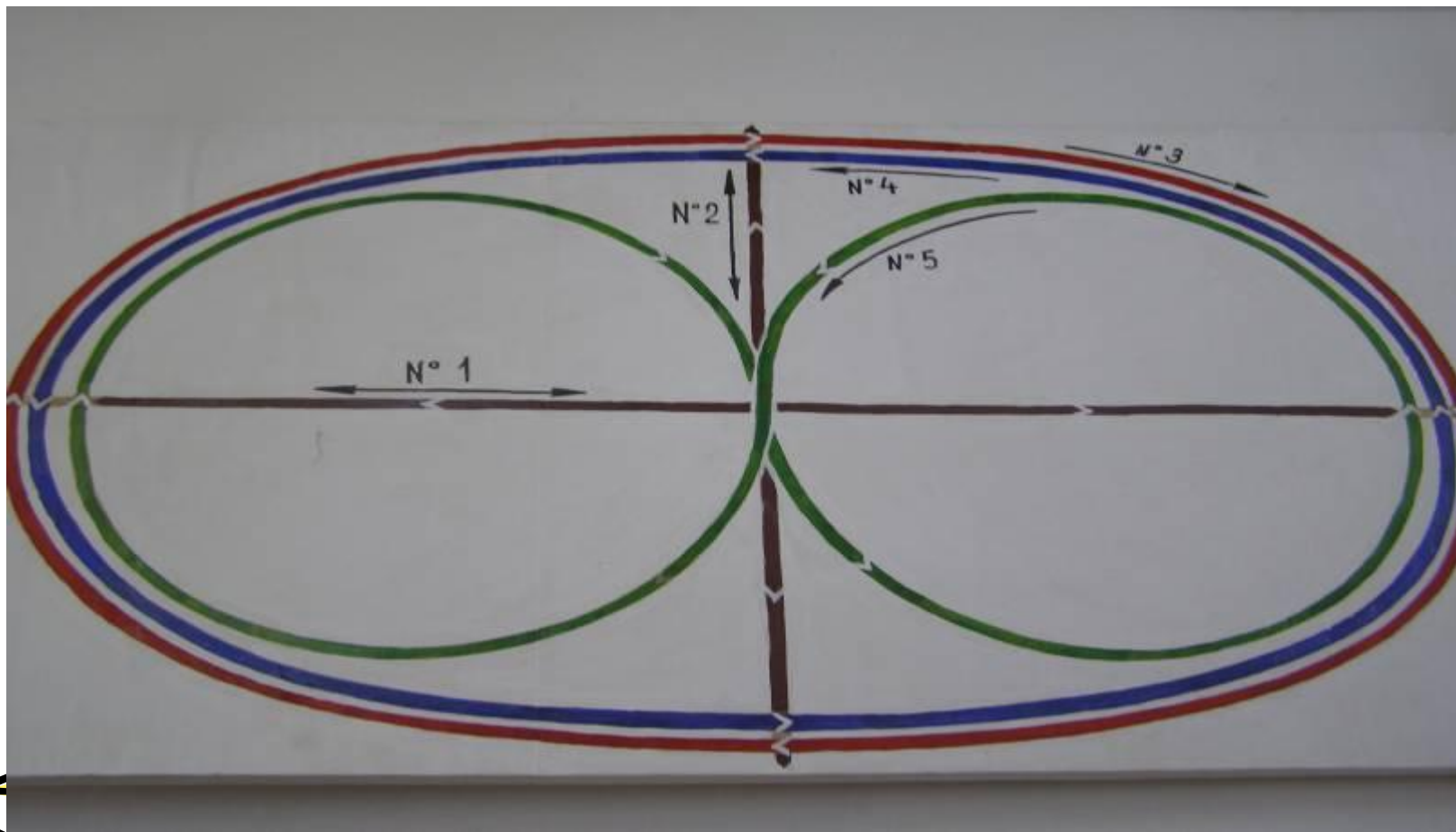
+5  
0

=8  
0

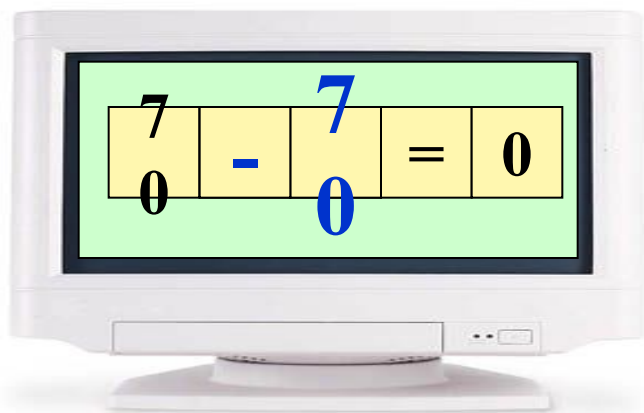
Орёл-100б. Альбатрос-80б. Аист-90б.



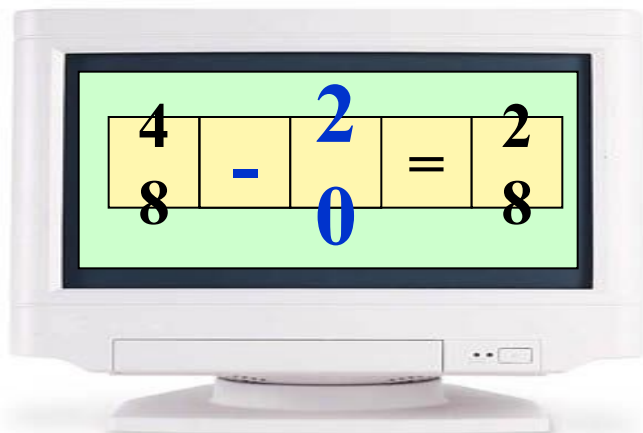
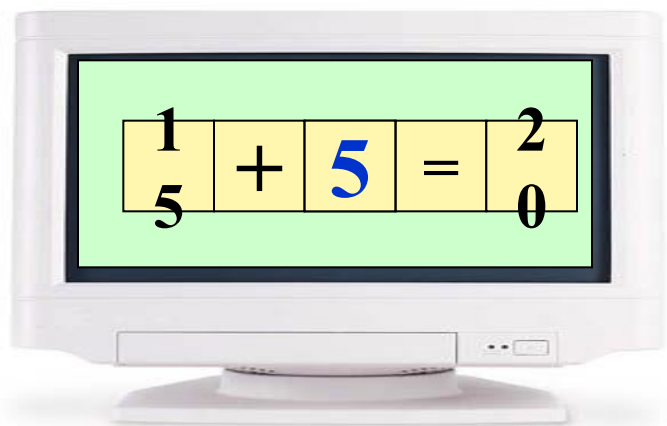

# Физминутка для глаз



Сmp




uuu





# Математический лабиринт



49-28 2  
1

54+37 9  
1

78-26 5  
2



34+25 5  
9

48-23 2  
5

81+15 9  
6



# Волшебное солнышко





# Первый лучик «ЗАДАЧА»



IM-20-25

7  
10  
15  
13




Было пятнадцать цветков,  
сорвали — десять.  
Сколько цветков осталось?

5

1  
0

IM-20-6

11  
5  
17  
15  
10



Всего шестнадцать шариков.  
Синих — шесть.  
Остальные — жёлтые.  
Сколько жёлтых шариков?

1  
6

IM-20-5

12  
4  
10  
16  
18



На одной полке — шесть книг,  
на другой — десять.  
Сколько всего книг?

1  
1

IM-20-11

20  
11  
6  
1  
15



Купили шесть груш и пять помидоров.  
Сколько человек могут получить по одному овощу или фрукту?

IM-20-20

8  
10  
16  
11  
15



Было восемнадцать яблок.  
Восемь — съели.  
Сколько яблок осталось?

1  
0

IM-20-2

18  
2  
15  
7  
16




На одной полке — восемь кувшинов,  
на другой — десять.  
Сколько кувшинов на двух полках?

1  
8

IM-20-19

1  
10  
5  
19  
12



На одной полке — десять мячей,  
на другой — девять.  
Сколько всего мячей?

1  
9



# Второй лучик «ПОСЧИТАЙКА»



$$5+5+5+5+5+5=30$$

$$5 \times 6 = 30$$

Что такое умножение?

Этот умное сложение.

Ведь умней умножить раз,

Чем слагать весь целый час.





## *Третий лучик «СМЕКАЛКА»*



3 ТОН

*тритон*

100 ЛБ

*столб*

ЯЯЯЯЯЯ


*семья*

40 А

*сорока*




# ВОЛШЕБНОЕ ДЕРЕВО



*Понравился урок*



*Не понравился  
урок*



# Литература:

1. «Раз, два, три—отвечай»  
( математические развлечения для младших школьников )- Перкова О.И.. Москва : 1994г.  
Издательство Учебно-научного  
производственного центра «Энергомаш»
- 2.Т.Г.Жигалкина «Система игр на уроках  
математики в 1 и 2 классах». М.,: Новая школа,  
1997г.
- 3.Т.И.Линго «Игры. Ребусы, загадки для мл.  
школьников.»--Ярославль: Академия
- 4.Интернетресурсы

