



Страна

вычисления

8,3,5

Расположите цифры

8,3,5

всеми возможными способами.

835

358

538

853

385

583

ПОДУМАЙ!

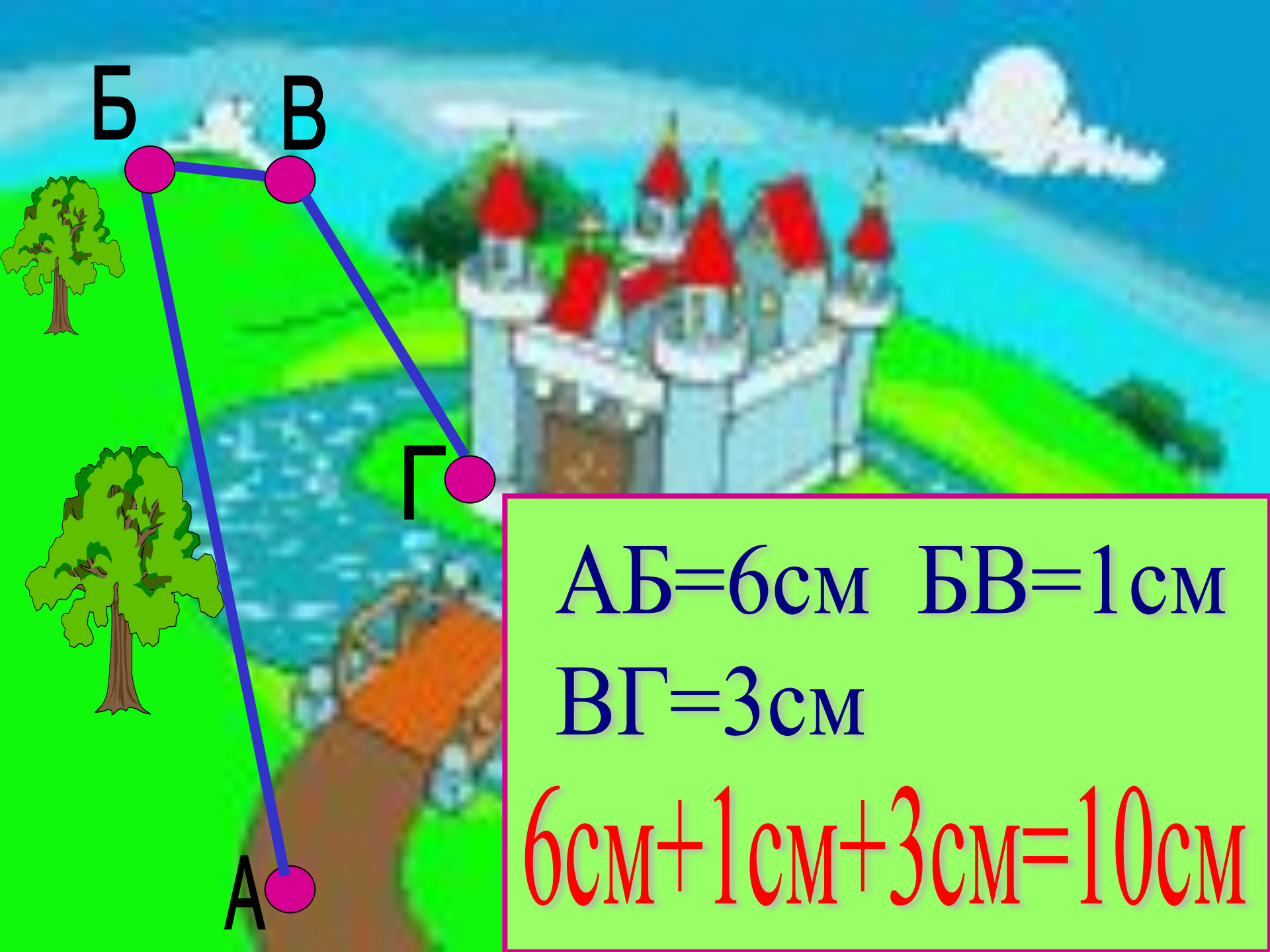
О	$10-8$
Д	$8-4$
З	$6-3$
Й	$5+4$
Ш	$3+3$
В	$9-8$

У	$9-4$
Р	$10+1$
А	$5+5$
Н	$9-2$
Ы	$8+0$



1	2	3	4	5	6	7	8	9
В	О	З	Д	У	Ш	Н	Ы	Й

6	10	11
Ш	А	Р



Б

В

Г

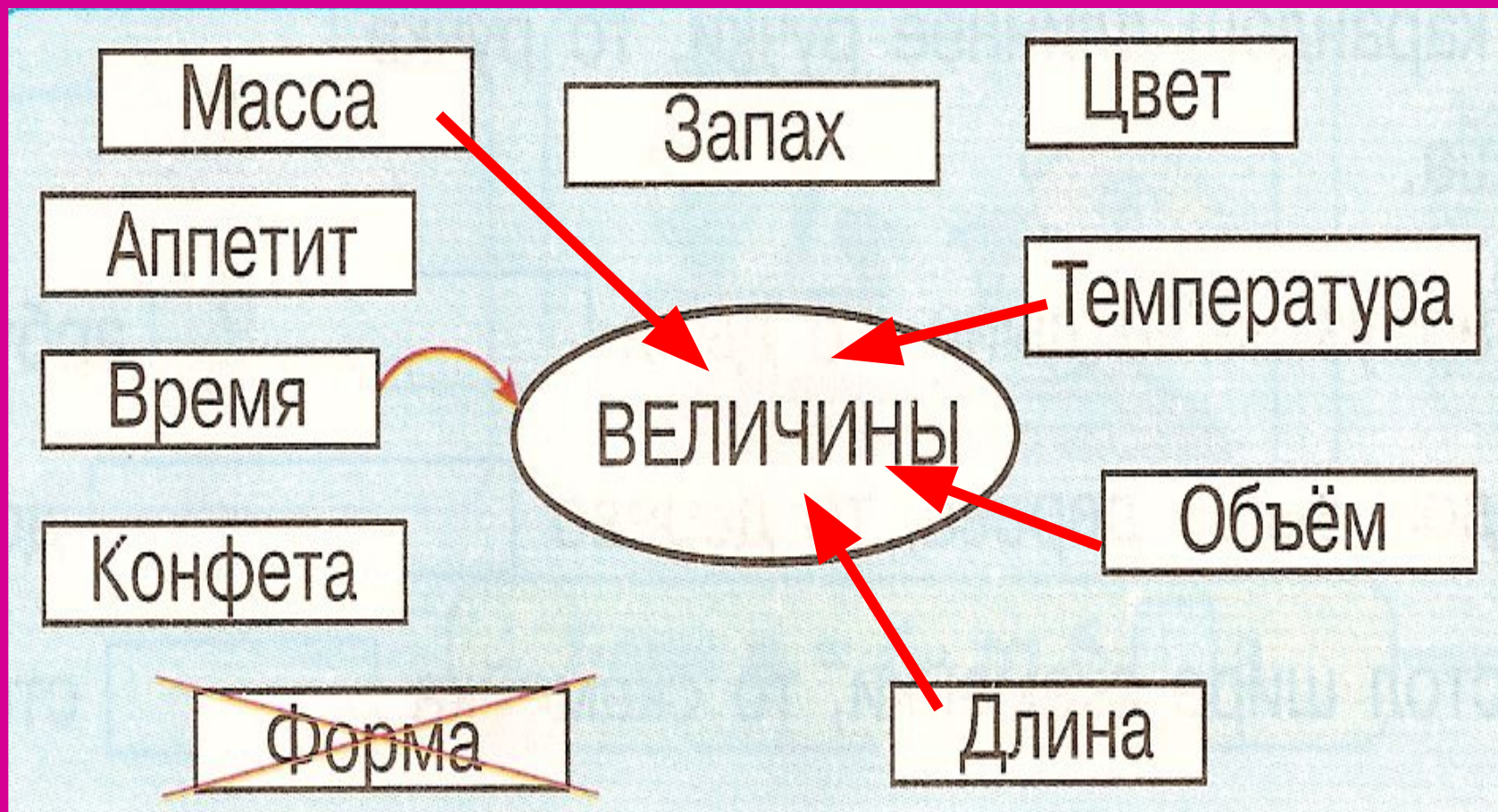
А

$$AB=6\text{см} \quad BV=1\text{см}$$


$$VG=3\text{см}$$

$$6\text{см}+1\text{см}+3\text{см}=10\text{см}$$

НАЙДИ ВЕЛИЧИНЫ:



ПОДУМАЙ!



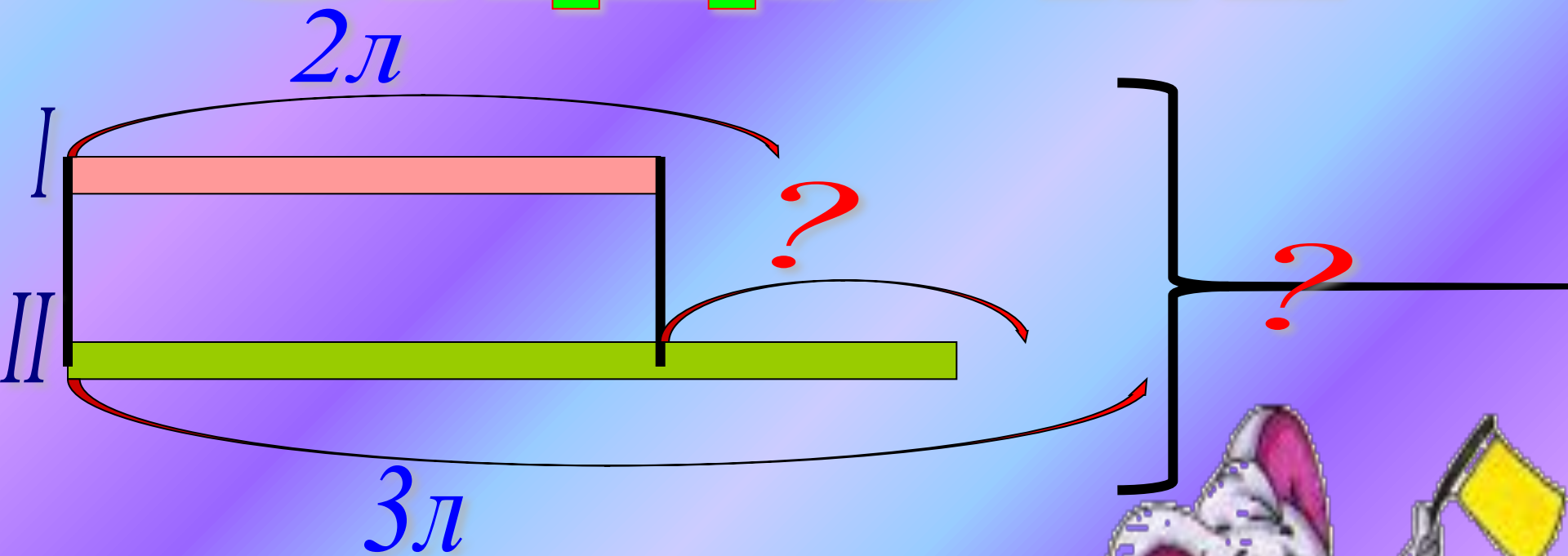
$$a = 1 \text{ кг} + 2 \text{ кг} = 3 \text{ кг}$$

$$б = 5 \text{ кг} - 1 \text{ кг} = 4 \text{ кг}$$

$$б - a = 4 \text{ кг} - 3 \text{ кг} = 1 \text{ кг}$$



ЗАДАЧА.




1) $2+3=5$ (л)

2) $3-2=1$ (л)

Ответ: 5л; на 1л.







ВНИМАНИЕ!



ПЕРИМЕТР - ЭТО
сумма длин
всех сторон!

ДОЛИНА ЦВЕТОВ!

<p>1 2 3 4 5 6 7</p> 			<p>1 2 3 4 5 6 7 8</p> 						
<table border="1"><tr><td data-bbox="224 729 455 815">$1 + 7$</td><td data-bbox="566 729 797 815">$2 + 6$</td></tr><tr><td data-bbox="224 843 455 929">$3 + 5$</td><td data-bbox="566 843 797 929">$4 + 4$</td></tr></table>	$1 + 7$	$2 + 6$	$3 + 5$	$4 + 4$	<table border="1"><tr><td data-bbox="1116 729 1348 815">$1 + 8$</td><td data-bbox="1458 729 1690 815">$2 + 7$</td></tr><tr><td data-bbox="1116 843 1348 929">$3 + 6$</td><td data-bbox="1458 843 1690 929">$4 + 5$</td></tr></table>	$1 + 8$	$2 + 7$	$3 + 6$	$4 + 5$
$1 + 7$	$2 + 6$								
$3 + 5$	$4 + 4$								
$1 + 8$	$2 + 7$								
$3 + 6$	$4 + 5$								



длина

масса

объём

время?

температура?

