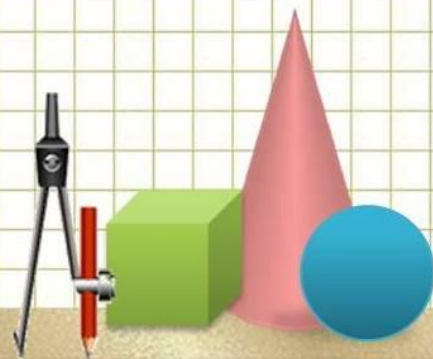
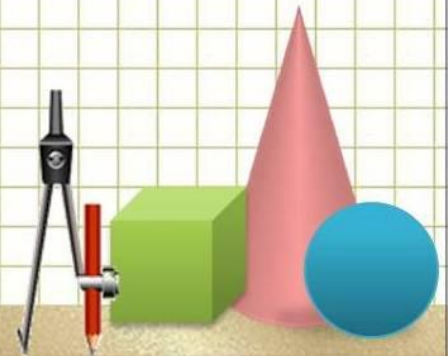


# Таблица сложения





- Напиши число, которое меньше 4, но больше 2.
- Напиши число, которое больше 4, но меньше 2.
- Назовите числа от 1 до 10.
- Напишите число, следующее в ряду за числом 9.
- Напишите число, идущее при счёте перед числом 7.

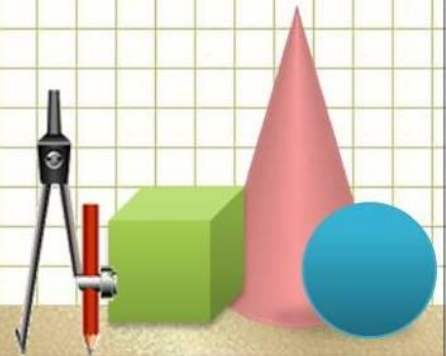




Отгадай, какие числа пропущены.

$$4 + \Pi = 7$$

$$\square + \square = 9$$





Пропущены числа

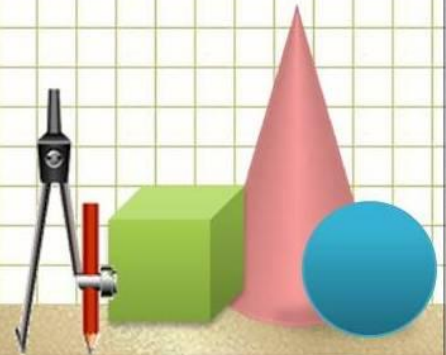
$$4+3 = 7$$

$$5+4 = 9$$

$$6+3 = 9$$

$$7+2 = 9$$

$$8+1 = 9$$





- Увеличь каждое число

3, 4, 7, 6 на 3

- Назови самое большое из них.
- Уменьши каждое на 2.
- Назовите самое маленькое из них.




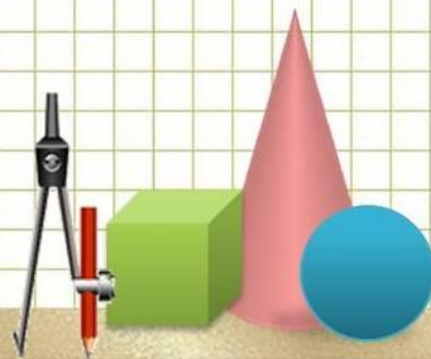
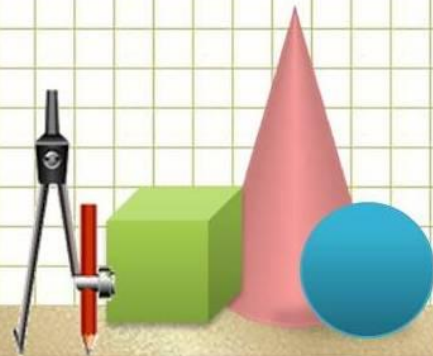


Таблица сложения  
№1, с 20 учебник



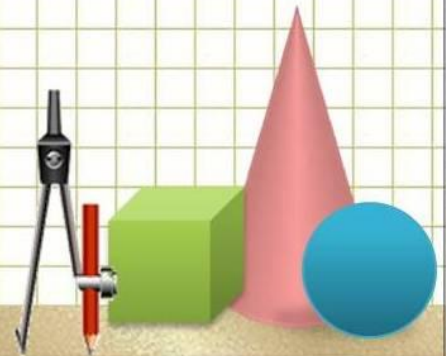


Реши примеры  
На сложение и  
вычитание  
Учебник с.20, №3





Найди  
спрятанные  
цифры  
С21, №5

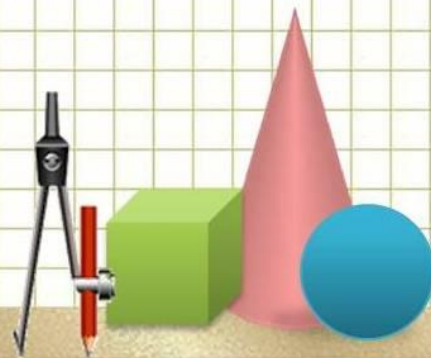




# Состав числа 9



Выполните  
задание №6 с.21





Спасибо за помощь.

