

ПАНДА



1 ИСПЫТАНИЕ



2 ИСПЫТАНИЕ

$5 + \square = 8$

3

$10 - 2 = \square$

8

$\square + 3 = 7$

4

$1 + 7 \square 9$

<

$6 - 4 \square 2$

=

$8 + 2 \square 7$

>

3 испытание

Составь условие к рисунку



? яблок

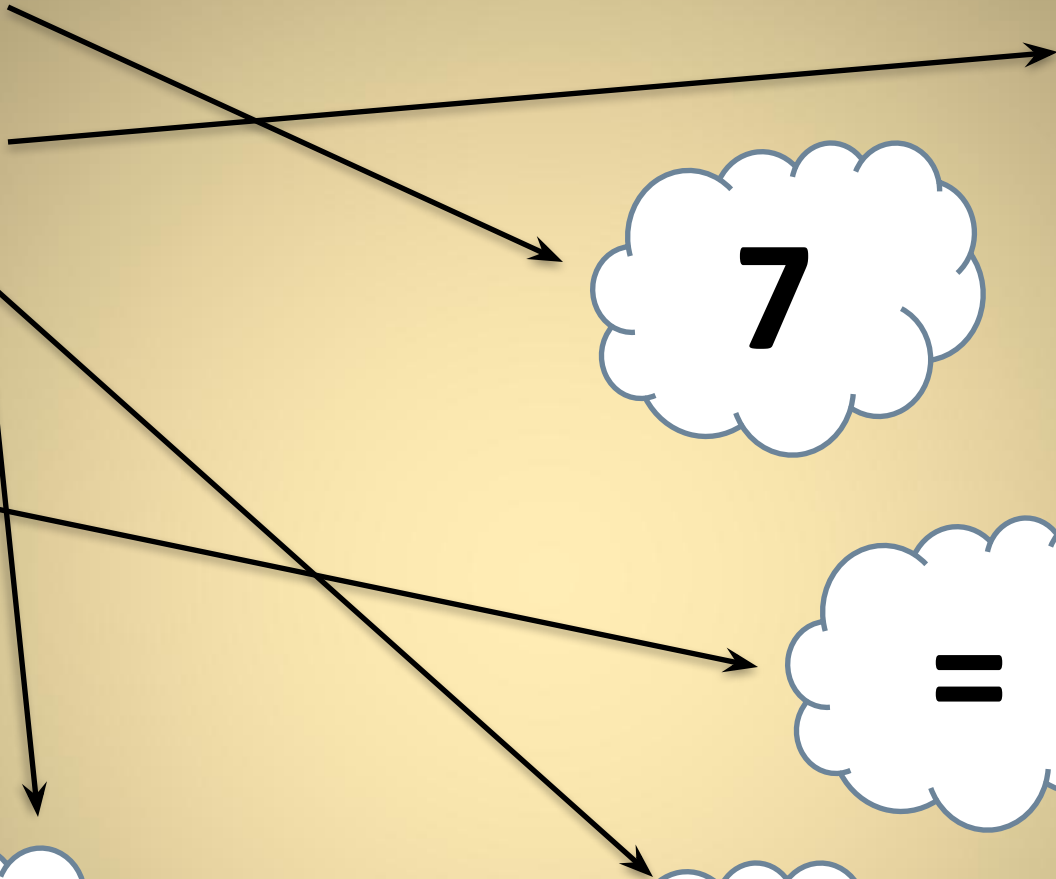



$2+5=\square$

$6+4\square 8$

$9-6=\square$

$5-1\square 9$

$7+0\square 7$



Задача.

Панда очень любит бамбук. За завтрак панда сегодня съела 8 бамбуковых палочек, а на обед на 2 бамбуковых палочки больше. Сколько бамбуковых палочек съела панда на обед?

З. – 8 п.

О. - ? на 2 п. >

Решение:

$$8+2=10(\text{п.})$$

Ответ: на обед панда съела 10 бамбуковых палочек.

Нужно изобразить в тетради дверь,
за которой прячется детеныш

панды
4 см.

7 см.



