





# ДЕВИЗ УРОКА.

При неудаче не робей,  
Не плачь, не ной, а будь  
смелей!

И с каждой маленькой  
удачей

Нас ждёт большой успех!





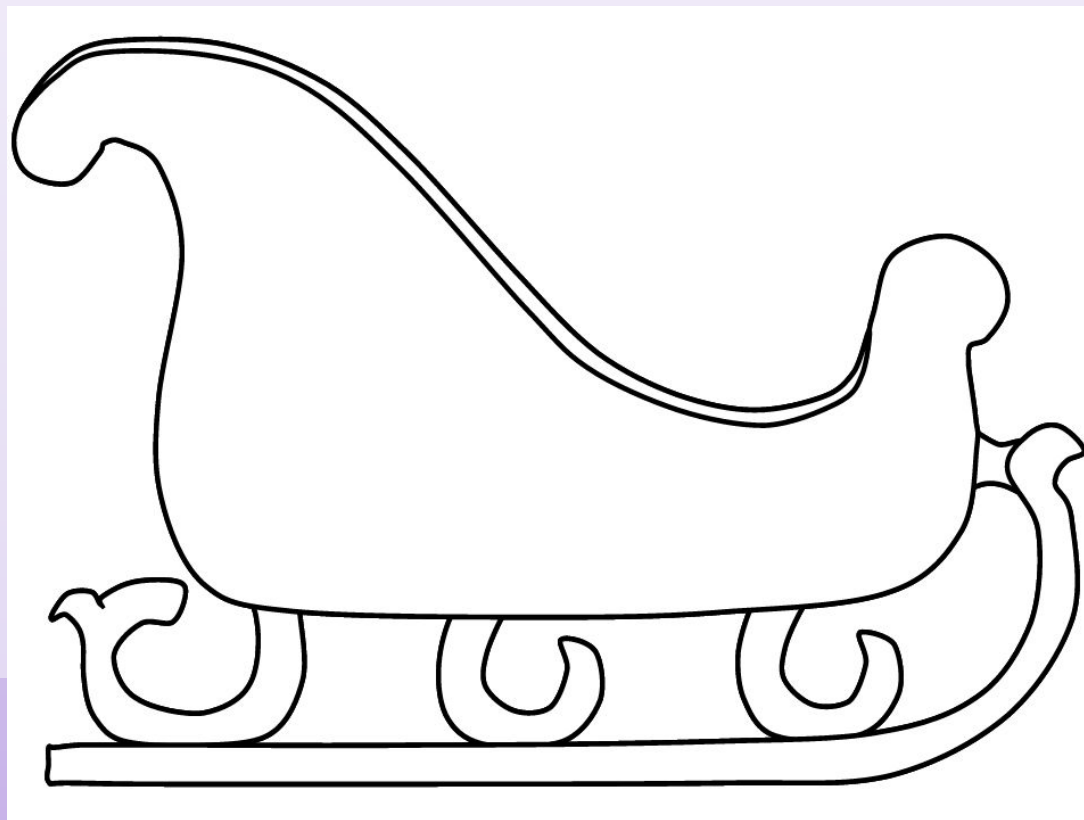

7.82.net







# Заголовок слайда



**1 команда.**

8\*0

64:8

8\*6

32:4

**2 команда.**

4\*8

56:8

8\*9

24:8

**4 команда**

16:8

64:8

8\*7

8\*3

**3 команда**

8\*5

56:7

8\*8

32:8



Заголовок слайда

**Повторение:**  
**умножения числа 8, деление**  
**на 8.**



# ГЕБДРНВМОНГОЛИЯНЕК АВ





# Заголовок слайда


ГЕБДРНВ МОНГОЛИЯ НЕКАВ



# МОНГОЛИЯ



Цагаан Овгон





# Эталон

$$1) (35-34) * (8-8) = \boxed{0}$$

$$2) 24 : 6 * 8 = \boxed{32}$$

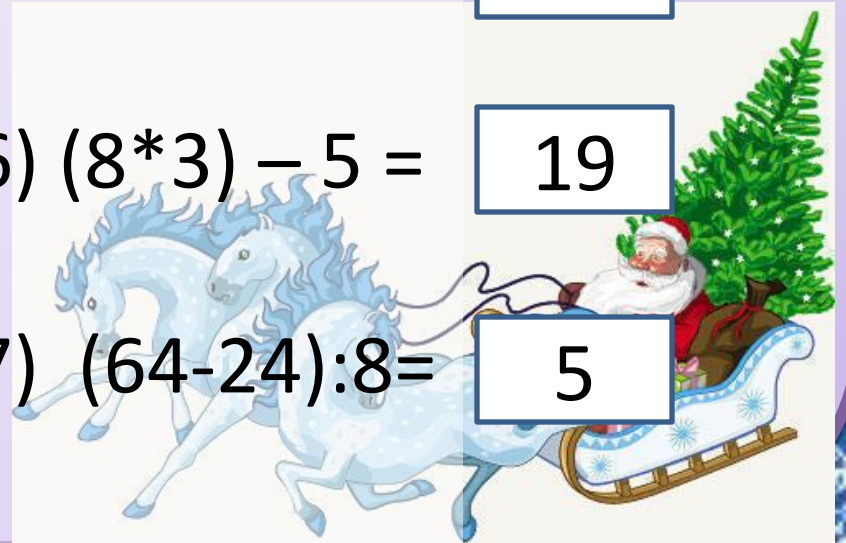
$$3) (24+24) : 8 = \boxed{6}$$

$$4) 8 * (27-18) = \boxed{72}$$

$$5) 32 : 8 * 5 = \boxed{20}$$

$$6) (8 * 3) - 5 = \boxed{19}$$

$$7) (64-24) : 8 = \boxed{5}$$



# Франция





**физминут**


**ка**



3



y





б



е



С



К

И





T

a





H





# Узбекистан



**Корбобо**  
Узбекский товарищ Деда Мороза.

1. Дед Мороз гулял по крышам. По дороге ему попало 8 кирпичных печных труб, а каменных на 15 больше. Сколько всего каменных труб попало на пути Дед Морозу?

2. Дед Мороз гулял по крышам. По дороге ему попало 42 кирпичных печных труб, а каменных на 28 меньше. Сколько всего печных труб попало на пути Дед Морозу?

3. Дед Мороз гулял по крышам. По дороге ему попало 48 кирпичных печных труб, а каменных в 6 меньше. Сколько всего печных труб попало на пути Дед Морозу?

4. Дед Мороз гулял по крышам. По дороге ему попало 32 кирпичных печных труб, а каменных на 24 меньше, чем кирпичных. Во сколько раз кирпичных труб больше, чем каменных встретилось на пути Дед Морозу?





1. Дед Мороз гулял по крышам. По дороге ему попало 8 кирпичных печных труб, а каменных на 15 больше. Сколько всего каменных труб попало на пути Деду Морозу?

Эталон.

$8+15=23$  (кам.т.)

Ответ: 23 каменных труб.



2. Дед Мороз гулял по крышам. По дороге ему попало 42 кирпичных печных труб, а каменных на 28 меньше. Сколько всего печных труб попало на пути Дед Морозу?

Эталон.

1)  $42 - 28 = 14$  (кам.т.) – всего каменных труб

2)  $42 + 14 = 56$  (тр.)

Ответ: всего 56 труб.





3. Дед Мороз гулял по крышам. По дороге ему попало 48 кирпичных печных труб, а каменных в 6 меньше. Сколько всего печных труб попало на пути Дед Морозу?

Эталон.

1)  $48:6=8$ (кам.т.) – всего каменных труб

2)  $48+8=56$ (тр.)

Ответ: всего 56 труб.



4. Дед Мороз гулял по крышам. По дороге ему попало 32 кирпичных печных труб, а каменных на 24 меньше, чем кирпичных. Во сколько раз кирпичных труб больше, чем каменных встретилось на пути Дед Морозу?

### ЭТАЛОН.

1)  $32 - 24 = 8$ (кам.т.) – всего каменных труб

2)  $32 : 8 = 4$ (р.)

Ответ: в 4 раза кирпичных печных труб больше, чем каменных.



# Итали







# Бефан а





















