


1 99

= 23



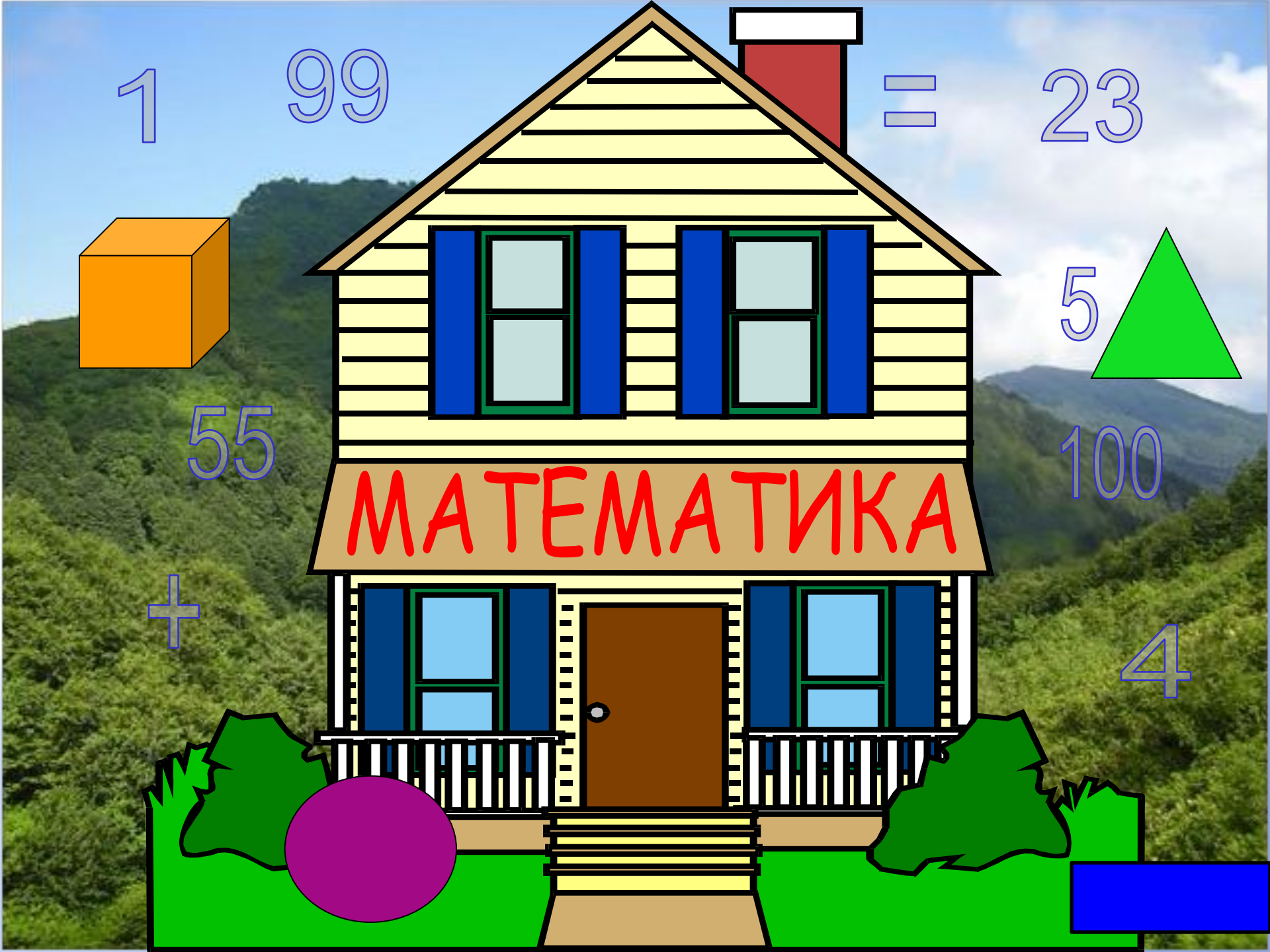


55

100

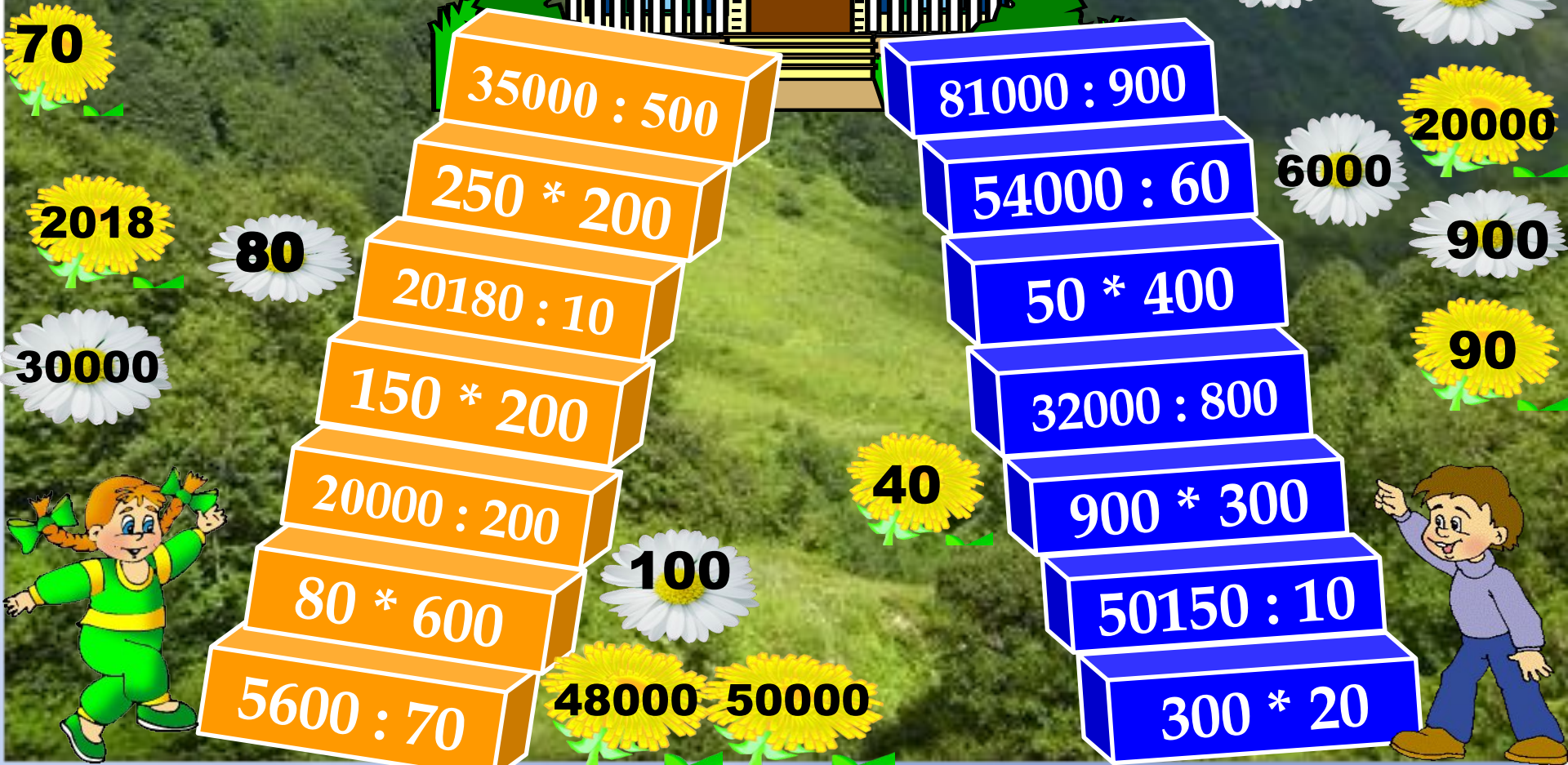
МАТЕМАТИКА

+

4



МАТЕМАТИКА



70

2018

30000

80



- $35000 : 500$
- $250 * 200$
- $20180 : 10$
- $150 * 200$
- $20000 : 200$
- $80 * 600$
- $5600 : 70$

100

48000 50000

40

- $81000 : 900$
- $54000 : 60$
- $50 * 400$
- $32000 : 800$
- $900 * 300$
- $50150 : 10$
- $300 * 20$

5015

270000

6000

20000

900

90



Запишите номер примера, в котором допущена

- ошибка:**
- 1. $96000 : 100 = 960$**
 - 2. $1250 : 10 = 125$**
 - 3. $95000 : 1000 = 950$**

Вычислите, запишите ответ:

$$350005 - 500 * 700$$

Запишите номер верного утверждения:

Чтобы найти делитель, нужно:

- 1. Делимое умножить на частное.**
- 2. Делимое разделить на частное.**

Реши задачу, запиши ответ:

Ученик решает **10** примеров за **40** минут. Сколько минут в среднем идёт на решение одного примера?

3, 5, 2,

ВСЕХ , - ЦАРИЦА, МАТЕМАТИКА, НАУК.

2

5

3

4



*Чтоб врачом,
моряком
Или лётчиком
стать,
Надо твёрдо на «5»
Математику знать!*

Частное чисел 350 и 7 увеличь на 20. 70

Из 800 вычти произведение чисел 30 и 9. 530

К 50 прибавь частное чисел 360 и 60. 56

Чему равно $\frac{3}{5}$ тонны? 600

Сколько дм в 240 кг

24

см?

Найди периметр квадрата со стороной 9 дм 36 см

Чему равна ширина сада, если его $S=54$ кв.м, а

его 6 м

длина 9 м?

Площадь прямоугольника равна 36 кв.см. Его длина 4 см. Определите периметр прямоугольника.

- 1) $36:4=9$ (см) – ширина прямоугольника.
- 2) $(9+4)*2 = 26$ (см) – периметр прямоугольника.



$$500 * 6 : 100$$

Е

$$4000 * 3 : 100$$

Н

$$320 : 40 * 1000$$

Е

$$950 - 720 + 42$$

Д

$$140 : 70 * 2000$$

И

$$50 * 40 : 1000$$

Е

$$(270 - 50) * 10$$

Л

272

30

2200

8000

120

4000

2

Вспомнить

Закрепить

Повторить

Узнать

Обобщить

Познакомиться

Усвоить