



Математик


2 класс
а

*Устные приемы вычислений
в пределах 20. Повторение.*

ВЫПОЛНИЛА: учитель начальных классов
МОУ «СОШ №1» г.Новошахтинска
Самарская Елена Александровна

ПУТНИЦА

Мяу -
мяу!!!



Кря,
кря,
кря!!!



Ква,
ква,
ква!!!

Му-у-у!



Ку-ка-ре-ку!

Хрю,
хрю,
хрю!!!



Зайчишкины ушки



**Ушки длинные у зайки,
Из кустов они торчат.
Он и прыгает и скачет,
Веселит своих зайчат.**



Пальчики в кулачок. Выставить вверх указательный пальцы.
Ими шевелить в стороны

Найди цифры



ПОСЧИТАЙ

Хрю,
хрю,
хрю!!!



$$12+5= 17$$

$$19-10= 9$$

$$8+7= 15$$

$$14-6= 8$$

$$9+3= 12$$

$$15-8= 7$$

$$9+9= 18$$

Хрю,
хрю,
хрю!!!



Мяу -мяу!



+ ИЛИ **-**

Ква,
ква,
ква!!!



-

$$14 - 6 = 8$$

$$7 + 9 = 16$$

$$5 + 8 = 13$$

$$19 - 9 = 10$$

$$7 + 7 = 14$$

$$8 + 4 = 12$$

Ква,
ква,
ква!!!



+

Кря, кря,
кря!!!



Сравни выражения

$$9+4 = 7+6$$

$$15-6 < 8+7$$


$$6+5 > 11-9$$

Мяу-
мяу!




Мяу-
мяу!





Хрю, хрю,
хрю!!!




Физминутка

Кря, кря,
кря!!!




Шёл цыплёнок по дорожке,
Прыгал он на правой ножке
А ещё кружился смело,
Лапками махал умело.
Он спешил к себе домой
К милой мамочке родной





Ко-ко-
ко!!!!



Реши задачу

Ку-ка-ре-ку!

С одного куста
МИШКА сорвал 7 ягод
малины, а с другого на 3
ягоды больше. Сколько
ягод малины сорвал
МИШКА с двух кустов?




Pe-pa-py!



www.shutterstock.com · 81143059

Найди геометрические фигуры





Чик-
чирик!



Выполни действия



20



9

$$15-9+4+7-8-3+5+9$$



1





Хрю,
хрю,
хрю!!!


Ре-ра-
ру!!!!

Ко-
ко-ко!

Кря,
кря,
кря!!!

Чик-
чирик!

Мур,
мур,
мур!!!





**Какое
настроение?**

