

Урок математики во 2 классе

Приемы вычислений вида:

$27+2$ и $27+20$;

$36-2$ и $36-20$

Синицына А.В.

Учитель МОУ

«Миасская СОШ №2»



Сосчитай и прочитай!

Назовите двузначные числа
в порядке возрастания

12

21

2

71

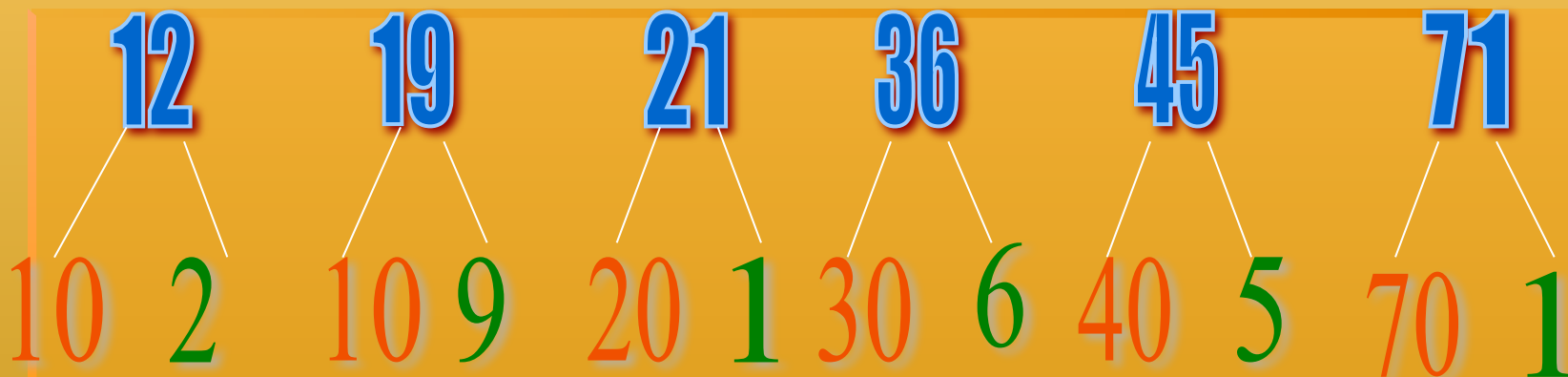
19

8

36

45


Разложите числа на разрядные слагаемые


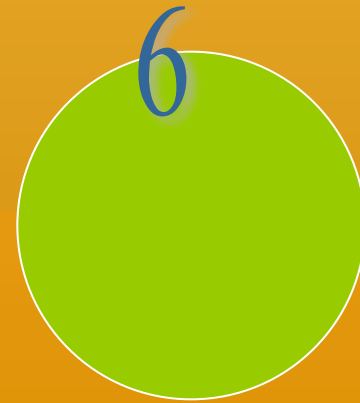






Назовите число, в котором количество десятков на 1 больше, чем единиц? меньше на 1, чем единиц?

Назовите числа, следующие за ними.

Гимнастика для ума


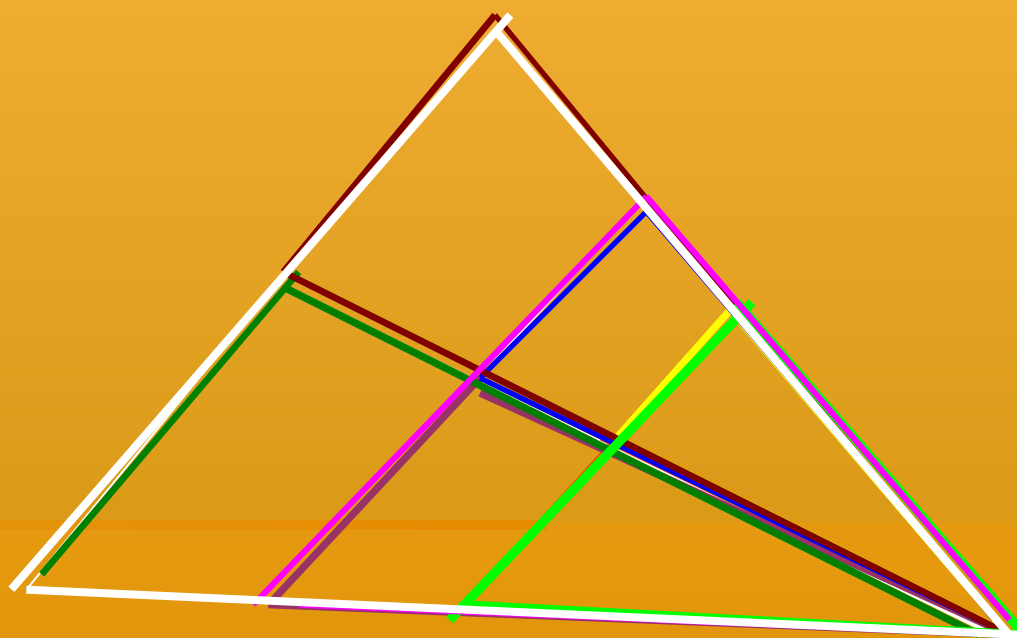




Сколько треугольников?

Сколько треугольников?

Посчитай!



Дедушке – 54 года

Бабушке – 50 лет

На сколько лет дедушка старше?

Из большего вычитаем меньшее

$$54 - 50 = 4(\text{г})$$

Мальчиков – 5

Девочек - ? На 4 больше  ?

Сколько всего ребят?

$$1) 5 + 4 = 9 (\text{д})$$

$$2) 5 + 9 = 14 (\text{р})$$

Единицы складываем с единицами

$$27 + 2$$



Десятки складываем с десятками

$$27 + 20$$



Вычитаем единицы из единиц

$$36 - 2$$


Вычитаем десятки из десятков

$$36 - 20$$


Самостоятельная работа

- 1 вариант с.48 №2 верхн.строчка
- 2 вариант с. 48 №2 нижняя строчка

Урок закончен

МОЛОДЦЫ!