

# УСТНЫЙ СЧЕТ







# НАЙДИТЕ РАЦИОНАЛЬНЫМ СПОСОБОМ СУММУ ОДНОЗНАЧНЫХ ЧИСЕЛ?




$$7 + 1 + 5 + 3 = 16$$



$$7 + 3 + 5 + 1 = 16$$



# САМОСТОЯТЕЛЬ НАЯ РАБОТА



1. Приёмы сложения в пределах 10
2. Приёмы сложения круглых чисел.
3. Прибавление однозначного числа к круглому.
4. Приёмы разложения двузначных чисел на разрядные слагаемые.



$$20 + 10 = 30$$

$$50 + 20 = 70$$

$$70 + 30 = 100$$

$$43 + 2 =$$

$$56 + 3 =$$

$$25 + 4 =$$

$$7 + 3 = 10$$

$$3 + 5 = 8$$

$$7 + 2 = 9$$

$$43 + 20 =$$

$$56 + 30 =$$

$$25 + 40 =$$







# ПРИЁМЫ СЛОЖЕНИЯ ВИДА:

$$36 + 2, 36 + 20$$

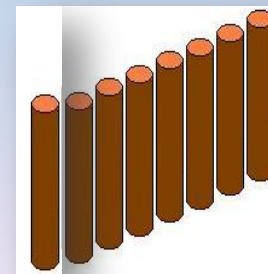
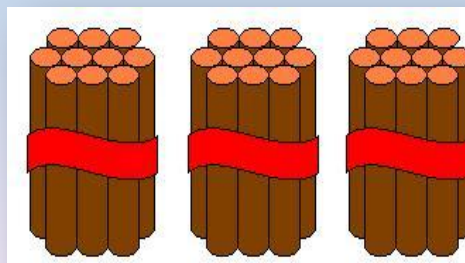



# ГРУППОВАЯ РАБОТА

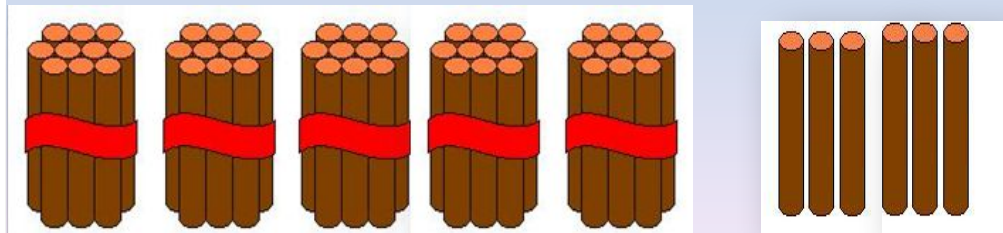
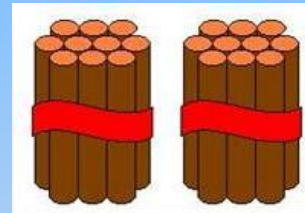



# ГРУППА «ПРАКТИКИ»


$$36 + 2$$



$$36 + 20$$



# ГРУППА «ТЕОРЕТИКИ»



Заменяю  $\longrightarrow$  Получаю  $\longrightarrow$  Удобнее

$$36 + 2 = 30 + 6 + 2 = 30 + 8 = 38$$

↓  
 $30 + 6$

$$36 + 20 = 30 + 6 + 20 = 50 + 6 = 56$$

↓  
 $30 + 6$



# ГРУППА «МЫСЛИТЕЛИ»

$$45 + 30 = 75$$

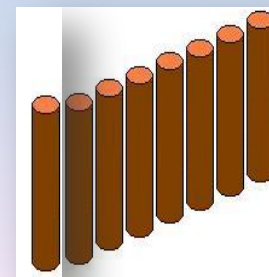


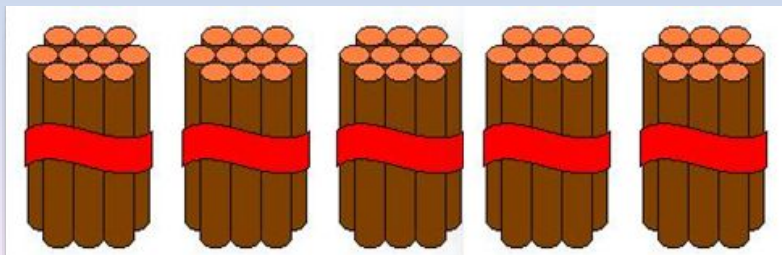

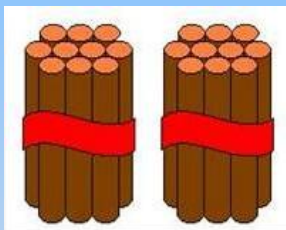
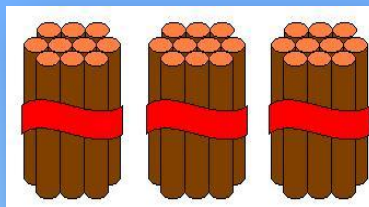
↓  
 $40 + 5$



$$45 + 3 = 48$$

↓  
 $40 + 5$

**Вывод: Единицы складываем с единицами,  
Десятки складываем с десятками.**







$$60+18=???$$

$$60+10+8=78$$



# ПРОВЕРЬ СЕБЯ

## 1 - уровень

Найди значения выражений

$$33 + 4 = 37 \quad 33 + 40 = 73$$

$$62 + 30 = 92 \quad 20 + 45 = 65$$

## 2 - уровень

Вставь в окошечки числа, чтобы получились верные равенства.

$$44 + \underset{3}{\square} = 47 \quad \underset{30}{\square} + 32 = 62$$
$$6 \underset{8}{\square} + \underset{1}{\square} 0 = 78$$



## 3 - уровень



Вставь числа, чтобы равенства были верными

$$45 + 20 = 20 + 45$$

$$37 + 10 = 20 + 27$$

# ИТОГ УРОКА

- **Добились ли вы своей цели, которую поставили в начале урока?**
- **Выберите с каким настроением вы заканчиваете урок?**



# *Домашнее задание*

*На карточках*





**СПАСИБО ЗА  
УРОК!!!**