




УСТНЫЙ СЧЕТ

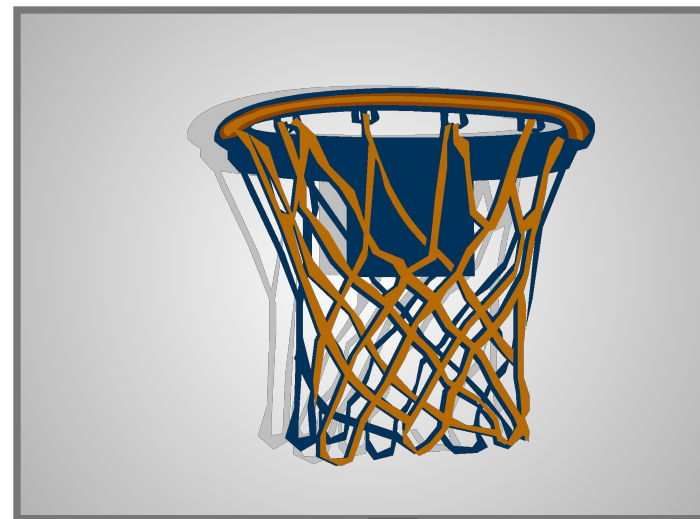


Какие цифры потерял Вова?

1 2 3 4 5 6 7 8 9 10



Игра «Математический баскетбол»



Молодцы!

3 + 7 5 + 5 2 - 1 6 + 4 8 - 7

+ 1 4 - 4 3 + 7 5 - 1 10 - 9

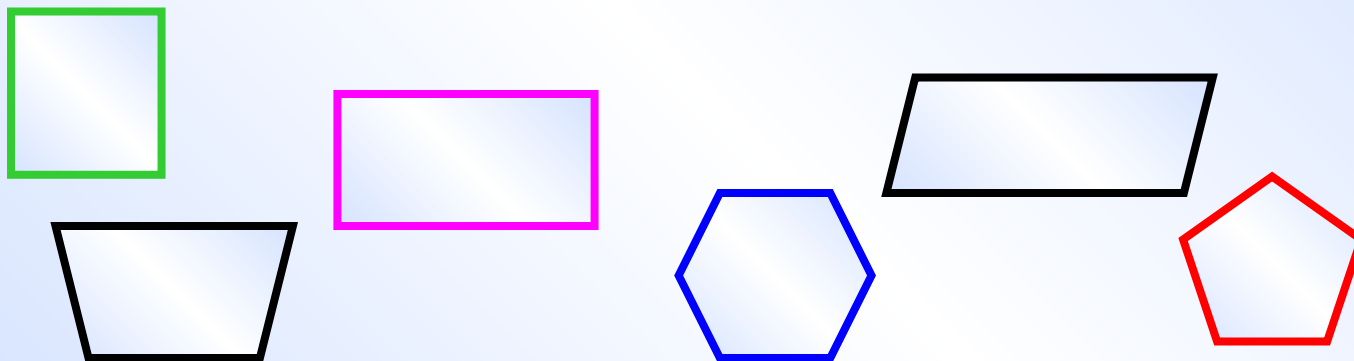
A vertical grey line runs down the right side of the page. There are ten basketball balls scattered around the page: one on the left side, one on the right side, and two on the bottom row. The balls are orange with blue and white panels.

Разделите фигуры на две группы

ЛИНИИ





МНОГОУГОЛЬНИКИ



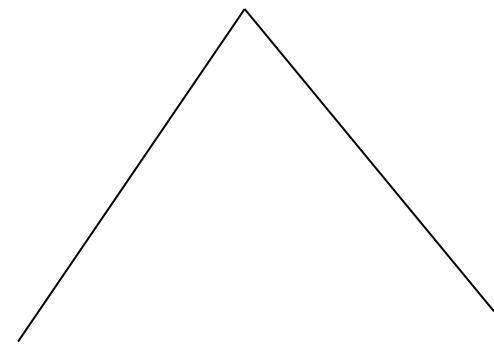
Чем похожи и чем
отличаются эти задачи?

Чем похожи и чем отличаются эти задачи?





ШКОЛА


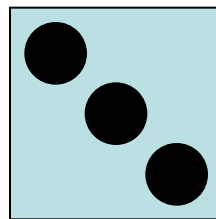
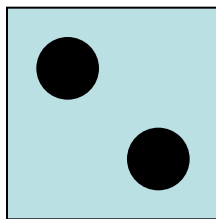



ШКОЛА

Какую карточку с моделью
числа мне надо взять, чтобы
она показала, сколько сейчас
детей идет в школу?



школа



Какую карточку с моделью
числа мне надо взять, чтобы
она показала, сколько сейчас
детей идет в школу?



школа

