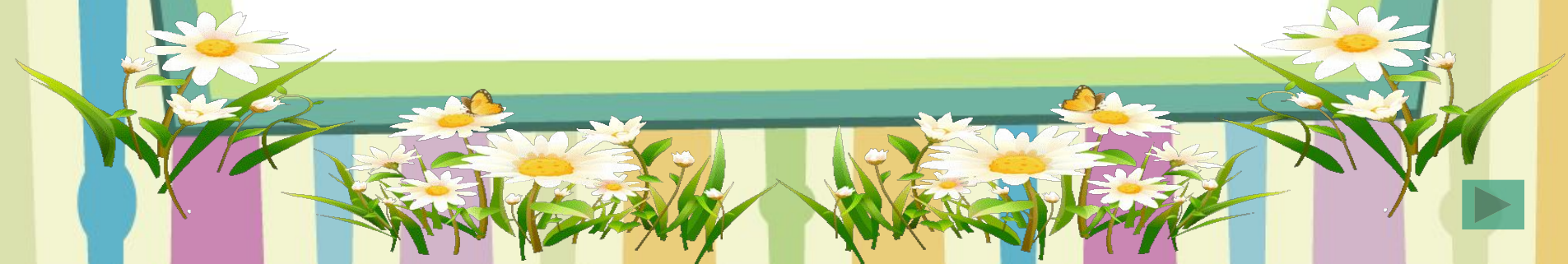





УСТНЫЙ СЧЁТ



Урок 63 УМНОЖЕНИЕ

1 Сколько ягод на каждом рисунке? Запиши выражение к каждому рисунку и найди его значение.

а)



$$80 - (24 - 6)$$

$$48 + (13 + 7)$$

$$4 + 9 - 7$$

$$12 - 7 + 9$$

a

28

36

17

54

$a + 9$



14

9

7

8

5

7



16

9

8

7



| | | | |
|-----------|----|----|----|
| Слагаемое | 38 | | 49 |
| Слагаемое | 5 | 7 | |
| Сумма | | 70 | 60 |

Молодцы!



| | | | |
|-------------|----|----|----|
| Уменьшаемое | 52 | | 60 |
| Вычитаемое | 5 | 8 | |
| Разность | | 38 | 57 |

Молодцы!



12 мм

2 см

76 см

67 см

1 м

59 см

Молодцы!




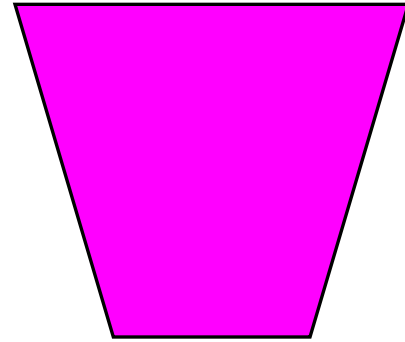

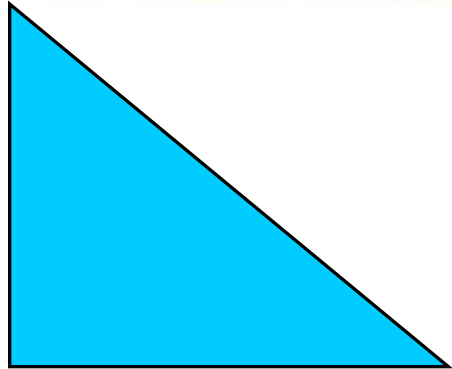
$$50 - 21 < 39$$

$$54 + (13 - 7) = 55$$



Молодцы!







- $x + 40 = 47$

- $36 - x = 16$

Ручка стоит 5 р., карандаш столько же сколько ручка, а пенал стоит на 3 рубля больше, чем ручка и карандаш вместе. Сколько стоит пенал?

$$75 + 20 = 95$$

$$80 + 11 = 91$$

$$45 - 7 = 38$$

$$90 - 3 = 87$$

$$60 - 7 = 53$$

$$83 - 40 = 43$$



Молодцы!



$$7+7+7+7+7+7=$$

$$9+8+8+8=$$

$$7+8+8+6=$$

$$17+13+4+4+4=$$

$$8+8+8+8+8=$$

$$3 \times 6 =$$

$$15 + 15 + 15 =$$

$$100 + 100 + 100 + 100 =$$

$$12 + 12 + 12 - 7 =$$

$$24 + 24 + 24 =$$

$$4 \times 7 =$$

Сколько пальчиков у четырех мальчиков?

Сколько ног у трех слонов?

Сколько хвостов у пяти котов?


$$36+18+2+4$$

$$27+6+14+3$$

$$17+20+40+3$$

$$29+50+1+20$$


$$2 \times 8 = 16$$


$$3 \times 9 =$$

$$2 \times 5 =$$

$$3 \times 4 =$$

| | | | | | | |
|--------------|---|---|---|---|---|---|
| Множитель | 2 | 2 | 3 | 3 | 4 | 4 |
| Множитель | 6 | 7 | 2 | 3 | 2 | 3 |
| Произведение | | | | | | |

Замените, если возможно, сложение
умножением:

$$8 + 8 + 8 + 8 =$$


$$3 + 3 + 3 + 4 =$$

$$2 + 7 + 2 + 7 =$$

$$12 + 12 + 12 =$$

$$6 + 6 + 6 =$$

$$1 + 2 + 3 + 4 =$$



У моей бабушки и мамы День рождения. Я решил подарить по букету цветов. У меня есть 10 цветов. Как же мне их расставить в две вазы поровну?