


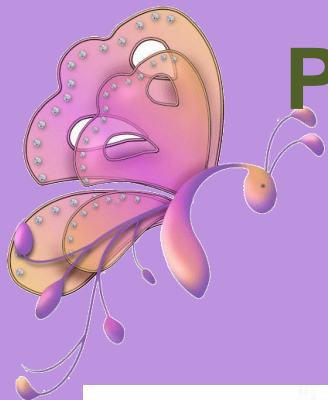
# Математика

## 2класс


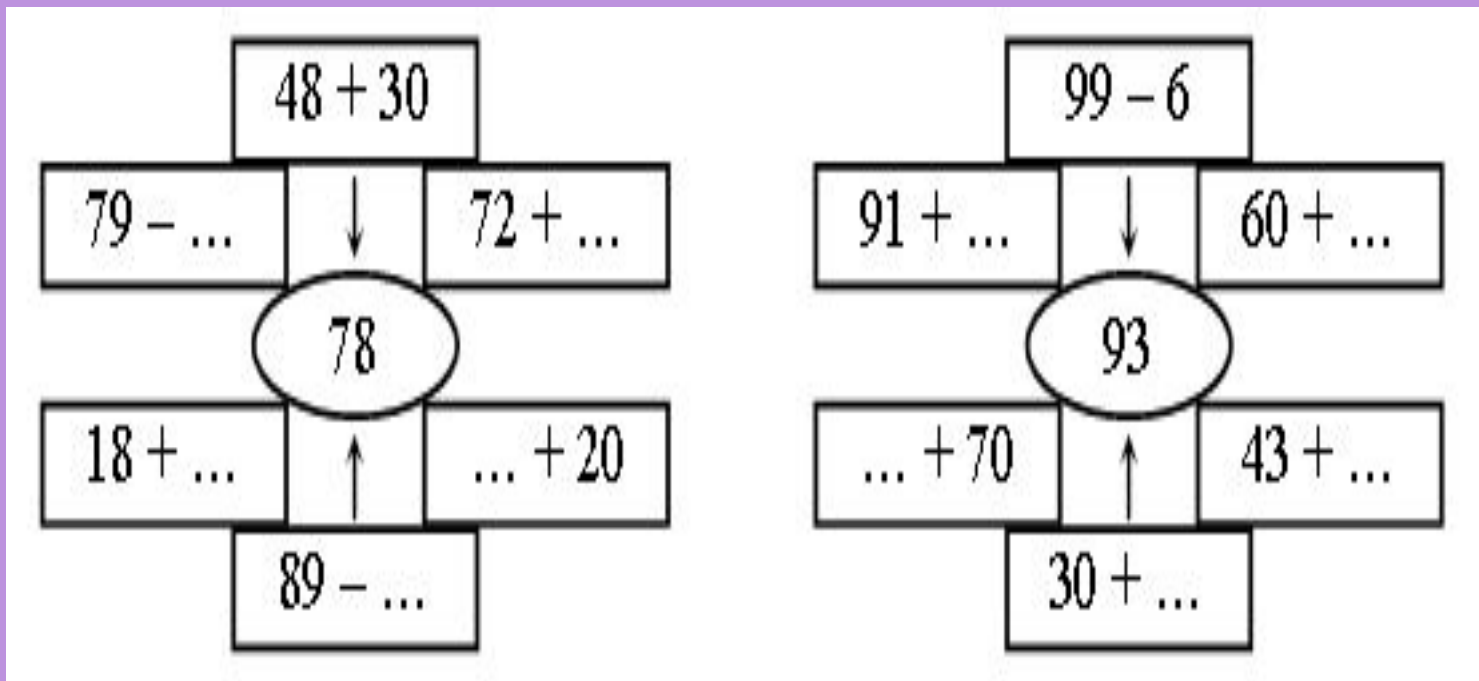
### УСТНЫЙ СЧЁТ


Составила: Сарнецкая Л.М.,  
учитель начальных классов  
МБОУ «СОШ№26»





Разгадайте правило, по которому составлены схемы, и вставьте пропущенные числа:





**Разгадайте закономерность и  
продолжите ряды чисел:**

а) 99, 78, 57, ... , ... , ... ;

б) 15, 30, 45, ... , ... , ... ;

в) 1, 11, 23, 37, ... , ... , ... ;

г) 12, 24, 36, ... , ... , ... ;

д) 87, 76, 65, ... , ... , ... .





**Вставьте цифры в «окошки», чтобы  
получились верные равенства:**

$$7 \dots - 4 = 70$$
$$62$$

$$\dots 8 - 40 = 38$$

$$\dots 2 + 20 =$$

$$6 \dots - 5 = 64$$

$$\dots 3 + 20 = 83$$

$$5 \dots + 20 = 74$$

$$5 \dots + 3 = 58$$


$$\dots 7 - 50 = 47$$

$$7 \dots + 20 = 93$$

$$4 \dots + 6 = 48$$


$$\dots 2 + 70 = 92$$

$$\dots 9 - 60 = 19$$





Сколько на чертеже:  
кругов ; квадратов ; треугольников ?



# Игра «Стрелок».

Составьте выражения по схеме:

$$\square + \square = 100.$$

