





Устный счет по математике 2 класс



Вопрос и ответ 
Правильно или неправильно 



Найди периметр треугольника со сторонами 12, 14, 15 см. Ответ: 41

ПРАВИЛЬНО или
НЕПРАВИЛЬНО?



Мальчик прошел по дороге 7 км, а на велосипеде проехал 27 км.

Сколько всего километров прошел и проехал мальчик?

Ответ: 34 км.

ПРАВИЛЬНО или
НЕПРАВИЛЬНО?



На сколько 18 меньше 36?

Ответ: на 17.

ПРАВИЛЬНО или
НЕПРАВИЛЬНО?



Уменьшаемое 37, вычитаемое 19. Чему
равна разность? Ответ: 18.

ПРАВИЛЬНО или
НЕПРАВИЛЬНО?



Переведи в см 2дм1см.

Ответ: 20 см.

ПРАВИЛЬНО или
НЕПРАВИЛЬНО?



У семи братьев по одной сестре. Сколько
всего сестёр? Ответ: 7 сестер.

ПРАВИЛЬНО или
НЕПРАВИЛЬНО?



На яблоне было 53 яблока, а груш на 47 меньше. Сколько всего было груш и яблок?

Ответ: 100 ф.

ПРАВИЛЬНО или
НЕПРАВИЛЬНО?



На сколько 59 больше 32?

Ответ: на 27.

ПРАВИЛЬНО или
НЕПРАВИЛЬНО?



Сколько ушей у трёх мышей?

Ответ: 3 уха.

ПРАВИЛЬНО или
НЕПРАВИЛЬНО?




Первое слагаемое 39, а второе на 17 больше. Чему равно второе слагаемое?

Ответ: 56

ПРАВИЛЬНО или
НЕПРАВИЛЬНО?





Подготовила
учитель ГБОУ
СОШ № 2088
«Грайвороново»
Кузина Е. Б.

