


Устный счет

9 5 4 6 8 2 10
1 3 7





9 5 1 3 7

а ш м и к



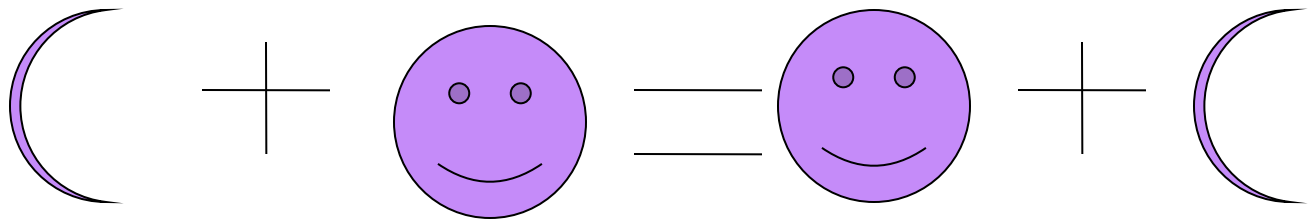
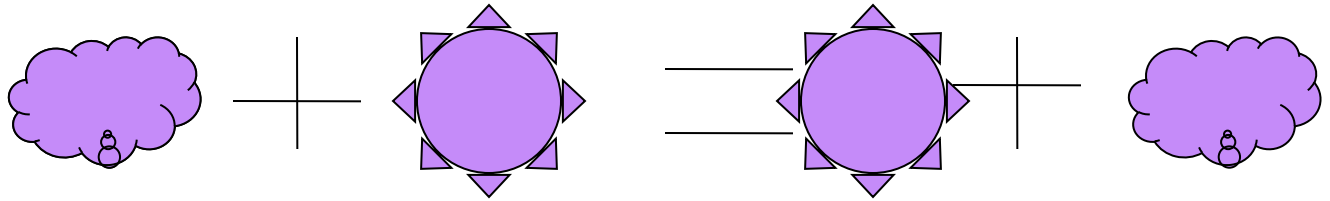
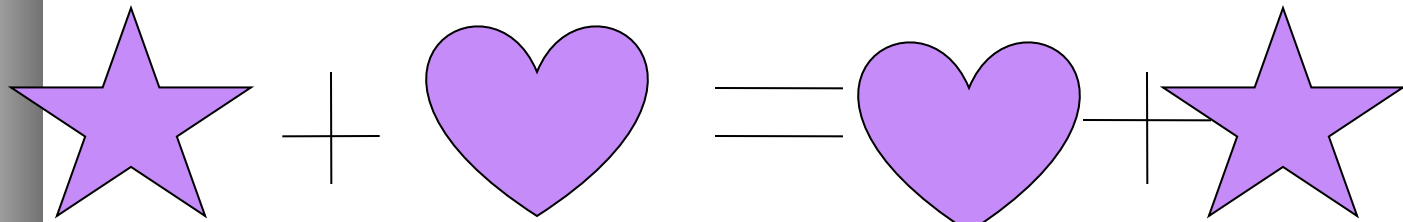
1 3 5 7 9



М и ш к а

Загадка от Маши!!!





ФИЗМИНУТКА



Правильная посадка ученика!





ПРОВЕРЬ

$$7+3= 10$$

$$9+0= 9$$

$$2+5= 7$$

$$4+2= 6$$

$$3+1= 4$$

$$2+3= 5$$



РЕШИ ЗАДАЧИ

На одной полке в шкафу 1 книга, а на другой – 7 книг.
Сколько всего книг на полках?

$$1 + 7 = 8 \text{ (кн) - всего}$$

РЕШИ ЗАДАЧУ

В одном кармане 7 рублей, а в другом — на 1 рубль больше. Сколько рублей во втором кармане?

$$7 + 1 = 8 \text{ (руб)} - \text{ всего}$$



Начерти фигуры

Круг

Квадрат

Овал

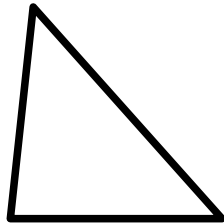

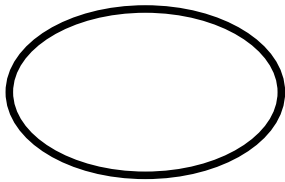


Ромб

Прямоугольник

Треугольник



Проверь



Проверим какие вы ловкие и быстрые!



ПРОВЕРЬ



МОЛОДЦЫ!

