







**Устный счёт  
для урока математики  
2кл**


 $20 - 3$

 $15 - 9$


 $13 - 8$


 $17 - 11$

 $36 - 30$

 $39 - 34$

 $28 - 22$

 $12 - 6$

 $14 - 8$

 $12 - 5$

Микки Маус играл в баскетбол. Он забросил только те мячи, возле которых находятся примеры, где в результате вычитания получится

**6**

Посчитай примеры и узнай, какие мячи забросил Микки Маус.



17 20 - 3

15 - 9

5 13 - 8

17-11

36-30

5 39-34

28-22

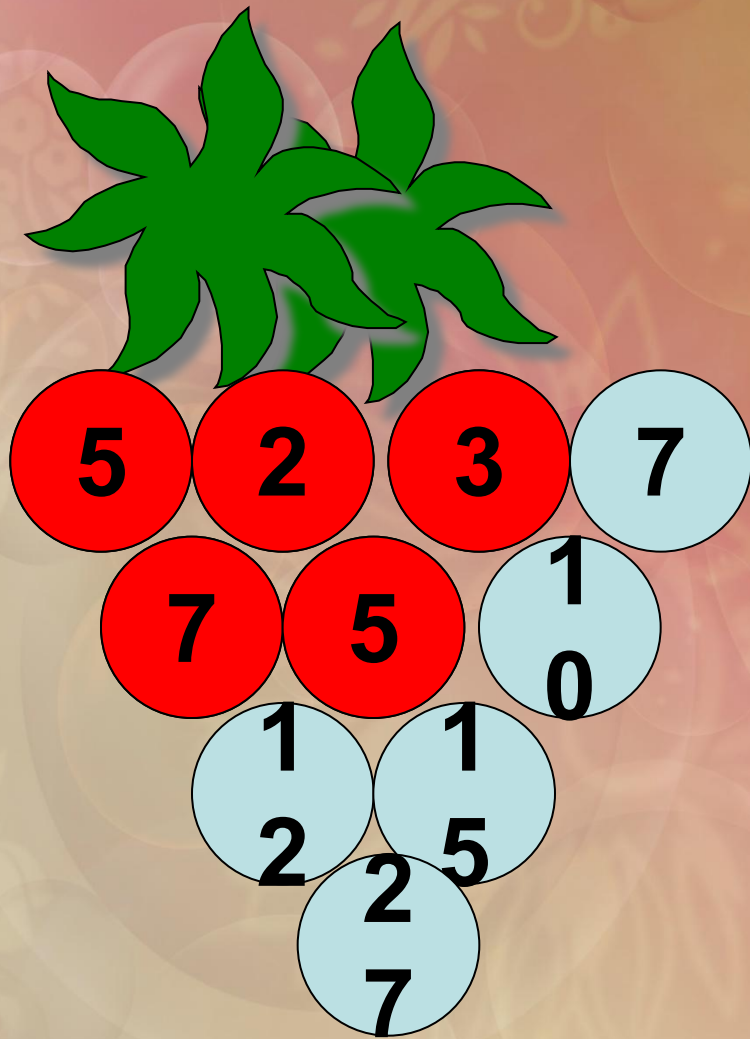
12 - 6

14 - 8


7 12 - 5



|        |
|--------|
| 14 - 8 |
| 12 - 6 |
| 28-22  |
| 36-30  |
| 17-11  |
| 15 - 9 |



Посмотри, как  
заполнена гроздь  
винограда числами:  
вверху два  
слагаемых, внизу  
между ними их  
сумма.



По тому же правилу заполни  
числами эти грозди.



**Определи какие примеры  
записаны в виде суммы  
разрядных слагаемых. Они  
останутся на облаках, а  
другие прольются дождём на  
землю. Тучки развеются, и я  
смогу добраться до цветка.**





$$29 = 20 + 9$$

$$37 = 35 + 2$$

$$11 = 11 + 0$$

$$48 = 40 + 8$$

$$63 = 3 + 60$$

$$76 = 60 + 16$$

$$50 = 40 + 10$$

$$95 = 90 + 5$$

$$37 = 35 + 2$$





$$29 = 20 + 9$$

$$11 = 11 + 0$$

$$48 = 40 + 8$$

$$63 = 3 + 60$$

$$76 = 60 + 16$$

$$50 = 40 + 10$$

$$95 = 90 + 5$$

$$11 = 11 + 0$$

$$37 = 35 + 2$$







$$29 = 20 + 9$$
$$48 = 40 + 8$$

$$95 = 90 + 5$$
$$76 = 60 + 16$$
$$50 = 40 + 10$$
$$63 = 3 + 60$$

$$11 = 11 + 0$$
$$37 = 35 + 2$$





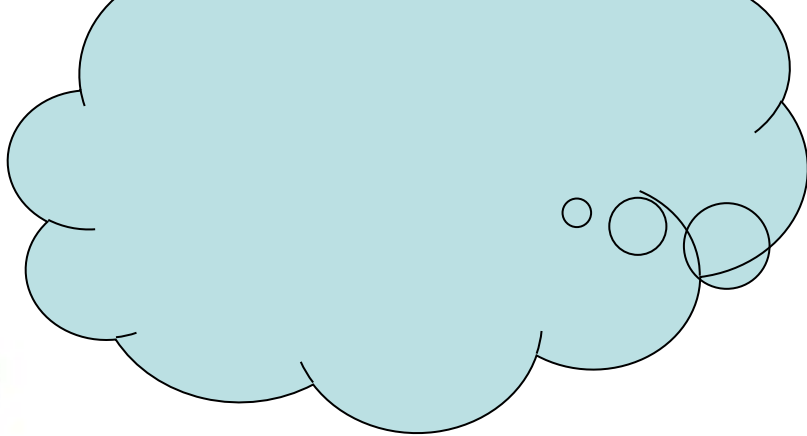
$$29 = 20 + 9$$
$$48 = 40 + 8$$

$$95 = 90 + 5$$
$$76 = 60 + 16$$
$$50 = 40 + 10$$
$$63 = 3 + 60$$


$$11 = 11 + 0$$
$$37 = 35 + 2$$

$$76 = 60 + 16$$






$$29 = 20 + 9$$
$$48 = 40 + 8$$

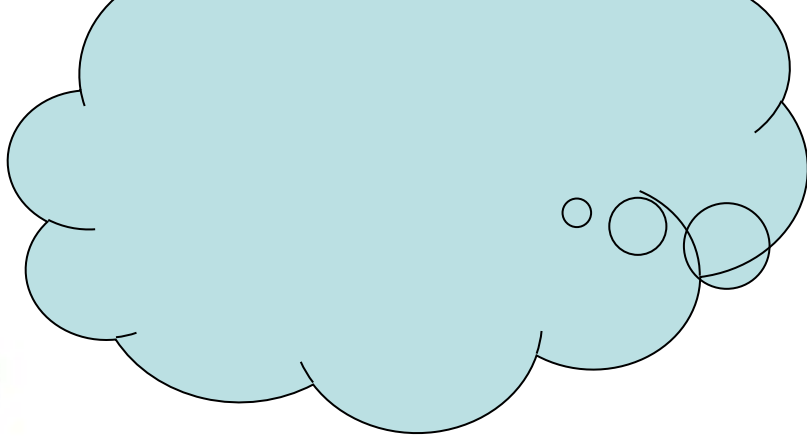


$$95 = 90 + 5$$
$$50 = 40 + 10$$
$$63 = 3 + 60$$



$$11 = 11 + 0$$
$$37 = 35 + 2$$

$$50 = 40 + 10$$
$$76 = 60 + 16$$



$$29 = 20 + 9$$

$$48 = 40 + 8$$

$$95 = 90 + 5$$

$$63 = 3 + 60$$

апрю!

$$11 = 11 + 0$$

$$37 = 35 + 2$$

$$50 = 40 + 10$$

$$76 = 60 + 16$$



Замени числа суммой  
разрядных слагаемых.

$$89 = 80 + 9$$

$$74 = 70 + 4$$

$$93 = 90 + 3$$

$$68 = 60 + 8$$

Молодцы!!!