



УСТНЫЙ СЧЕТ

1класс

СОСТАВИЛА: МАЛЮТА И.Н.
УЧИТЕЛЬ НАЧАЛЬНЫХ КЛАССОВ
МОУ-СОШ №1 ИМ.ФАДЕЕВА
СТ.КАЛИНИНСКОЙ
КАЛИНИНСКОГО РАЙОНА
КРАСНОДАРСКОГО КРАЯ

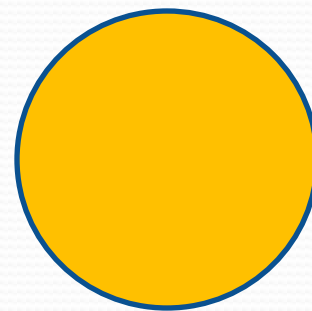




**РЕБЯТА,
ПРИГЛАШАЕМ ВАС НА
МАТЕМАТИЧЕСКУЮ
РАЗМИНКУ.**





**По каким
признакам
меняются
фигуры в
ряду?**





НАЙДИ ОШИБКУ.



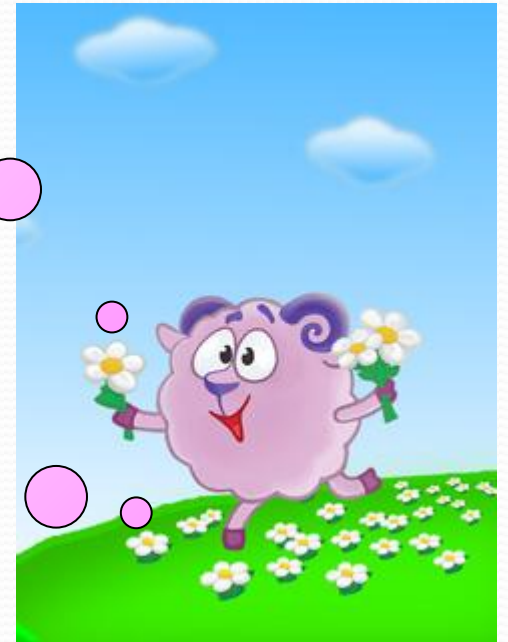
**Увеличь 4
на 2.**

**Проверь
6**








**Уменьши
8 на 4.**

**Проверь
4**



СОБЕРИ ЯБЛОКИ В КОРЗИНУ С ОТВЕТОМ 8





**РАСПОЛОЖИ ЧИСЛА
В ПОРЯДКЕ
ВОЗРАСТАНИЯ**

9 4 6 1 7 3 0



**КАКИЕ ЧИСЛА
НУЖНО ВСТАВИТЬ,
ЧТОБЫ ПОЛУЧИЛСЯ
ЧИСЛОВОЙ РЯД**

0 1 3 4 6 7 9



Проверь

.

0 1 **2** 3 4 **5** 6 7 **8**

9



**НАЗОВИ
ПРЕДЫДУЩЕЕ
ЧИСЛО.**

2

5

8



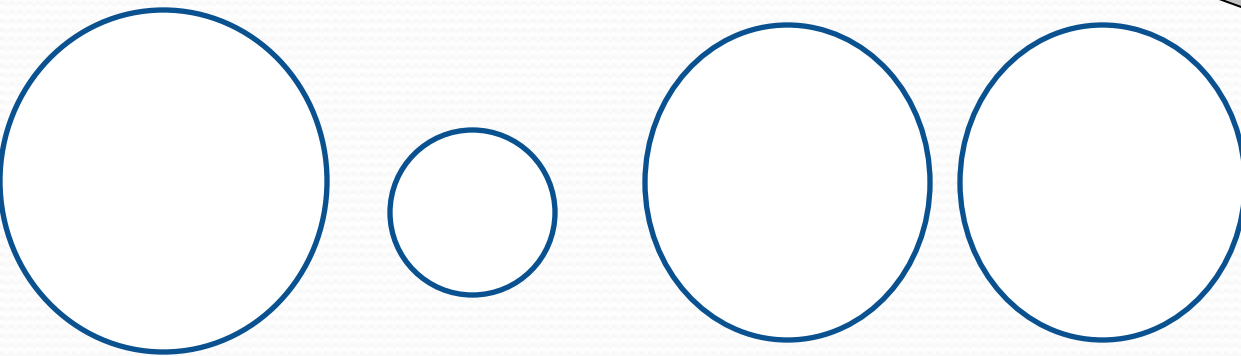
**НАЗОВИ
ПОСЛЕДУЮЩЕЕ
ЧИСЛО.**

2

5

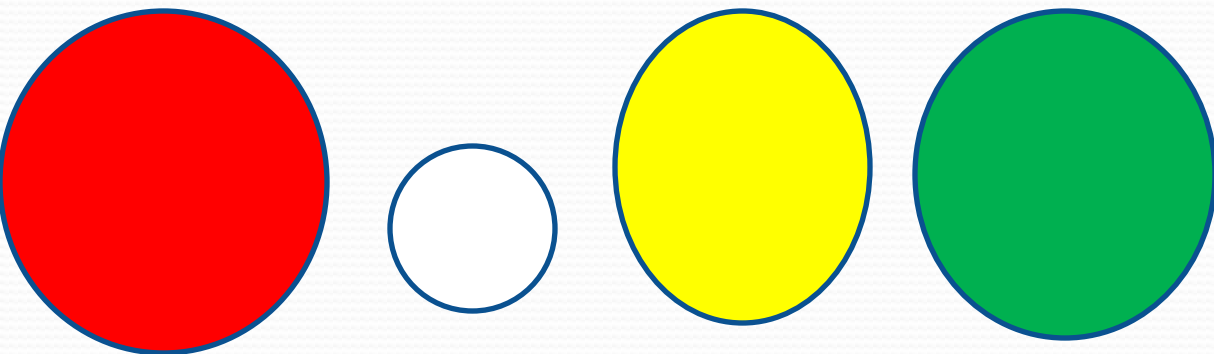
8

РАСКРАСЬ ФИГУРЫ



Раскрась кружки так, чтобы
маленький был между жёлтым и
красным, а жёлтый был рядом с
зелёным

РАСКРАСЬ ФИГУРЫ



Раскрась кружки так, чтобы маленький был между жёлтым и красным, а жёлтый был рядом с зелёным

Игра «цепочка»

$$4+3-2-1+2+4-10 = 0$$



www.smeshariki.ru

**СПАСИБО! ВЫ
СПРАВИЛИСЬ!**



Пора отдохнуть.

Может рыбку поймать

