

Устный счёт

1 класс



Решаем задачи.

Мама принесла коробку конфет. Дочери она дала 8 конфет и 5 конфет сыну. Сколько конфет было в коробке, если у неё осталось 4 конфеты?



Решаем задачи.

Для уроков труда купили цветную бумагу. Когда для изготовления аппликации использовали 6 листов красной бумаги и 8 листов зелёной бумаги, то осталось 5 листов. Сколько листов цветной бумаги купили?




Решаем задачи.

Карлсон за завтраком съел 8 ватрушек с повидлом, а за обедом на 3 ватрушки меньше. Сколько ватрушек съел Карлсон за завтраком и обедом?



Решаем задачи.

У продавца было 15 воздушных шариков. Винни-Пух купил 6 шариков, а Пятачок 3 шарика. Сколько шариков осталось у продавца?



Решаем задачи.

Высота чашки 7 см, стакан на 4 см выше чашки. Какова будет высота этих приборов, если чашку поставить на стакан?



Решаем задачи.

Хозяйка купила 5 кг черники, а клюквы на 3 кг больше, чем черники. Смородины хозяйка купила столько, сколько черники и клюквы вместе. Сколько кг смородины купила хозяйка?



черника



клюква



**красная
смородина**

Решаем задачи.

Дядя Фёдор нашёл 7 грибов, а Шарик 6 грибов. Из 8 грибов кот Матроскин сварил грибной суп. Сколько грибов осталось?



Решаем задачи.

**Модница паучиха купила себе сапожки.
Сколько правых сапожек она купила?**



Решаем задачи.



Огурец весит как два помидора, а помидор весит как три редиски. На правой чашке весов огурец. Сколько редисок надо положить на левую чашу весов?



=



=



Решаем задачи.

У загадочного животного две ноги правые, две левые, две передние, две задние. Сколько ног у загадочного животного?



Решаем задачи.

Индюк на 2 кг тяжелее утки, а утка на 2 кг тяжелее петуха. Масса петуха 2 кг. Найдите массу индюка?



Решаем задачи.

Два мальчика и две девочки купили 10 леденцов, причём каждый купил разное количество. Сколько леденцов купил каждый ребёнок, если вместе мальчики купили столько же леденцов, сколько обе девочки?



В корзине лежит несколько яблок. Их меньше 10. Сколько яблок лежит в корзине, если все их можно раздать поровну двум или трем детям?




В стакане чая растворили 10 граммов сахара. Миша выпил полстакана. Сколько сахара выпил Миша?




Два товарища шли в школу во вторую смену. Они встретили трёх товарищей – учеников первой смены. Сколько всего товарищей шли в школу?



На столе лежат три карандаша разной длины. Как переложить из середины самый длинный карандаш, не прикасаясь к нему?



На столе лежат три карандаша разной длины. Как переложить из середины самый длинный карандаш, не прикасаясь к нему?




Плитка шоколада состоит из 6 квадратных долек. Сколько разломов нужно сделать, чтобы поделить эту плитку на отдельные дольки?



Катя, Миша, Лена и Таня стоят на дорожке. Миша между Таней и Катей, а Лена справа от Кати. Укажите на рисунке как стоят дети.



Катя, Миша, Лена и Таня стоят на дорожке. Миша между Таней и Катей, а Лена справа от Кати. Укажите на рисунке как стоят дети.



Таня

Миша

Катя

Лена

**Из книги выпало несколько страниц.
На первой выпавшей странице стоит
номер 5, а на последней 12. Сколько
листов выпало из книги?**

