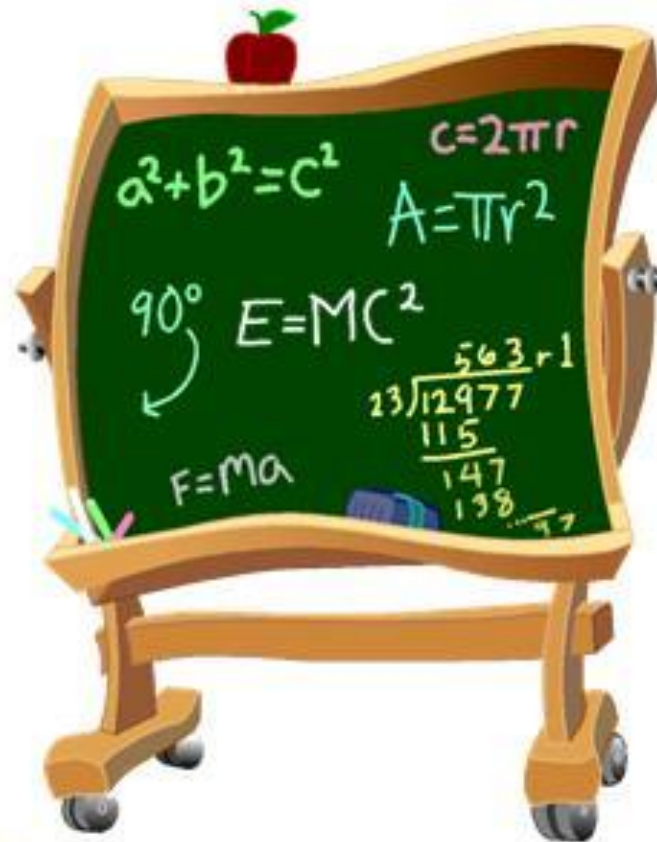





УСТНЫЙ СЧЁТ





$$8+3$$



$$10+6$$




$$6+6$$




$$9+8$$




$$9+6$$



$$9+9$$



$$6+7$$



$$7+7$$

11 12 13 14 15 16 17 18 19 20

Вспомните правила!

Чтобы найти неизвестное
слагаемое, надо из.....

... к разности прибавить
вычитаемое.

Чтобы найти неизвестное
вычитаемое, надо из.....

...суммы вычесть известное
слагаемое.

Чтобы найти неизвестное
уменьшаемое, надо к.....

...уменьшаемого вычесть
разность



Найди число, в котором 8 дес.

10

80

9

12

45

Найди число, в котором
4 дес. 8 ед.

40

84

48

**Вставь пропущенное число:
80...100.**

90

31

49

**Закончи фразу: длина
спички 40...**



М

ММ

СМ

Закончи фразу: толщина книги 7...



СМ

ММ

ДМ

1 дм = ... см = ... мм?

1 дм=10см=100мм

1 дм=100см=10 мм

1 рубль =копеек?

100 копеек

10 копеек

**Длина комнаты 5м, а ширина
на 2м меньше. Чему равна
ширина?**

3м

7м

3дм

Задача 1. (данная)

Было – 8 к.

Взяли – 3 к.

Осталось - ? к.

$$8 - 3 = 5 \text{ (к.)} - \text{осталось}$$

Задача 2. (обратная данной)

Лежало – ? к.

Взяли – 3 к.

Осталось – 5 к.

$$5 + 3 = 8 \text{ (к.)} - \text{лежало}$$

Задача 3. (обратная данной)

Лежало – 8 к.

Взяли – ? к.

Осталось – 5 к.

$$8 - 5 = 3 \text{ (к.)} - \text{взяли}$$